

# 新北市立鳳鳴國民中學（七年級）（七下）補考題庫

歷史 科試卷 七年 班 號 姓名：\_\_\_\_\_

1. (C) 將臺灣、澎湖割讓給日本，是因清朝下列哪一場戰役失敗所導致的結果？  
(A)鴉片戰爭 (B)中法戰爭  
(C)甲午戰爭 (D)牡丹社事件。
2. (A) 清帝國在戰敗後，將臺灣、澎湖等地割讓給日本。在臺灣的清帝國官員與仕紳為反抗日本的接收，決定成立哪一組織？  
(A)臺灣民主國 (B)臺灣府  
(C)荷蘭聯合東印度公司 (D)總督府。
3. (D) 日治時期，臺灣曾流行「第一憨，種甘蔗予會社磅」的諺語，此反映出臺灣社會的何種現象？  
(A)蔗農人數過多 (B)甘蔗產量大增  
(C)甘蔗種植不易 (D)蔗農備受壓榨。
4. (B) 「臺灣總督得於其轄區內，頒布具有法律效力之命令。」這是 1896 年日本頒布的「六三法」第一條條文，由此條文內容來看，「六三法」對於當時臺灣代表的意義為何？  
(A)從此臺灣人可以自主管理  
(B)形成總督專制的統治體制  
(C)臺灣總督須具備法學背景  
(D)視臺灣為日本內地的延長。
5. (D) 1908 年縱貫鐵路完工，阿明想從鶯歌搭火車到恆春探望好友。但他最遠只能搭火車到何處下車，再轉搭汽車到達目的地？  
(A)新竹 (B)屏東 (C)臺南 (D)高雄。
6. (D) 有位作家說到他在 1940 年代擔任學校教員，校長在朝會訓話時一再強調「要為天皇而死」，全體小學生立正不能動，然後不斷重複踏步走操場。根據上述，這是受到哪一戰爭的影響？  
(A)甲午戰爭 (B)第一次世界大戰  
(C)霧社事件 (D)1937 年中日戰爭。
7. (C) 林爺爺年輕時所擔任的職務有下列幾項工作：鎮壓抗日分子、警戒暴風雨、協助警察搜查犯人、救護人命等。根據上述，林爺爺所擔任的是下列何種職務？  
(A)保正 (B)甲長 (C)壯丁團團員 (D)警察。
8. (D) 日本統治期間，統治者運用警察制度嚴密控制臺灣社會，當時原住民頭目因不滿日本官吏高壓統治，起而率眾抗爭，爆發了下列哪一事件？  
(A)劉永福抗日 (B)牡丹社事件  
(C)噶吧哖事件 (D)霧社事件。
9. (B) 民國 40、50 年代，情治單位往往不依法律程序逮捕民眾，也未經正常、公開的司法審判便予以定罪，造成人心惶惶不安，史稱「白色恐怖」。此一歷史現象與當時的哪一統治體制有關？  
(A)君主體制 (B)戒嚴體制  
(C)憲政體制 (D)民主體制。
10. (C) 下列何者負責設計、興建嘉南大圳？  
(A)郭錫瑠 (B)張達京  
(C)八田與一 (D)後藤新平。
11. (D) 日本統治臺灣五十年，治臺政策分三個時期：(甲)皇民化運動時期、(乙)無方針主義時期、(丙)內地延長主義時期，請依時間排列出正確的順序？  
(A)乙甲丙 (B)甲乙丙 (C)丙乙甲 (D)乙丙甲。
12. (C) 日治初期，臺灣的財政常需要日本由國庫撥款補助，因此曾有「臺灣賣卻論」的出現，提議將臺灣以一億日元賣給法國。後來總督府實行何種措施，使臺灣財政狀況大為改善，接受日本財政補助的情況逐年減少？  
(A)提高貿易關稅 (B)統一各式貨幣  
(C)推行專賣制度 (D)開放臺日貿易。
13. (A) 為了有效防止傳染病，日本政府從治臺初期，就積極建立各項西式醫療與公共衛生設施。尤其透過下列哪一制度實施環境清潔等工作，使臺灣的衛生水準大幅度提高？(A)保甲制度  
(B)標準時間制 (C)司法制度 (D)選舉制度。
14. (D) 日治時期，總督府對鴉片實施漸禁政策的原因為何？(A)吸食人口太多，怕引起民眾抗議  
(B)鴉片對身體無害，無禁止的必要  
(C)企圖抑制臺灣的人口快速成長  
(D)可從鴉片專賣之中賺取大量利潤。
15. (D) 下列哪一個是臺灣歷史上的第一個合法政黨？  
(A)中國國民黨 (B)民主進步黨  
(C)中國民主黨 (D)臺灣民眾黨。
16. (C) 請問：使 1930 年代以後臺灣發電設備容量急遽增加的設施為何？  
(A)恆春的核能發電廠 (B)高雄的火力發電廠  
(C)日月潭水力發電廠 (D)大甲溪水力發電廠。
17. (B) 民國 76 年，下列何者解除戒嚴，此後政府開放黨禁、報禁，並保障人民的集會、結社等自由？  
(A)陳誠 (B)蔣經國 (C)李登輝 (D)陳水扁。

# 新北市立鳳鳴國民中學（七年級）（七下）補考題庫

歷史 科試卷 七年 班 號 姓名：\_\_\_\_\_

18. (C) 臺灣是在下列哪一場戰爭結束之後，臺灣正式脫離日本的殖民統治？  
(A) 第一次世界大戰 (B) 第二次世界大戰  
(C) 珍珠港事變 (D) 國共內戰。
19. (B) 民國 39 年，下列哪一場戰爭爆發，美國決定派遣艦隊協防臺灣海峽，並開始提供美援？  
(A) 國共內戰 (B) 韓戰  
(C) 珍珠港事變 (D) 越戰。
20. (C) 戰後初期，臺灣知識分子對於「回歸祖國」十分興奮，但後來發生二二八事件，使臺灣人民對政府失去信心，當時擔任「臺灣省行政長官」的是下列何人？  
(A) 陳誠 (B) 蔣中正 (C) 陳儀 (D) 蔣經國。
21. (B) 有關日治時期的敘述，下列何者正確？  
(A) 日本有根絕臺人吸食鴉片的決心  
(B) 知識分子曾發起「臺灣議會設置請願運動」  
(C) 臺北帝國大學是現在三峽的臺北大學前身  
(D) 日治時期臺灣人口有減少的趨勢。
22. (D) 專賣局緝私組人員查獲林江邁販賣私菸，因而沒收私菸與現金，並毆打林婦致傷，引起眾怒。緝私組員開槍誤殺圍觀民眾，並利用混亂情勢逃逸，群眾擁向警察局，要求逮捕凶犯。這是哪一事件的敘述？(A) 白色恐怖 (B) 雷震事件 (C) 美麗島事件 (D) 二二八事件。
23. (C) 「在理念上堅持『三民主義統一中國』，中華民國為中國唯一合法代表；致力於與非邦交國的經濟和文化交流。」上述是對哪一政策的描述？  
(A) 鞏固外交 (B) 務實外交 (C) 彈性外交 (D) 發財外交。
24. (B) 在中華民國政府頒布政策後，原住民原有的命名方式被破壞，且因其國語能力不佳或行政人員的缺失，導致同一家庭成員出現姓氏不同的問題。請問：上述中華民國政府所頒布的政策為何？  
(A) 說國語 (B) 改用漢姓  
(C) 設山地鄉 (D) 劃定原住民保留地。
25. (B) 臺灣文化協會與推動臺灣議會設置請願運動的成員重疊甚多，是因為當時臺灣知識分子主要的訴求為何？  
(A) 革命推翻日本政權 (B) 政治請願爭取權利  
(C) 促使日本文化扎根 (D) 經濟上採不合作運動。
26. (B) 「主張民主政治必須要有反對黨，他曾想結合來自中國大陸的民主人士與臺灣本土的政治精英，籌組中國民主黨，結果遭到執政者鎮壓。」上述的應是指何人？  
(A) 陳儀 (B) 雷震 (C) 林獻堂 (D) 蔣經國。
27. (B) 設置加工出口區，輸出食品、成衣等輕工業產品，中小企業因而蓬勃發展，使臺灣逐漸轉變為以工業為主的經濟型態，這是哪一項政策實行的結果？(A) 進口替代 (B) 出口導向 (C) 十大建設 (D) 九年國民義務教育。
28. (C) 臺灣在解嚴之後，積極展開對中華人民共和國的相關交流事務，為了處理兩岸問題，臺灣成立了什麼官方機構，專門處理相關事宜？  
(A) 海協會 (B) 海基會 (C) 陸委會 (D) 國臺辦。
29. (C) 在臺灣經濟轉型的過程中，農村、部落、山村、漁村面臨許多重大衝擊，但是並不包括下列何者？(A) 人口外移 (B) 人口老化 (C) 人口過剩 (D) 隔代教養。
30. (A) 中華民國歷史上，1970 年代的斷交潮被譽為是雪崩式斷交潮，1970 年尚有 66 個邦交國，至 1980 年只剩下 22 個邦交國。請問：關鍵的 1970 年代，發生甚麼事情嚴重影響臺灣的外交關係？  
(A) 退出聯合國  
(B) 臺灣製造核武  
(C) 實施戒嚴  
(D) 簽訂《中美共同防禦條約》。



# 新北市立鳳鳴國民中學（七年級）（七下）補考題庫

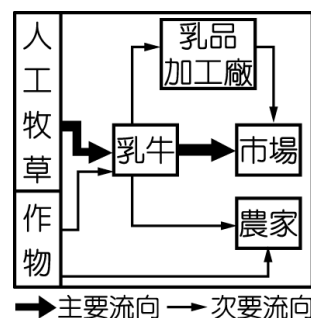
地理 科試卷 七 年 班 號 姓名：\_\_\_\_\_

- (B)通常判別人口組成時，習慣將哪一個年齡結構的人口稱為「人力資源」？  
(A) 0～14 歲 (B) 15～64 歲 (C) 65 歲以上  
(D) 0～14 歲，65 歲以上。
- (B)近年有不少的臺灣人移民到加拿大，這是屬於何種人口移動？  
(A)國內遷移 (B)國際遷移 (C)暫時性遷移  
(D)強迫性遷移。
- (C)臺灣工業發展大致可分為三階段：(甲)重工業 (乙)輕工業 (丙)高科技工業。其發展先後順序為何？ (A)甲乙丙 (B)甲丙乙 (C)乙甲丙  
(D)乙丙甲。
- (A)附圖為臺灣的人口分布點圖。請由圖中資料判斷，臺灣人口分布具有何種特色？  
(A)集中於大都市 (B)南部多於北部 (C)東部多於西部 (D)集中於高山區。



- (D)下列哪一項因素容易造成人口移動的「拉力」？  
(A)耕地狹窄，人口過剩 (B)資源貧乏，謀生不易 (C)戰爭、災害頻仍 (D)物產豐富，社會治安良好。
- (C)一般而言，產業可分為三級，以下何者屬於第二級產業？  
(A)銀行業 (B)畜牧業 (C)農產加工業 (D)運輸業。
- (C)畜牧方式因地理環境不同而異。依臺灣的環境條件而言，其畜牧大都屬於何種方式？  
(A)游牧 (B)山牧季移 (C)欄牧 (D)放牧。
- (B)「矽谷」是美國高科技產業最早興起的地方，下列哪個縣市最適合比喻為「臺灣矽谷」？  
(A)臺北市 (B)新竹市 (C)臺中市 (D)臺南市。
- (D)臺北文山的貓空，因位處溫暖多雨、排水良好的山坡地，具有種植何種農作物的條件，而成為觀光所在，尤其搭乘纜車居高臨下，一畦畦的作物更是美不勝收？ (A)稻米 (B)甘蔗 (C)花卉  
(D)茶葉。
- (C)「農無閒年，地無閒田」是臺灣農業的最佳寫照，這句話最能顯示下列哪一項農業特色？ (A)農業技術先進 (B)農產品商品化 (C)農業集約度高  
(D)農村人口老化。
- (A)人口金字塔為討論人口結構時最常使用的圖表，請問：在繪製人口金字塔圖時，必須要蒐集哪些重要資料？(甲)年齡分布狀況 (乙)男女性別比例 (丙)最高教育程度 (丁)種族分布狀況  
(A)甲乙 (B)丙丁 (C)乙丙 (D)甲丙。

- (C)民國 80 年代以後，臺灣的傳統產業多遷往東南亞地區，最主要是受到臺灣何項產業發展條件的變化所致？  
(A)交通壅塞 (B)土地不足 (C)工資上漲  
(D)技術落後。
- (D)宇竣到桃園國際機場準備出國，發現有許多身穿長袍、包著頭巾的人進入祈禱室內祈禱。請問：這是屬於何種人的宗教信仰？ (A)閩南人 (B)客家人 (C)原住民族 (D)穆斯林。
- (D)隨著國內外經濟環境的變遷，臺灣工業也逐步轉型，未來發展趨勢將以下列哪一項工業類型為主力？  
(A)勞力密集工業 (B)能源密集工業  
(C)原料密集工業 (D)技術密集工業。
- (A)附圖為臺灣某一產業的活動流程，請由圖判斷該產業應該為何？ (A)酪農業 (B)游牧業  
(C)漁業 (D)林業。

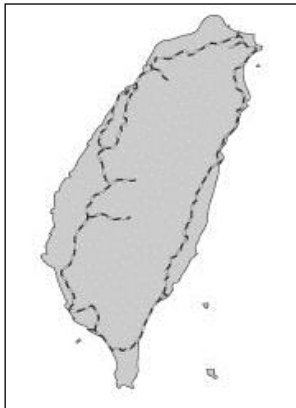


- (B)人口由鄉村向都市集中的過程稱為什麼？  
(A)現代化 (B)都市化 (C)工業化 (D)鄉村化
- (D)若從美國運送一千噸的鋼鐵到臺灣，最適合採用哪一種交通方式？  
(A)空運 (B)鐵路 (C)公路 (D)海運。
- (B)為了紓解繁忙的城市內部交通，世界上許多大都會都利用下列何種交通方式？  
(A)航空運輸 (B)捷運系統 (C)高速公路  
(D)高速鐵路。
- (D)臺灣離島眾多，其中哪兩個島嶼因為地理位置特殊，成為臺灣重要的軍事前線基地？ (A)澎湖、小琉球 (B)綠島、蘭嶼 (C)龜山島、釣魚臺  
(D)金門、馬祖。
- (C)從空中鳥瞰宜蘭平原，會發現房舍分布的密集程度遠較嘉南平原低，影響宜蘭平原形成「散村」景觀最主要因素為何？ (A)治安良好 (B)交通便利 (C)水源充足 (D)宗教信仰。
- (A)花蓮、臺東的工業發展較其他地區落後，近年來則積極發展觀光活動，為當地塑造出截然不同的環境特色。東部區域的觀光活動中，以哪一種文化發展最具有地方特色？ (A)原住民族文化 (B)都市文化 (C)客家文化 (D)宗教文化。
- (D)雲林縣、嘉義縣內部分鄉村地區目前面臨人口大量外移的情況，對當地發展極為不利。請問：這些地區人口外流最主要的因素可能為下列何者？  
(A)人口密度過高 (B)環境汙染嚴重  
(C)糧食供應不足 (D)就業機會較少。
- (B)臺灣目前有多個國際商港，與世界各國從事通商貿易。其中貨物吞吐量最大的是哪一個港口？  
(A)基隆港 (B)高雄港 (C)臺中港 (D)花蓮港。

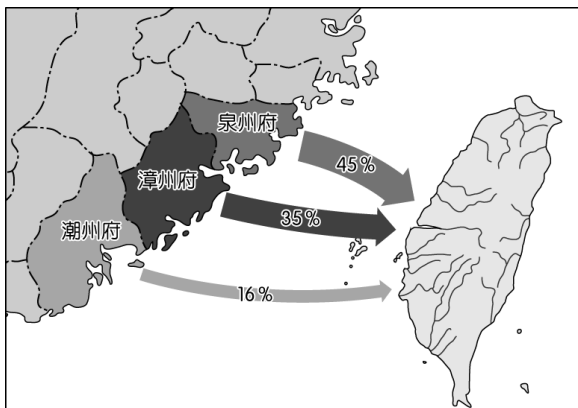
# 新北市立鳳鳴國民中學（七年級）（七下）補考題庫

地理 科試卷 七 年 班 號 姓名：\_\_\_\_\_

24. (A)臺灣本島的四個區域中，哪一個區域因為教育資源較為豐富，而且工商業較為發達，因此教育程度較其他區域高？  
(A)北部區域 (B)中部區域 (C)南部區域  
(D)東部區域。
25. (C)根據蘭嶼達悟族口述歷史：祖先數百年前划著大型拼板舟從菲律賓巴丹群島遷徙至蘭嶼島，這幾年達悟族人積極尋根，探查祖先的貿易航線，兩島的語言相似度高達60%，還有許多相同的文化。請問：蘭嶼與巴丹群島的居民皆屬於下列哪一民族？ (A)漢族 (B)拉丁民族 (C)南島語族 (D)藏族。
26. (A)目前因婚姻關係來臺灣的新移民已超過50萬人，政府透過許多方式協助他們適應臺灣社會，例如建置數位資訊平臺，以多國語文的網頁介面，提供數位學習及文化交流的空間。上述多國語文最可能涵括下列何者？ (A)越南文、印尼文 (B)日文、德文 (C)阿拉伯文、土耳其文 (D)西班牙文、葡萄牙文。
27. (C)附圖為臺灣鐵路分布圖。圖中路線分布的形狀，主要受到下列何種因素影響？ (A)河川流向 (B)雨量分布 (C)山脈走向 (D)資源多寡。



28. (D)運輸方式有陸運、水運、空運、管線運輸等，請問：將荷蘭生產的鬱金香花卉運送到臺灣，最適合的交通方式為何？ (A)鐵路 (B)公路 (C)海運 (D)空運。
29. (B)運輸方式有陸運、水運、空運、管線運輸等，請問：如果要宅配團購美食到某一山區住戶，最適合的交通方式為何？ (A)鐵路 (B)公路 (C)海運 (D)空運。
30. (B)多元文化來自於不同族群的生活特色，附圖為臺灣某時期的人口移動示意圖，由圖判斷，會帶來哪些族群的文化特色？ (A)平埔族群、高山族 (B)閩南人、客家人 (C)新住民、日本人 (D)原住民族、平埔族群。





# 新北市立鳳鳴國民中學（七年級）（七下）補考題庫

公民 科試卷 七 年 班 號 姓名：\_\_\_\_\_

1. (D) 非洲馬賽族族人對人表示友情與祝福的方法，就是在對方臉上「呿」的，吐一口口水。而傳統的巴拉圭人向人問候的方法，竟然是開心地在對方臉上打一巴掌。請問：上述顯示出文化的哪一項特徵？ (A) 制約性 (B) 普遍性 (C) 累積性 (D) 差異性。
2. (B) 端午節即將來臨，美玲跟著奶奶學習包粽子、做香包。美玲的行為屬於下列何者？ (A) 文化交流 (B) 文化傳承 (C) 文化創新 (D) 文化衝擊。
3. (D) 蕭強參加朋友的婚禮時，喝了不少酒。他酒後開車回家途中，被警察攔下，因酒精濃度測試值過高而遭到處罰。根據上述，蕭強應是受到哪項社會規範的處罰？ (A) 風俗習慣 (B) 倫理道德 (C) 宗教信仰 (D) 法律。
4. (A) 臺灣到處可見各種宗教的活動；都市街道也能見到各國的料理，顯示臺灣不同文化的包容性。由上述來看，下列哪句話可用來形容臺灣的社會？ (A) 多元文化 (B) 科技社會 (C) 政治民主 (D) 保守社會。
5. (C) 常常看到電視新聞上，政治人物去「拜媽祖」，希望媽祖能保佑國家國泰民安，並且伸張正義、懲罰惡人。請問：這是以哪一種社會規範來約束信徒、勸人為善？ (A) 風俗習慣 (B) 倫理道德 (C) 宗教信仰 (D) 法律。
6. (A) 媽媽在過年時會發壓歲錢給靜怡。請問：這是屬於哪一種社會規範？ (A) 風俗習慣 (B) 倫理道德 (C) 宗教信仰 (D) 法律。
7. (D) 放學後，老皮和大牙互傳簡訊，內容如下所示，他們所使用的對話文字是時下青少年發展出來的獨特文化，稱為什麼？ (A) 主流文化 (B) 民族文化 (C) 劣文化 (D) 次文化。

老皮：你被老ㄟ罵了喔，ㄅㄅ  
大牙：吼~~還不都是你  
老皮：lol  
大牙：……
8. (B) 「一名公車司機撿到 20 萬元，因擔心失主有急用，馬上送至警察局，這名失主感謝司機並包了一個紅包要送他，但司機婉拒並稱這是應該的，經媒體報導後，輿論稱讚司機拾金不昧且有善心。」依上文所述，這名司機被稱讚的不僅只是守法，還包含遵守下列何種社會規範？ (A) 風俗習慣 (B) 倫理道德 (C) 宗教信仰 (D) 法律。
9. (B) 我們的社會教導兒童從小就要養成尊敬他人的習慣，不但對長輩要有禮貌，對待任何人都要謙恭有禮。所以說，禮貌已是人們共同認可或接受的行為標準，我們稱這種符合社會互動和諧的行為準則為何？ (A) 社會團體 (B) 社會規範 (C) 社會風俗 (D) 社會輿論。
10. (A) 下列哪一個團體是由具有相同政治理念的人所組成？ (A) 政黨 (B) 兒童福利聯盟 (C) 計程車司機工會 (D) 水環境巡守隊。
11. (A) 阿健與小郡在圖書館看書，因為討論的聲音太大而引起旁人的注目。請問：他們的行為可能會受到何種懲罰？ (甲) 自我良心的譴責 (乙) 社會輿論的壓力 (丙) 被神明教訓 (丁) 收到罰單 (A) 甲乙 (B) 乙丙 (C) 丙丁 (D) 乙丁。
12. (D) 近年來，政府發放低收入戶生活補助與醫療補助，並透過短期聘僱的方式，協助低收入者自立。請問：上述政府的做法，主要在改善下列哪項社會問題？ (A) 教育資源分配不均 (B) 犯罪問題 (C) 人口逐漸老化 (D) 貧富差距擴大。
13. (C) 勞委會職訓局開辦免費電腦硬體網裝與網際網路訓練班，招訓對象為國中以上學歷失業或待業勞工。請問：提供失業人士職業訓練，是政府實施的何項社會福利政策？ (A) 福利服務 (B) 社會保險 (C) 就業安全 (D) 社會救助。
14. (A) 有學者指出，目前國內繳交不出學雜費的低收入戶學生愈來愈多，政府應減免其學雜費，以維護他們的受教權。請問：對繳不出學費的低收入戶學生減免其學雜費，此為何種社會福利措施？ (A) 社會救助 (B) 社會保險 (C) 社會津貼 (D) 就業安全。
15. (D) 小寶是所謂的「玻璃娃娃」，因為罹患了這項罕見疾病，使他成為醫院的常客，而醫療費用帶給小寶家裡沉重的負擔，近年來，政府的哪項社會福利措施可以減輕小寶家的負擔？ (A) 辦理職業訓練 (B) 補助低收入戶者 (C) 發放老人年金 (D) 實施全民健康保險。
16. (B) 所謂「民主」是指以人民為主，在現在的社會中，人民可以透過許多方式向政府表達意見，下列哪一個方式是不恰當的？ (A) 向媒體投書抒發己見 (B) 向立法機關丟雞蛋抗議 (C) 組成利益團體向政府遊說 (D) 向行政機關遞交請願書。
17. (D) 行政院設置「即時新聞澄清平臺」，也與社群媒體 LINE 合作，推出「LINE 謠言查證」，最主要的目的應為下列何者？ (A) 鼓勵民眾拒絕看新聞 (B) 做為宣導政策的管道 (C) 管控媒體新聞自由權 (D) 防止假新聞誤導民眾。
18. (B) 身為國中生的我們應該多參與團體事務，藉以培養服務社會的精神，為社會貢獻一分心力。請問：下列哪些是適合國中生現階段參與的團體事務？ (甲) 參與社區的環保活動 (乙) 參與政黨舉辦的選舉造勢場合 (丙) 參加社團活動 (丁) 投身義消行列 (A) 甲乙 (B) 甲丙 (C) 丙丁 (D) 乙丁。
19. (A) 下列有關傳播媒體的敘述，哪項正確？ (A) 無形中影響人們的思想、態度、價值觀、行為 (B) 是我們最早接觸的社會化團體，影響深遠 (C) 現代社會民智大開，媒體不容易影響人們的想法與意見 (D) 電視、網路、報紙等媒介是提供訊息的重要途徑，可以完全取代學校教育。

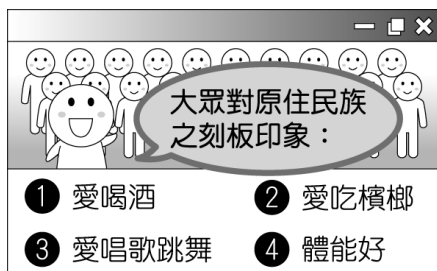
# 新北市立鳳鳴國民中學（七年級）（七下）補考題庫

公民 科試卷 七 年 班 號 姓名：\_\_\_\_\_

20. (C)在民主國家中，政府通常會依照人民的需求，採納多數人的意見作為政策規畫或施政的參考。請問：下列哪一個選項較可能代表真正多數人的意見？(A)媒體大篇幅的報導 (B)電視名嘴的見解 (C)公民投票的結果 (D)總統公開發表的談話。
21. (D)社會若漠視弱勢群體的基本需求，別人的苦難也有可能成為自己的苦難。請問：身為國中生可以怎麼做最適當？(A)每月捐款 50000 元給慈善單位 (B)參與制定相關法律、政策 (C)在網路上當酸民發言 (D)擔任志工關懷弱勢者。
22. (C)社會流動可分為「向上流動」和「向下流動」，是上、下社會階層間的縱向流動。下列哪一敘述不屬於向上的社會流動？(A)破產→企業家 (B)員工→老闆 (C)女朋友→老婆 (D)平民→官員。
23. (C)下列何人的社會地位產生方式與其他不同？(A)小瑛取得碩士學位 (B)阿義擔任立委 (C)阿國為噶瑪蘭族 (D)小瑜考上公務員。
24. (D)從下圖兩位父親的煩惱中可以看出社會中哪一方面的不公平？(A)貢獻程度 (B)責任負擔 (C)需求滿足 (D)利益分配。



25. (A)現實中常有不平等的現象，有些社會成員甚至連最基本的生活條件都無法獲得滿足，為了改變這個現象，因此有何種制度的產生？(A)社會安全 (B)經濟建設 (C)國防外交 (D)治安監控。
26. (B)網路調查民眾對於原住民族的刻板印象如下圖，下列何人的解讀正確？(A)多多：原住民族是社會上最弱勢的族群 (B)睿睿：原住民族遭遇到貢獻程度方面的不公平待遇 (C)滿滿：這是原住民族的主流文化 (D)辰辰：刻板印象不會對原住民族造成影響。



## 【題組一】請閱讀下文，並回答問題：

鳳鳴國預計要在國內興建一條高速鐵路，對於設站地點，政府先在各地方(甲)舉辦公聽會徵詢民眾的意見，在公聽會的過程中(乙)有人贊成也有人反對，經過多次的討論之後，(丙)政府決定某些地點將會重新規畫。多年後這條高速鐵路終於興建完成了，但因為載客率不佳導致虧損連連，(丁)又被許多人批評浪費納稅人的錢，希望政府檢討改進。

27. (A)文中(甲)畫線的內容是屬於公共意見的哪個特性？(A)公開性 (B)差異性 (C)不穩定性 (D)影響性。
28. (B)文中(乙)畫線的內容是屬於公共意見的哪個特性？(A)公開性 (B)差異性 (C)不穩定性 (D)影響性。
29. (D)文中(丙)畫線的內容是屬於公共意見的哪個特性？(A)公開性 (B)差異性 (C)不穩定性 (D)影響性。
30. (C)文中(丁)畫線的內容是屬於公共意見的哪個特性？(A)公開性 (B)差異性 (C)不穩定性 (D)影響性。