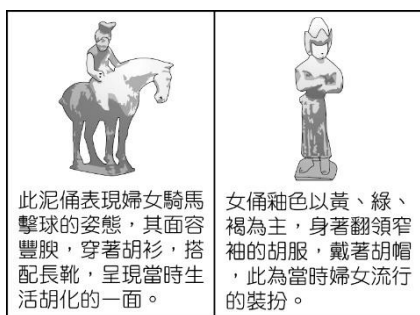


- (B)「歷史時代」始於文字的出現，因此下列哪一個朝代因為甲骨文的出土，被視作信史的開始？  
(A)夏朝 (B)商朝 (C)周朝 (D)秦朝。
- (B)開啟與結束「皇帝制度」的朝代分別是下列何者？  
(A)周朝、秦朝 (B)秦朝、清朝  
(C)漢朝、明朝 (D)唐朝、清朝。
- (C)下列哪一個選官制度是依家世、才能、德行等項目評定等級，因負責評選的官員多為世族出身，因此逐漸僅著重「家世」，形成「上品無寒門，下品無世族」的局面？(A)察舉制度 (B)科舉制度  
(C)九品官人法 (D)宗法制度。
- (C)「南北朝」的局面與北方草原民族入主中原，漢人大量遷移至南方有關。請問：南朝政權主要分布於下列哪一流域？(A)黃河流域 (B)淮河流域  
(C)長江流域 (D)珠江流域。
- (A)春秋戰國時期之所以「禮崩樂壞」，和下列哪一種制度的式微有關？(A)封建制度 (B)郡縣制度  
(C)皇帝制度 (D)科舉制度。
- (B)附圖是中國著名的歷史建築，也是今日重要的世界文化遺產。古代興修此建築的主要目的為何？



- 避免黃河改道造成氾濫
- 防止塞外草原民族入侵
- 阻擋蒙古沙漠持續擴大
- 建立往東北移民的據點。

- (B)右圖是思近參觀「歷代中國婦女生活文物展」時，在某朝代的展示區內所看到的文物簡介。依內容判斷，此朝代最可能是下列何者？



- 漢代 (B)唐代 (C)宋代 (D)明代。
- (C)下列何處使唐採取「和親政策」，出嫁文成公主作為唐藏聯姻，促成文化交流，而佛教也在此時傳入當地？  
(A)新羅 (B)日本 (C)吐蕃 (D)怛羅斯。

- (A)下列哪一朝代是由「漢民族」所建立？  
(A)宋朝 (B)北魏 (C)元朝 (D)清朝。
- (B)李太白〈月下獨酌〉：「花間一壺酒，獨酌無相親；舉杯邀明月，對影成三人。月既不解飲，影徒隨我身；暫伴月將影，行樂須及春。我歌月徘徊，我舞影零亂；醒時同交歡，醉後各分散。永結無情遊，相期邈雲漢。」請問：此詩出於下列哪一朝代？(A)漢朝 (B)唐朝 (C)宋朝 (D)元朝。
- (A)明清時期，中國人口大增，糧食供應已成為問題，幸好美洲作物的引進，發揮了補充稻米不足及早災的問題。請問：下列哪些是當時引進的美洲作物？【甲】番薯【乙】玉米【丙】馬鈴薯【丁】早熟稻。  
(A)甲乙丙 (B)甲丙丁 (C)甲乙丁 (D)乙丙丁。
- (D)明代的經濟與過去相比更為繁盛，商品的製作更為精細，景德鎮以瓷器聞名，蘇州則以絲織著稱。而商品生產後，出口外銷至世界各地，尤其歐洲貴族最為喜愛。景德鎮、蘇州這類型態的市鎮被稱呼為下列何者？  
(A)驛站 (B)夜市 (C)市舶司 (D)專業市鎮。
- (A)蒙古帝國統治時期，某一族群因在海上的貿易事業有高度發展，常被朝廷賦予管理財政的事務。而這族群若依照帝國的種族政策應屬於哪一個階級？(A)色目人 (B)漢人 (C)南人 (D)蒙古人。
- (D)13世紀義大利城市中某教堂的神父告訴信徒，只要虔誠向上帝禱告並懺悔，便可避免來自東方的「黃禍」。請問：下列何者是神父所稱的「黃禍」？  
(A)怛羅斯之役 (B)十字軍東征  
(C)匈奴人西遷 (D)蒙古西征。
- (D)宋代雖然與遼國簽訂條約，並給予歲幣換取和平，但在五代時期北方邊界就已喪失部份土地(如圖斜線區塊)，使此時期北方邊界無險可守。請問：此斜線區塊名稱為何？  
(A)千里遼地 (B)燕京十郡  
(C)後晉軍馬地 (D)燕雲十六州。
- (C)明朝派遣艦隊下西洋，讓中國航海史進入最輝煌燦爛的時代，是由明朝哪位君主派遣何人率領船隊完成這項艱鉅的任務？請選擇下列正確的配對名稱。  
(A)明太祖-徐達 (B)明世宗-戚繼光  
(C)明成祖-鄭和 (D)明思宗-吳三桂。
- (B)馬祖地區有名的特色小吃「繼光餅」(又稱為馬祖漢堡)，是由熱騰騰的燒餅再夾上剛煎好的鮮蚵搭配食用，深受當地居民和遊客的喜愛，而相傳繼光餅的由來為明朝嘉靖年間，戚繼光將軍率軍前

往東南沿海掃蕩「★」。行軍打仗時士兵飢餓難耐，為了解決糧食問題，而命士兵製作燒餅，並在中間留一個洞，以麻繩串起成掛，以便隨身攜帶充飢。上述的「★」，為下列何者？  
(A)流寇 (B)倭寇 (C)荷蘭人 (D)葡萄牙人。

18. (A) 電影《白銀帝國》(Empire of Silver) 內容改編自作家成一的小說《白銀谷》，內容講述了清末民初富可敵國的山西票號「天成元」康氏父子之間的傳承。請問：山西商人能富甲天下的其中原因，是因為明清時期出現哪些特有的組織？  
(A)商幫、會館 (B)行會、公會  
(C)行郊、洋行 (D)驛站、鏢局。

19. (A) 附圖為宋代某科技書籍中的武器製作圖解，請問：此書最有可能是誰的著作？  
(A)沈括《夢溪筆談》 (B)馬可波羅《東方見聞錄》  
(C)朱熹《四書集註》 (D)劉義慶《世說新語》。



20. (D) 清初，政府對於不同民族的統治手段各異。對於漢人，清廷厲行文字檢查，例如：「明月有情還顧我，清風無意不留人」，創作者後來便遭處死。請問：這是清廷採取何種統治手段？  
(A)停止科舉 (B)禁止結社  
(C)文字獄 (D)強迫薙髮。
21. (C) 在鴉片戰爭以前，因中國對於西方商品需求不大，加上乾隆皇帝的政策，中外貿易僅限於「一口」通商。請問：這唯一的港口為下列何者？  
(A)香港 (B)上海 (C)廣州 (D)天津。

22. (B) 下圖應為中國何種制度的呈現？



- (A)禮樂制度 (B)天朝體制

(C)科舉制度 (D)察舉制度。

23. (C) 清朝晚期面臨許多戰事，有關下列事件的先後順序何者正確？  
【甲】甲午戰爭 【乙】英法聯軍  
【丙】鴉片戰爭 【丁】牡丹社事件  
【戊】中法戰爭  
(A)甲乙丙丁戊 (B)乙丙丁戊甲  
(C)丙乙丁戊甲 (D)丙甲乙丁戊。
24. (B) 自強運動以戰爭開始，也以戰爭終止，其「始」、「終」各為哪一場戰爭？  
(A)鴉片戰爭、英法聯軍  
(B)鴉片戰爭、甲午戰爭  
(C)英法聯軍、甲午戰爭  
(D)甲午戰爭、八國聯軍。
25. (A) 19 世紀中期，「黑船來襲」喚醒了日本的太平夢，當時德川幕府在船堅炮利的威脅下，而不得已簽訂《神奈川條約》，這也是日本近代第一個不平等條約。上述的「黑船來襲」是指哪一國家的侵略？(A)美國 (B)英國 (C)法國 (D)德國。
26. (C) 1905 年的中國報紙報導：「這一場戰爭，是君主立憲戰勝君主專制的最佳寫照。我們的政府應該也要仿行君主立憲的體制，讓國家富強。」根據上述的內容，所指的應是下列哪場戰爭？  
(A)鴉片戰爭 (B)英法聯軍  
(C)日俄戰爭 (D)八國聯軍。
27. (B) 有一份報紙於清末的上海創刊，原為提供教務訊息，後轉為提供科學新知，被人稱為「西學新知之總薈」，對當時的中國社會影響最大。請問：該份報紙創辦人最可能是下列何種身分？  
(A)來中國經商的阿拉伯商人  
(B)來中國傳教的西方傳教士  
(C)中國新知識分子  
(D)中國經商致富的商人。
28. (D) 請問「甲午戰爭」的爆發與下列何地有關？  
(A)琉球 (B)臺灣 (C)越南 (D)朝鮮。
29. (C) 以下是清末文人對某事件的描述：「當時在官府的默許下，群眾進入天津租界，縱火焚燒教堂、房屋，於是各街市店舖有販售洋貨者，皆用紅紙將招牌上的『洋』字糊上，以防群眾焚掠。即便是一般家庭日用之物，如洋燈、鐘錶等類，也都掩藏不敢使用。」根據上文判斷，此事件最可能是下列何者？★

# 新北市立鳳鳴國民中學（八年級）（上）補考題庫

歷史

科試卷 年 班 號 姓名：

- (A)鴉片戰爭 (B)英法聯軍  
(C)義和團事變 (D)林爽文事件。

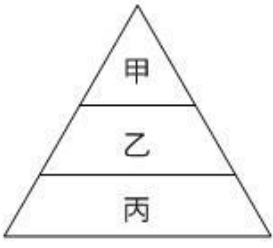
30. (D) 清末民初，中國社會、經濟在西力衝擊之下，何地是引進西方文明的主要窗口？(A)軍事重鎮  
(B)內陸城鎮 (C)首都重地 (D)通商口岸。



# 新北市立鳳鳴國民中學（八年級）（  上）補考題庫

公民 科試卷    年    班    號 姓名：                    

1. ( **B** ) 依照我國國籍的取得方式，是以哪一種方式為主？(A) 出生在我國領土之內 (B) 父或母一方為我國國民 (C) 透過結婚歸化 (D) 透過收養歸化。
2. ( **D** ) 公民投票是人民對於法律、立法原則或政府重大政策表示意見的一種方式，而公民投票的內容通過後，政府必須據以執行，這可說是我國依據《憲法》主權在民的原則，為確保國民行使直接民權而設計的制度。因此可知，公民投票是屬於《憲法》保障人民的哪一個基本權利？(A) 平等權 (B) 自由權 (C) 受益權 (D) 參政權。
3. ( **C** ) 下列何者是規定我國的人民基本權利最重要的文獻？(A) 《民法》(B) 《刑法》(C) 《憲法》(D) 《人民團體法》。
4. ( **D** ) 民主國家中，國家一切權力的來源是下列何者？(A) 君主 (B) 總統 (C) 政府 (D) 人民。
5. ( **A** ) 領土為現代國家的組成要素之一，包括領陸、領海和領空。其中，領海是指由海岸基線向海上延伸到多少浬的海域？(A) 12 (B) 120 (C) 200 (D) 240。
6. ( **C** ) 若以法律位階而言，圖中的甲、乙、丙，由上到下依序排列應為下列何者？  



(A) 法律、命令、憲法

(B) 法律、憲法、命令

(C) 憲法、法律、命令

(D) 命令、法律、憲法。
7. ( **D** ) 小葉在行政院的網站上，看到「推動產業多元創新」、「促進投資推動建設」、「強化產業人才培訓」等政策介紹。請問：上述政府推動的政策，主要有助於達成國家組成的哪項目的？  
(A) 安全 (B) 秩序 (C) 福利 (D) 經濟。
8. ( **A** ) 民國 89 年民主進步黨贏得總統選舉，取代長期執政的中國國民黨成為執政黨，使我國邁出民主化的第一步；民國 97 年中國國民黨贏得總統選舉，重新贏得政權，學者認為這有助於我國民主的深化與鞏固。根據上述內容，說明何者是民主化的重要指標？(A) 政黨輪替 (B) 直接選舉 (C) 政黨協商 (D) 黨內初選。
9. ( **C** ) 我國憲法規定人民有受義務教育的權利與義務，有關義務教育的相關細節則規定在國民教育法中。請問：這可顯示憲法的何種特性？(A) 最高性 (B) 固定性 (C) 原則性 (D) 平等性。
10. ( **A** ) 在我國，法律或命令是否牴觸憲法而有疑義時，是由下列何者負責解釋？(A) 司法院大法官 (B) 立法院院長 (C) 行政院院長 (D) 總統。

11. ( **D** ) 在我國，立法機關對於政府施政不滿意時，可以提出不信任案，迫使其倒閣重組，以負起政治責任。依我國《憲法增修條文》規定，立法院提出不信任案時，其行使對象是下列何者？  
(A) 正、副總統 (B) 司法院院長  
(C) 立法院院長 (D) 行政院院長。
12. ( **D** ) 我國的中央政府依據法律規定畫分成五院，分別為行政、立法、司法、考試、監察。請問：這是根據下列哪一項法律的規定？(A) 行政法 (B) 民法 (C) 刑法 (D) 憲法。
13. ( **A** ) 「不信任投票」、「倒閣」、「解散國會」、「覆議」等制度，說明政府權力運作中哪項原則的重要性？(A) 分權制衡 (B) 主權在民 (C) 依法行政 (D) 政黨政治。
14. ( **C** ) 民主國家中，「天子犯法與庶民同罪」、「法律之前，人人平等」，無論政府或人民都要遵守法律，都有守法的義務，這是哪種憲政精神的實踐？  
(A) 主權在民 (B) 權力分立 (C) 法治政治 (D) 違憲審查制度。
15. ( **D** ) 憲政精神是一種主張以憲法體系約束國家權力、規定公民權利的學說或理念。這種理念要求政府所有權力的行使都納入《憲法》的軌道，並受《憲法》的制約，使政治運作進入法律化理想狀態。其根本作用在於防止政府權力的濫用，以維護公民普遍自由和權利。根據上述，可知下列何者是憲政精神的核心概念？(A) 人治政府 (B) 萬能政府 (C) 獨裁政府 (D) 有限政府。
16. ( **D** ) 上課時，老師說明各種職業類別後，請同學分別介紹父母的工作，其中小皓提到：「我媽媽服務的單位，是辦理專門職業及技術人員（如律師、醫事人員）資格的檢定。」請問：小皓媽媽服務的單位屬於下列哪一個機關？(A) 行政院 (B) 立法院 (C) 考試院 (D) 監察院。
17. ( **A** ) 中央政府因應新冠肺炎提出紓困方案，希望提振國內經濟，減緩失業率的增加。請問：此專案是由下列哪一機關負責執行？(A) 行政院 (B) 立法院 (C) 總統府 (D) 司法院。
18. ( **B** ) 小美看到新聞報導：「監察委員的人事同意權始終排不進○○院的議程，使得監察院不但停擺了近半年，被提名人更是無所適從。」小美沒聽清楚○○院的名稱，請問：○○院最有可能是下列何者？(A) 行政院 (B) 立法院 (C) 司法院 (D) 考試院。

新北市立鳳鳴國民中學
 (八年級)
 (
 上
 )
 補考題庫

公民科試卷
 八年班
 號
 姓名:

【題組】政府舉辦「公務人員考績法修正草案」公聽會，作為未來修法的依據，出席的銓敘部長表示，考績法會有妥善的配套，公務員應該敞開胸懷，多聽聽百姓的聲音。請回答第19~20題：

19. ( B )「公務人員考績法修正案」若要通過，必須經過哪一個機關審議三讀？(A) 行政院 (B) 立法院 (C) 考試院 (D) 監察院。
20. ( C )「銓敘部是隸屬於哪一個中央政府機關？(A) 行政院 (B) 立法院 (C) 考試院 (D) 監察院。
21. ( A )美國前國會議員道格拉斯女士說：「如果你不參與，就沒有資格批評政府不好。」因為民主政治強調主權在民與全民政治。由此可知，稱職的公民「至少」應該要做到何者？(A) 關心公眾事務 (B) 展現良好政績 (C) 增進公共利益 (D) 參與政黨活動。
22. ( C )我國《憲法》對於中央與地方政府權限的畫分採「均權制度」，其中具有因地制宜性質的事務由地方負責。依此規定，地方政府具有哪些權力而設有行政機關與民意機關？(A) 司法權、考試權 (B) 考試權、行政權 (C) 行政權、立法權 (D) 立法權、司法權。
23. ( C )張大頭登記參加恆春鎮長的選舉，為了獲得勝利，展開了一連串的拜訪鄉親的活動，包括舉辦造勢晚會、政見發表會等。請問：這些行為屬於哪一項選舉程序？(A) 提名 (B) 登記 (C) 競選 (D) 投票。
24. ( B )柯楠若想要參與我國公職人員的選舉，以實現其政治理念和服務社會的熱誠。請問：他至少必須年滿幾歲，才有參選資格？(A) 20 歲 (B) 23 歲 (C) 26 歲 (D) 30 歲。
25. ( A )小杉針對某項議題蒐集各地方的活動資料如下表。根據表中內容加以推論，此項議題最可能是下列何者？

活動名稱	預估收入項目
臺中世界花卉博覽會	地方稅收、公立停車場收費、門票收入等
新北市平溪天燈節	
宜蘭國際童玩藝術節	
屏東墾丁音樂季	


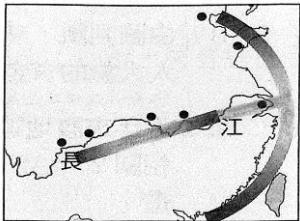
- (A) 觀光活動的籌辦與地方財源的拓展
- (B) 地方制度的改變與產業升級的規畫
- (C) 社區意識的建立與終身學習的推廣
- (D) 文化資產的保存與社會秩序的維持

26. ( A )隨著社會變遷，富者愈富、貧者愈貧的 M 型社會來臨，形成了消費型態的兩極化，但總統大選的時候，無論貧或富的公民都擁有效力相同的選票，這也顯示出選舉的何種重要原則？(A) 普通原則 (B) 平等原則 (C) 直接原則 (D) 無記名原則。
27. ( C )在公民生活當中，最常見、也是最重要的政治參與方式為何？(A) 參與遊行 (B) 讀者投書 (C) 選舉投票 (D) 參與政論性「叩應」節目。
28. ( C )請問：選民在進行「投票」時，一定要帶下列哪一證明文件才能進行投票？(A) 戶口名簿 (B) 投票通知單 (C) 國民身分證 (D) 健保卡。
29. ( D )下列哪個地方政府的層級和澎湖縣相同？(A) 高雄市 (B) 馬公市 (C) 宜蘭市 (D) 新竹市。
30. ( C )如果中央與地方的權限發生爭議時，應該如何解決？(A) 聲請大法官解釋憲法 (B) 由總統出面調停 (C) 由立法院決定權限之歸屬 (D) 由行政院出面協商。

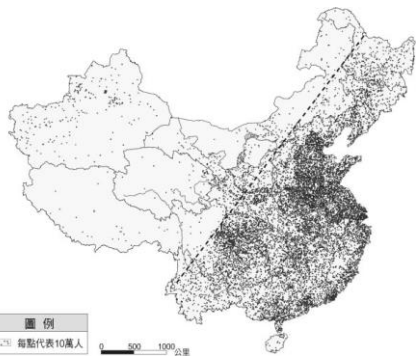


一、選擇


1. (D) 中國的地形複雜多樣，哪兩種所占的面積較廣？  
(A)平原、盆地 (B)丘陵、山地  
(C)盆地、丘陵 (D)山地、高原。
2. (B) 中國的「川菜、湘菜」皆以辣味著稱，此一飲食文化反映當地何種環境特色？ (A)地形崎嶇 (B)氣候濕熱 (C)宗教信仰 (D)物產豐饒。
3. (A) 右圖為華中 T 字型交通帶示意圖，此圖說明了「上海」成為中國的首要門戶，是因為具備下列何項優越條件？  
(A)位置優越 (B)港闊水深 (C)農礦豐富 (D)最早開發。
4. (C) 右圖為窯洞示意圖，此種特殊的民居型式最可能出現在下列哪個地區？  
(A)青藏高原 (B)內蒙古高原 (C)黃土高原 (D)雲貴高原。
5. (A) 下圖為中華人民共和國的居民身分證正反面，身分證號碼共有 18 碼，主要是哪一現象所造成？ (A)人口總數多 (B)人口素質高 (C)高齡化社會 (D)都市化程度高。
6. (D) 文化擴散指人口發生國內或國外移動，使移民者將原鄉文化帶到移居地，下列何者並非受華人遷移的影響？  
(A)臺灣的上海菜餐廳 (B)吉隆坡的唐人街  
(C)印尼的布袋戲演出 (D)美國的奧斯卡獎。
7. (A) 右圖為東南亞鄉村傳統的高架式住屋形式。這種建築優點是可通風、防潮，下層可以圈養家畜。請問：在中國哪一地區可以見到類似的建築形式？  
(A)南部 (B)北部 (C)西部 (D)各地皆有。



8. (C) 中國曾流傳某政策的口號：「少生孩子多種樹，少養孩子多養豬。」這個口號主要的目標是在宣導下列哪項性質的政策？  
(A)加強學前教育 (B)推動綠化保育  
(C)控制人口成長 (D)推廣農牧發展。
9. (A) 目前中國的幼年人口性別比是 111，高居亞洲各國之首。請問此項資料可顯示下列哪一項事實？ (A)男性新生兒數量較多 (B)女性新生兒數量較多 (C)男性平均壽命較長 (D)女性平均壽命較長。
10. (C) 地形、氣候等自然環境會影響人口的分布狀況，根據右圖，可發現人口多集中在哪一地勢階梯中？ (A)高階梯 (B)中階梯 (C)低階梯 (D)平均分布。
11. (D) 「中國北方利於重工業發展；南方則以輕工業為主。」請問：上述現象的產生，是因為北方有哪一項優勢條件？ (A)人口較多 (B)電力充分供應 (C)糧食供應充足 (D)煤、鐵、石油礦產豐富。
12. (B) 臺灣的服務業遠近馳名，近年來紛紛前往中國投資設立據點，如 85°C 及王品集團等。這是由於臺灣服務業看準了中國經濟發展上的哪一項特點？ (A)工資低廉 (B)市場廣大 (C)交通便利 (D)技術進步。
13. (A) 中國的都市流動人口因戶籍在家鄉，無法享有都市社會福利的保障。請問：為了解決上述問題，中國政府於 2000 年以後推出了何種制度？ (A)居住證制度 (B)人口城鄉分隔政策 (C)放寬一胎化政策 (D)獎勵非法移民政策。
14. (B) 近年來，中國傳統自給性農牧業面臨轉型，朝向下列何種方向發展？甲、商品化；乙、科技化；丙、粗放化；丁、機械化  
(A)甲乙丙 (B)甲乙丁 (C)甲丙丁 (D)乙丙丁。
15. (C) 中國企業近年來由於經濟發展快速，快速累積大量資金，因此紛紛併購國外企業，希望加速國內產業升級。在此目的下，下列哪一個企業較不會被納入併購的名單中？  
(A)捷速個人電腦公司 (B)湯姆生電動汽車  
(C)愛德華成衣工廠 (D)湛藍高精密光學鏡頭。



16. (C) 右圖是位於長江三角洲上的經濟重鎮，高樓大廈聳立反映其產業活動相當發達，該地曾因開埠以



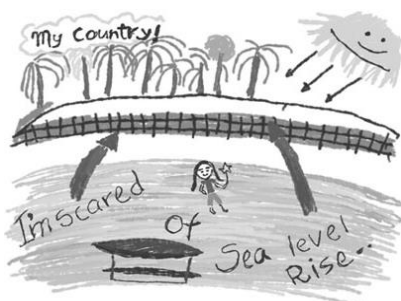
後，隨著租界建立和歐美文化大舉進入，開始興建西式別墅和洋房，出現各種不同風格的建築，被譽為「萬國建築博覽會」。請問：上文中提到的「經濟重鎮」為何？  
(A)重慶 (B)武漢 (C)上海 (D)廣州。

17. (A) 隨著經濟的發展，中國的飲食習慣出現改變，畜牧業的需求量與日俱增。然而中國卻在 2017 年及 2019 年出現大規模的禽流感及非洲豬瘟等問題，重創相關產業的發展。上述相關疫情和下列何種養殖方式的關係最大？  
(A)集約化 (B)多樣化 (C)環保化 (D)都市化。

18. (D) 中國龐大的消費能力，使阿里巴巴、淘寶等網路購物平臺在中國蓬勃發展，這是何種交易活動的興起？ (A)批發 (B)零售 (C)量販店 (D)電子商務。

19. (D) 以下哪些變化可能是全球暖化下所造成的氣候變遷現象？甲、極端溫度頻率增加；乙、全球降水量趨同；丙、強颱出現比例增加；丁、暴風雪強度減小  
(A)甲乙 (B)乙丙 (C)丙丁 (D)甲丙。

20. (C) 臺灣友邦吐瓦魯是位在太平洋中的島國，右圖為該國學生以「她的國家」為主題的手繪圖，她希望大家能關注何項環境議題？ (A)酸雨問題 (B)地震海嘯 (C)全球暖化 (D)臭氧層破洞。



21. (D) 吐瓦魯因地勢低，平均高度僅 4.5 公尺，因此受到海面上升的威脅甚大。請問：該國最可能為何種性質的島嶼？ (A)大陸島 (B)火山島 (C)沙洲島 (D)珊瑚礁島。

22. (D) 澳洲 80% 的貿易往來對象是位於周遭的鄰近國家，故就地理位置而言，澳洲應積極參與下列哪一區域貿易組織的事務以發展經貿？  
(A)歐洲聯盟(EU) (B)美墨加協定(USMCA)  
(C)非洲聯盟(AU) (D)亞太經濟合作會議(APEC)。

23. (B) 「靜靜的屹立在茫茫紅土、荒原之上的烏魯汝(艾爾斯岩)，位於澳洲正中央，最令旅客百看不厭的驚人景觀，是每天日出和日落時，陽光投射在岩石上顏色產生戲劇性的變化。」請問：到烏魯汝當地旅遊需克服哪一氣候條件的挑戰？ (A)陰雨綿綿 (B)乾燥強風 (C)颱風侵襲 (D)寒流來襲。

24. (C) 澳洲擁有許多袋鼠、無尾熊、袋狸、針鼯等獨特性物種的主因為何？ (A)地勢高聳 (B)氣候炎熱 (C)位置孤立 (D)面積廣大。

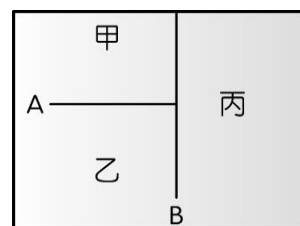
25. (D) 下列哪一現象，與全球暖化沒有直接關係？  
(A)格陵蘭的冰原減少 (B)蚊子的分布範圍擴大 (C)墾丁的珊瑚出現白化現象 (D)池塘水域中的吳郭魚繁殖過盛。

26. (A) 紐西蘭以銀蕨為國家象徵，當地原住民於外來殖民者攻佔時期出外戰爭，因家庭觀念重，無論多晚也要回到村落。回家的路就認銀蕨，因為銀蕨葉後面映照著月光會發光，能帶著他們安全回家。請問：上述原住民為何人？ (A)毛利人 (B)因紐特人 (C)印地安人 (D)亞利安人。

27. (C) 昔日北極的航道長年冰封，只有具備破冰裝備的船隻，才可能通過海域。近年航道開始暢通的原因，下列何者正確？ (A)天然氣開採 (B)海水面下降 (C)全球暖化 (D)海水溫度降低。

28. (B) 世界各地的氣候分為熱帶、溫帶、寒帶，這和下列哪一項因素的關係最為直接？ (A)地形 (B)太陽照射角度 (C)距海遠近 (D)盛行風向。

29. (C) 右圖為大洋洲簡圖，其中甲、乙、丙分別代表密克羅尼西亞、美拉尼西亞及玻里尼西亞三大群島，而 A、B 代表其分界線。請問：B 界線與下列哪一條線相符？ (A)赤道 (B)本初經線 (C)國際換日線 (D)北回歸線。



30. (B) 承上題，大洋洲哪一群島受到地理位置的影響，最可能見到 2020 年底最後一抹的落日？  
(A)印度尼西亞 (B)玻里尼西亞 (C)美拉尼西亞 (D)密克羅尼西亞。