

# 新北市立鳳鳴國民中學（九年級）（九上）補考題庫

歷史 科試卷 九年 班 號 姓名：\_\_\_\_\_

1. (D) 古埃及文明的高度發展，與農業的進步有密切關係，而埃及因為哪一條河流的固定氾濫，帶來肥沃的土壤，進而發展出高度的農業文明？  
(A)黃河 (B)恆河 (C)幼發拉底河 (D)尼羅河。
2. (A) 《法意》強調三權分立的概念，成為日後許多國家政府制度的範本。請問：這部著作是由何人完成？  
(A)孟德斯鳩 (B)盧梭 (C)洛克 (D)伏爾泰。
3. (B) 發明「楔形文字」的是下列哪一支民族？  
(A)希臘人 (B)蘇美人 (C)埃及人 (D)巴比倫人。
4. (B) 下列哪一個宗教，崇拜光明，認為宇宙有善神和惡神，又被稱為拜火教？  
(A)伊斯蘭教 (B)祆教 (C)天主教 (D)婆羅門教。
5. (B) 哥白尼提出什麼學說，引起了基督教會的恐慌與震怒，認為他的說法不符合上帝所創造的世界？  
(A)地球中心說 (B)太陽中心說  
(C)三大運動定律 (D)萬有引力定律。
6. (D) 歐洲人向海外找尋新航路，開啟波瀾壯闊的大航海時代，這是由於哪些商人轉手的東方貨品相當昂貴，不利於貿易利潤的獲得？  
甲、蒙古人 / 乙、拜占庭人  
丙、義大利人 / 丁、鄂圖曼土耳其人  
(A)甲乙 (B)甲丁 (C)乙丙 (D)丙丁。
7. (A) 十九世紀時，下列哪一個國家由於議會政治已經確立，所以採和平漸進的改革方式爭取民主政治？  
(A)英國 (B)德國 (C)義大利 (D)法國。
8. (D) 中世紀時期，歐洲人活動範圍以地中海地區為主，但到了新航路開啟了大航海時代，歐洲的歷史重心逐漸轉移到哪一個海域？  
(A)太平洋 (B)黑海 (C)印度洋 (D)大西洋。
9. (B) 國會原先只是英國國王諮詢的機構，到了十三世紀時，哪位英王被迫簽署《大憲章》後，使得國會在限制王權上，有了舉足輕重的地位？  
(A)亨利八世 (B)約翰王  
(C)查理一世 (D)詹姆士二世。
10. (B) 法國大革命後改行共和政體，而革命卻走向激進。哪一位法國統治者施行恐怖政治，並大肆處決異議分子？  
(A)拿破崙(B)羅伯斯比(C)路易十四(D)路易十六。
11. (D) 聳立在美國紐約曼哈頓的自由女神像，她是法國於西元 1876 年，贈送給美國獨立建國一百周年的禮物。請問：自由女神左手抱的書板最可能為下列何者？  
(A)《聖經》 (B)《美國憲法》  
(C)《人權宣言》 (D)《獨立宣言》。
12. (B) 「神曲」是文藝復興時期的經典之作，出自於下列哪一位作家之手？  
(A)達文西 (B)但丁 (C)薄伽丘 (D)莎士比亞。
13. (C) 「演繹法」講求分析，並透過邏輯推演的方式來獲得知識。請問：「演繹法」由誰所提出？  
(A)牛頓 (B)伽利略 (C)笛卡兒 (D)培根。
14. (D) 被譽稱為「全希臘的學校」，是下列哪一個城邦？  
(A)馬其頓 (B)克里特 (C)斯巴達 (D)雅典。
15. (D) 羅馬帝國史上第一位稱帝的皇帝是下列何者？  
(A)凱撒 (B)狄奧多西 (C)查士丁尼 (D)屋大維。
16. (A) 試問四年一度的奧運，最早淵源於下列哪一個地區？(A)希臘 (B)印度 (C)埃及 (D)西亞。
17. (C) 提出最為激進的社會主義之一「共產主義」的是下列何者？  
(A)洛克 (B)亞當斯密 (C)馬克斯 (D)馬基維利。
18. (C) 美國爆發南北戰爭時，在位主張解放黑奴的美國總統，是下列何者？  
(A)華盛頓 (B)傑佛遜 (C)林肯 (D)歐巴馬。
19. (A) 在唐朝史書上，稱為「大食」的是下列哪一個國家，曾經在怛羅斯之役打敗唐朝的軍隊？  
(A)阿拉伯 (B)波斯 (C)希臘 (D)羅馬。
20. (C) 有人認為，某個民族是世界上最難融合的一群人，他們分散在全世界，但大多數人還是希望可以與自己民族的人結婚。他們以「上帝的選民」自居，亡國千年之後，終於在二十世紀時建國。請問：此民族應是指下列何者？  
(A)蘇美人 (B)西臺人 (C)猶太人 (D)巴比倫人。

# 新北市立鳳鳴國民中學（九年級）（九上）補考題庫

歷史科試卷 九年 班 號 姓名：\_\_\_\_\_

21. (B) 電影「羅賓漢」中，有一段情節是羅賓漢與伊斯蘭教徒的互動。請問：電影中應該如何呈現這位伊斯蘭教徒的生活情景，才能符合史實？  
(A)每天靜坐思索，想要超脫輪迴  
(B)齋戒、作禮拜，勤讀《古蘭經》  
(C)勤於畫符與煉丹，想要成仙得道  
(D)每天閱讀《新約聖經》，並且默禱。
22. (A) 下列有關婆羅門教的敘述，何者正確？  
(A)強調因果報應與輪迴轉世  
(B)屬於一神信仰的宗教  
(C)為印度本土宗教，最早出現在尼羅河流域  
(D)教義強調眾生平等，因此主張社會應無階級之分。
23. (B) 14 世紀，文藝復興運動最初發源於哪一個國家？ (A)英國 (B)義大利 (C)法國 (D)西班牙。
24. (D) 下列有關工業革命首先發生在英國的主要原因，何者正確？  
(A)英國缺乏資金、勞工  
(B)缺乏煤鐵資源  
(C)其他國家的武力要脅  
(D)英國政治較安定、社會較自由。
25. (D) 不管是體育界或音樂界，黑人總是占有一席之地，他們與生俱來的運動與音樂天賦，總是令人嘆為觀止。然而，在世界歷史中，他們的祖先曾有悲慘的遭遇。請問：這一段不幸的歷史是指下列何事？  
(A)美國西進拓荒的過程中造成當地黑人大量死亡  
(B)阿茲提克與印加帝國古文明的隕歿  
(C)地理大發現後，西、葡阻止非洲黑人移民  
(D)十五世紀，西班牙人為開發美洲殖民地，大量至西非濫捕黑人為奴。
26. (A) 西元前六世紀，佛教的創立者是下列何者？  
(A)釋迦牟尼 (B)穆罕默德 (C)耶穌 (D)耶和華。
27. (B) 當年主張修築豪華氣派的凡爾賽皇宮，是下列哪一位君王在位時期？  
(A)查理一世 (B)路易十四  
(C)拿破崙一世 (D)路易十六。
28. (A) 1642 年，英國發生清教徒革命，清教徒原是屬於下列哪一個教派？  
(A)喀爾文教派 (B)英國國教派  
(C)天主教 (D)馬丁路德教派。
29. (A) 1492 年，西班牙王室贊助下列何者，向西航行，抵達新大陸美洲？  
(A)哥倫布 (B)亞美利哥 (C)麥哲倫 (D)達伽馬。
30. (C) 安妮是俄羅斯人，她的家族從中世紀以來就是信仰東正教，這是因為受到哪一個帝國的文化影響？  
(A)阿拉伯帝國 (B)蒙古帝國  
(C)拜占庭帝國 (D)鄂圖曼土耳其帝國。

一、選擇

- (D) 西亞境內各地區的氣候類型不盡相同，下列哪一個海域沿岸地區以夏乾冬雨的氣候為主？  
(A)紅海 (B)波斯灣  
(C)阿拉伯海 (D)地中海。
- (C) 西亞的石油蘊藏量相當豐富，最主要的產油地區分布於下列何處？  
(A)伊朗高原 (B)地中海沿岸  
(C)波斯灣沿岸 (D)安納托力亞高原。
- (A) 中亞近年來從牧業轉向農、礦業的發展。請問：目前當地哪一個國家為主要的石油生產國？  
(A)哈薩克 (B)烏茲別克  
(C)吉爾吉斯 (D)塔吉克。
- (B) 中亞境內哪一個國家因為引用鹹海與阿母河的水灌溉，而成為中亞棉花最主要生產地區？  
(A)土庫曼 (B)烏茲別克  
(C)哈薩克 (D)吉爾吉斯。
- (D) 西亞的乾燥氣候面積相當廣大，這和下列哪一項因素的關係最為密切？  
(A)距海遙遠 (B)熱帶低氣壓籠罩  
(C)鋒面滯留 (D)副熱帶高氣壓籠罩。
- (A) 阿爾卑斯山因為冰河作用造成何種谷地的分布，而有利於兩側間的交通運輸？  
(A)U形谷 (B)V形谷  
(C)O形谷 (D)M形谷。
- (A) 歐洲哪一個地區位於東、西往來的要衝，戰略地位重要，且宗教及族群相當複雜，因此有「歐洲火藥庫」的稱號？  
(A)東歐 (B)西歐  
(C)南歐 (D)北歐。
- (B) 地理條件優越有利於區域發展，歐洲各地區中，哪一個在地形、氣候、海洋和港灣四方面皆最具優越性？  
(A)東歐 (B)西歐  
(C)南歐 (D)北歐。
- (C) 世界各大洲中，唯一沒有沙漠氣候分布的為下列何者？  
(A)亞洲 (B)美洲  
(C)歐洲 (D)非洲。
- (C) 歐洲發展相當多元化，因此國家眾多。若根據其地理位置加以區分，附圖中哪一個國家位於西歐？  
(A)甲 (B)乙 (C)丙 (D)丁。



- (D) 法國的「無煙囪」產業帶來了數百億歐元的收入，成為該國重要的經濟活動。請問：「無煙囪」產業指的是下列何種產業活動？  
(A)重工業 (B)農業  
(C)商業 (D)旅遊業。
- (C) 北歐因位處高緯寒帶地區，氣候普遍嚴寒。其中哪一個北歐國家擁有充足的地熱及溫泉資源，成為當地產業發展的動力來源？  
(A)丹麥 (B)挪威  
(C)冰島 (D)芬蘭。
- (C)「該國的工業活動和軍事發展關係甚大，機械、通訊、大眾運輸等均相當發達。而生產的賓士汽車更受到世界各國的喜愛。」請問：上述中的國家應該為何？  
(A)英國 (B)法國  
(C)德國 (D)義大利。
- (A) 歐洲的哪一個國家積極在海上填海造陸，擴大活動範圍，並有低地國的稱號？  
(A)荷蘭 (B)瑞士  
(C)法國 (D)英國。
- (B) 英國在發展工業活動的條件相當優越，該國在哪一個地區發現石油礦藏，有利於經濟活動的發展？  
(A)本寧山 (B)北海  
(C)英吉利海峽 (D)大西洋。
- (C) 波蘭的第一大港位於附圖中的甲處，請根據圖中資料加以判斷，該港口面臨哪一個海域？  
(A)北海 (B)大西洋  
(C)波羅的海 (D)黑海。



- (C) 東歐有一條著名的河川——多瑙河。請問：該河川朝向東南方流入哪一個海域？  
(A)波羅的海 (B)地中海  
(C)黑海 (D)印度洋。
- (C) 東歐藉由經濟改革的方法，希望吸引西歐企業東移投資設廠。請問：該地區吸引企業前往的最有利因素為何？  
(A)行政效率 (B)海運方便  
(C)勞工便宜 (D)技術進步。
- (A) 歐洲的民族種類眾多，其中哪一個地區的族群以斯拉夫民族為主，形成當地的文化特色？  
(A)東歐 (B)西歐  
(C)南歐 (D)北歐。



# 新北市立鳳鳴國民中學（九年級）（上）補考題庫

地理

科試卷

年

班

號

姓名：

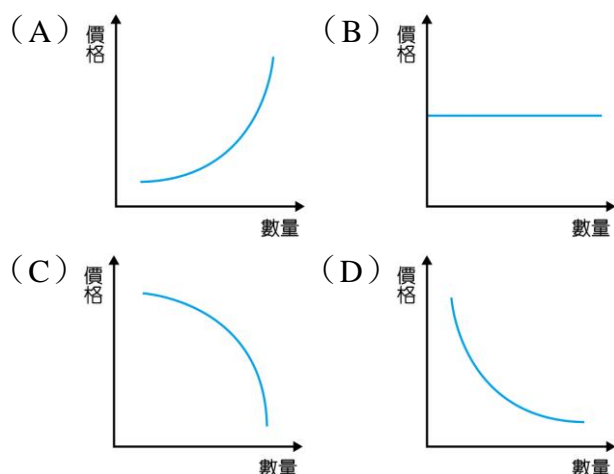
20. (C) 下列哪一個國家的疆域橫跨歐、亞兩洲，且面臨北極海，地理位置相當重要？  
(A) 土耳其 (B) 中國  
(C) 俄羅斯 (D) 芬蘭。
21. (D) 北美洲為世界重要的消費市場，由於當地盛行何種商業文化，使經濟活動得以蓬勃發展？  
(A) 小量進口、大量出口  
(B) 大量進口、小量出口  
(C) 小量生產、大量消費  
(D) 大量生產、大量消費。
22. (B) 1492 年哥倫布由伊比利半島出發，在橫越大西洋後，發現了新大陸。當時他所發現的大陸應該為下列何者？  
(A) 亞洲 (B) 美洲  
(C) 非洲 (D) 澳洲。
23. (D) 北美洲哪一個海岸最容易受到來自海上的熱帶性低氣壓影響，形成強烈的颶風，造成人員及財產的重大損失？  
(A) 大西洋 (B) 哈得孫灣  
(C) 太平洋 (D) 墨西哥灣。
24. (A) 小英到世界各地都可以見到麥當勞、星巴克等連鎖商店，請問：這些商店呈現了何種文化的生活方式？  
(A) 美式文化 (B) 英式文化  
(C) 非洲文化 (D) 拉丁文化。
25. (A) 加拿大的經濟重鎮多分布於東部地區，主要是利用哪一條水路運輸來發展經濟活動？  
(A) 聖羅倫斯河 (B) 密士失必河  
(C) 科羅拉多河 (D) 格蘭河。
26. (B) 下列哪一條運河連接太平洋及大西洋航運，交通地位相當重要？  
(A) 蘇伊士運河 (B) 巴拿馬運河  
(C) 中央大運河 (D) 京杭大運河。
27. (D) 西印度群島位於中美洲，自然景觀相當優美，因此成為美國人的度假勝地。請問：該群島主要分布於哪一個海洋？  
(A) 波羅的海 (B) 地中海  
(C) 北海 (D) 加勒比海。
28. (C) 中南美洲受殖民過程的影響，形成多元文化。請問：該地區早期的殖民國家為哪些？  
(A) 英、法 (B) 德、法  
(C) 西、葡 (D) 美、英。
29. (B) 拉丁美洲的哪一個國家為「北美自由貿易協定」的會員國，有利於產品加工出口至美國，因此吸引許多企業前往設廠？  
(A) 巴西 (B) 墨西哥  
(C) 阿根廷 (D) 委內瑞拉。
30. (D) 下列何種天然植被具有調節大氣的功能，有利提供充足的氧氣，因此被稱為「地球之肺」？  
(A) 針葉林 (B) 莽原  
(C) 苔原 (D) 雨林。

# 新北市立鳳鳴國民中學 (九年級) ( ) 上 補考題庫

公民 科試卷 九 年 班 號 姓名：\_\_\_\_\_

1. ( C )小敏應徵三個新工作，其中甲工作年薪 75 萬，乙工作年薪 60 萬，丙工作年薪 70 萬。若不考慮其他的因素，只以薪水高低作為考量，小敏如果選擇丙工作，則其機會成本是多少？(A)5 萬(B)135 萬(C)75 萬(D)60 萬。

2. ( A )報載：地瓜是最好的養生食品，具備防癌、護心、抗老化的功能。不久，市場上的地瓜、地瓜葉身價大漲，吸引不少農民搶種地瓜。對於上述現象，可從下列哪一個圖形來說明？



3. ( B )茉莉開了一家花店，她在計算經營成本時，也將自己的薪水一起納入生產成本之計算。請問：她的做法，最符合經濟學的哪一種概念？(A)需求法則(B)機會成本(C)分散風險原則(D)比較利益法則。

4. ( B )資本是生產活動的要素之一，以資本的特性而言，下列哪項交通工具屬於生產活動中生產者及其所投入的資本？(A)爺爺運動用的腳踏車(B)叔叔營業用的計程車(C)姊姊旅遊搭乘的飛機(D)妹妹上學搭乘的捷運。

5. ( C )因為時間、體力、金錢等資源都是有限的，但是人類欲望無窮，所以造成了稀少與貧窮的問題，而要解決這樣的問題，最好的方法應該是如何？(A)增加消費以刺激生產(B)避免資源開發，以免資源匱乏(C)珍惜資源，做最有效率的使用(D)克制欲望，不要消費。

6. ( D )產品與商品在經濟學上的區別在於：(A)生產(B)投資(C)儲蓄(D)交易買賣。

7. ( C )便利商店推出公仔贈品，吸引許多消費者到該商店消費。請問：這是基於何項因素影響需求？(A)所得高低(B)預期心理(C)個人偏好(D)商品價格。

8. ( A )在不考慮其他因素的情形下，依據需求法則，消費者在商品價格下跌時，對該商品的需求量會有何變化？(A)增加(B)減少(C)不變(D)無法判斷。

9. ( B )花媽讀報紙，看到一則「衛生紙即將漲價」的新聞，馬上衝到大賣場搶購衛生紙，買回來後囤積在家裡。此時，花媽的消費行為受哪一種因素影響最大？(A)商品價格(B)預期心理(C)個人偏好(D)所得。

10. ( B )下列何項是屬於「消費」行為？(A)教師節到了，小芬畫了一張感謝卡送給導師(B)阿蓮去戲院看「賽德克巴萊」(C)阿憫至仁愛之家幫忙照顧老人(D)阿明志願參加社區守望相助志工。

11. ( D )生產者生產各式各樣的產品，滿足消費者的不同需求；下列何者不屬於滿足人類需求的「無形的勞務」？(A)國際鑑識專家李昌鈺回國「專題演講」(B)英文補教業者徐威的衝刺班將於近期「開課」(C)粉絲們瘋狂擠進偶像的「演唱會」會場(D)美容業者推出具美白療效的「化妝品」。

12. ( D )多數人想要追求一個「好還要更好」的生活，卻永遠無法得到滿足，換言之，人類經濟問題的產生起因於下列何者？(A)生態破壞，環境汙染(B)供需失衡，物價狂飆(C)能源危機，通貨膨脹(D)欲望無窮，資源有限。

13. ( C )王媽媽是個賢慧的家庭主婦，每回到市場買菜總不忘和老闆討價還價一番，如下圖。請問：市場價格是如何決定的？(A)消費者(B)生產者(C)供需雙方(D)政府決定。



14. ( D )由於以物易物的不便，因此發明了貨幣作為交易的媒介，而在一個國家中，貨幣價值的高低，是以哪一項標準來衡量的？(A)國民所得的高低(B)貨幣的製作成本(C)國民存款金額的多寡(D)貨幣所能購買的商品數量。

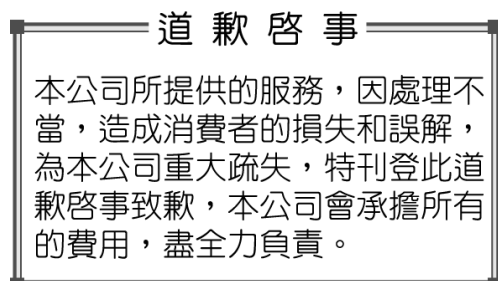
15. ( D )老師在課堂上介紹政府組織的功能時提到：「我國曾發生嚴重的通貨膨脹，若現在再發生類似情形，此機構可透過發行貨幣數量、調整利率等方式來達到穩定物價的目的」，請問：根據上述內容判斷，老師最可能在介紹下列哪一項組織？(A)財政部(B)經濟部(C)臺灣銀行(D)中央銀行。

# 新北市立鳳鳴國民中學 ( 九年級 ) ( 上 ) 補考題庫

公民 科試卷 九 年 班 號 姓名：\_\_\_\_\_

16. ( A )明倫公司為了照顧員工，在公司內設員工餐廳、網球場，並定期舉辦員工旅遊活動，以維持員工的向心力。上述提及企業應具備哪一項條件？(A) 善盡社會責任 (B) 了解市場需求 (C) 評估創業風險 (D) 進行企業合作。

17. ( D )附圖為報紙上刊登的一則道歉啟事。請問：該企業的做法屬於下列何種表現？(A) 企業的團隊精神 (B) 企業的銷售技巧 (C) 企業的投資風險 (D) 企業的社會責任。



18. ( D )一臺 PSP 遊戲機價值新臺幣 5,800 元，一臺 Wii 遊戲機價值新臺幣 7,800 元，一臺 NDS 遊戲機價值新臺幣 4,400 元，此時「元」的代表的是貨幣的何種功能？(A) 交易媒介 (B) 清償債務 (C) 價值衡量 (D) 價值儲存。

19. ( C )當年辛巴威鈔票曾發行一張 5 億元的面額，而且這一張 5 億元的鈔票，在當時連一塊麵包都買不起。請問：辛巴威當年面臨何種經濟問題？(A) 生產過剩 (B) 惡性競爭 (C) 通貨膨脹 (D) 資金短缺。

20. ( B )張先生將每個月的生活費扣除之後，每個月都會固定存一筆錢在銀行裡，以備不時之需。上述說明貨幣具有哪一種功能？(A) 價值衡量 (B) 價值儲存 (C) 債務清償 (D) 交易媒介。

21. ( B )「各種經濟發展作為，除了滿足現階段的需要，還必須不損害後代子孫的發展機會。」依上文敘述，應該是下列何者的定義？(A) 比較利益 (B) 永續發展 (C) 經濟發展 (D) 社會責任。

22. ( B )「臺灣雖然不產棉花，但靠進口棉花同樣能促成民國 40、50 年代棉紡織業的蓬勃發展。」上述這段話，說明了下列何者為臺灣經濟發展的重要動力？(A) 自給自足 (B) 國際貿易 (C) 觀光旅遊 (D) 第一級產業。

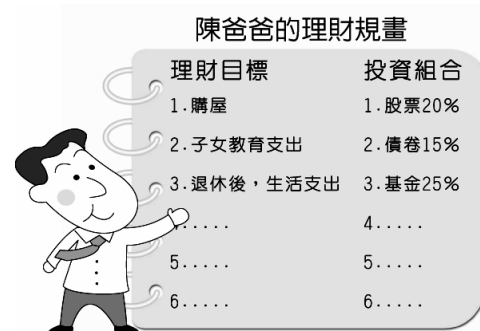
23. ( A )就讀國中的子聰想趁著暑假到便利超商店打工賺零用錢，但是店長說無法僱用他，因為他未達法定的工作年齡。請問：子聰若要進入就業市場，依據我國《勞動基準法》規定，必須至少年滿幾歲才行？(A) 15 歲 (B) 16 歲 (C) 18 歲 (D) 20 歲。

24. ( C )下列何者是生活共同體，也是社會最基本的經濟單位？(A) 個人 (B) 企業 (C) 家庭 (D) 國家。

25. ( C )小莉為了避免自己成為月光族，不但先擬定預算，又有記帳的好習慣，平日購物時以實用為原則，不會因為炫耀而購買名牌，不盲目跟隨流行。請問：小莉確實做到理財的何項觀念？(A) 分散風險 (B) 開源 (C) 節流 (D) 比較利益。

26. ( B )林志玲小姐選擇當職業模特兒，陳偉殷先生選擇當職業棒球選手，兩人在社會上各有自己專長的項目。請問：兩人主要是依下列何種原則來選擇他們的工作？(A) 負擔能力原則 (B) 比較利益原則 (C) 受益原則 (D) 分散風險原則。

27. ( C )右圖是陳爸爸的理財規畫，由他的理財目標及投資組合方式可看出，符合何種理財原則？(A) 比較利益原則 (B) 受益原則 (C) 分散風險原則 (D) 負擔能力原則。



28. ( A )有句名言說：「勤勉是幸福的右手，節儉是幸福的左手，兩者均可致富。」這句名言和哪一項經濟學原理相符合？(A) 開源節流 (B) 機會成本 (C) 比較利益原則 (D) 受益原則。

29. ( A )在一次社區的聚會中，王太太與陳先生談到理財的話題，王太太說：「聽說開咖啡廳的利潤很高，可是我怎麼投資的卻都倒閉，連本錢都拿不回來。」陳先生說：「我前一陣子也是跟著人家買股票，可是怎麼大家都賺了錢，但是我卻一路賠到底。」根據上述內容判斷，兩人在投資理財時都忽略了下列哪一種觀念？(A) 風險評估 (B) 降低成本 (C) 追求利潤 (D) 開源節流。

30. ( C )兩名自教育大學畢業的大男生找不到教職的工作，因此在大學門口擺起飲料攤作生意，自己當老闆。請問：這兩名大男生可稱為下列何者？(A) 失業者 (B) 待業者 (C) 創業者 (D) 受雇者。