

# 新北市立鳳鳴國民中學（八年級）（八上）補考題庫

歷史 科試卷 八年 班 號 姓名：\_\_\_\_\_

1. (B) 明朝開國主朱元璋在歷史上的評價不一，其哪一項作為獲得後人的肯定？  
(A)以廷杖凌辱官員 (B)重視民生與吏治  
(C)大舉誅殺功臣 (D)廢止宰相制度。
2. (D) 明太祖朱元璋建都南京，這與中國歷史上哪個王朝的首都相同？  
(A)西漢 (B)東漢 (C)西晉 (D)東晉。
3. (B) 元朝將轄下統治的種族地位分為四等，在統治上採行差別待遇。這種階層分別的統治方式，與中國歷史上的哪個時代頗為類似？  
(A)殷商 (B)西周 (C)秦朝 (D)西漢。
4. (A) 隋唐帝國被視為中國史上的第二次大一統政權，這兩個帝國的社會文化呈現哪一項共同特質？  
(A)兼容並蓄 (B)強調胡漢之別  
(C)胡人主政 (D)國祚長久。
5. (C) 中國政治的發展過程中，總是治世少、亂世多，能創建榮景的君主因此較易成為後世中國人民的仰慕對象。以下何者曾創建「貞觀之治」，並打敗外族獲得「天可汗」的尊號？  
(A)隋文帝 (B)隋煬帝 (C)唐太宗 (D)唐玄宗。
6. (B) 西晉因宗室不斷內訌，導致國勢日漸衰微，境內胡人趁機起兵叛亂，並攻陷洛陽，俘虜晉懷帝。這段歷史被稱下列何者？  
(A)犬戎之禍 (B)永嘉之禍  
(C)楚漢相爭 (D)周公東征。
7. (A) 「明成祖即位後，相當勤於政事，整飭吏治、經營南洋……。」、「為了策動廣州起義，黃興曾到南洋地區籌款……。」請問：上述的「南洋」是指下列何處？  
(A)東南亞地區 (B)南半球紐澳地區  
(C)南歐地中海沿岸 (D)南太平洋的熱帶國家。
8. (D) 關於「清明上河圖」所表現的北宋商業發展的情形，下列敘述何者錯誤？  
(A)城內、城外各種店鋪林立  
(B)人們可在晚上出外逛夜市  
(C)當時城內已取消宵禁  
(D)商業繁榮是因實施坊市分離制度的緣故。
9. (C) 兩漢時期，西域是漢朝與匈奴競逐的兵家必爭之地。請問：漢朝的西域約是指今天的哪個地區？  
(A)陝西 (B)甘肅 (C)新疆 (D)寧夏。
10. (D) 東晉、南宋兩代政治重心的南移，與哪些史實最有關聯？  
(A)黃巾之亂、靖康之禍 (B)永嘉之禍、黃巾之亂  
(C)黃巾之亂、新舊黨爭 (D)永嘉之禍、靖康之禍。
11. (C) 「建安十三年，曹操出兵南下，想一舉殲滅荊州的劉備以及位於江東的孫權，但沒想到魯肅與周瑜勸孫權與劉備聯合抗曹。戰後形成了三國鼎立的局面，劉備也因此有了自己的地盤與勢力。」上文中提及的這場戰爭是下列哪個事件？  
(A)犬戎之禍 (B)永嘉之禍  
(C)赤壁之戰 (D)八王之亂。
12. ( ) 春秋戰國時代有一位著名學者的妻子死了，但是他不但不傷心，還敲打瓦盆唱歌，旁人問為何妻子過世他不哭卻反而唱歌，他回答：「一開始人本來沒有生命，在自然的變化中有了氣，氣變化成形體，形體變化成生命。現在我的太太過世，就和四季變化一樣自然，所以我用不著哭。」請問：這位學者屬於哪一學派？  
(A)道家 (B)法家 (C)儒家 (D)墨家。
13. (C) 杭州岳王廟前，有一個殘害岳王的奸臣雕像遭許多遊客唾棄。這個奸臣可能是下列何者？  
(A)曹操 (B)司馬光 (C)秦檜 (D)王安石。
14. (A) 所謂六朝，是因六個朝代都同樣定都於下列何處？ (A)南京 (B)北京 (C)長安 (D)洛陽。
15. (D) 下列何者提出「尊王攘夷」的號召，成為春秋時代首位霸主？  
(A)晉文公 (B)秦穆公 (C)楚莊王 (D)齊桓公。
16. (C) 春秋戰國時代，諸子百家中被譽稱為「亞聖」是下列何人？  
(A)荀子 (B)孔子 (C)孟子 (D)老子。
17. (D) 中國歷代君王都希望能強化君權，皇帝制度在經過千餘年的演變，終於到哪一位君王手中時，廢除宰相，建立起完全獨裁的統治權力？  
(A)唐太宗李世民 (B)宋太祖趙匡胤  
(C)元世祖忽必烈 (D)明太祖朱元璋。

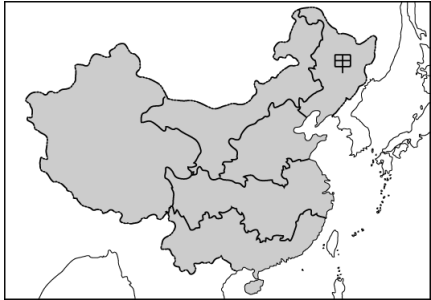
# 新北市立鳳鳴國民中學（八年級）（八上）補考題庫

歷史 科試卷 八年 班 號 姓名：\_\_\_\_\_

18. (A) 首創年號制度，是下列哪一個皇帝在位時期的措施？  
(A)秦始皇 (B)唐太宗 (C)明太祖 (D)漢武帝。
19. (B) 明太祖朱元璋即位之後，分封諸子鎮守各地，這種諸王擁兵坐鎮的情況，很容易引起諸子的內亂。這種情形與哪個朝代頗為類似？  
(A)秦朝 (B)西晉 (C)唐朝 (D)宋朝。
20. (D) 北魏孝文帝推行一系列的漢化措施。下列何者不是北魏孝文帝的漢化措施？  
(A)禁穿胡服，改穿漢服  
(B)禁說胡語，改說漢語  
(C)鼓勵胡漢通婚  
(D)設置兩種官制分別統治胡人與漢人。
21. (B) 下列哪一個朝代，為方便貿易經濟流通而發明「飛錢」？  
(A)漢朝 (B)唐朝 (C)宋朝 (D)元朝。
22. (B) 鄭和七次下「西洋」的事蹟，曾被寫為《1421：中國發現世界》一書。就你對明代歷史的了解，下列對鄭和與其事蹟的敘述，何者正確？  
(A)鄭和下「西洋」的西洋，指的是橫越整個太平洋  
(B)鄭和的船隊最遠曾抵達今日的非洲東岸一帶  
(C)指派鄭和下西洋的明朝帝王是明太祖朱元璋  
(D)鄭和下西洋的主要目的是尋求盟邦對抗北方的蒙古人。
23. (B) 中醫醫學寶典「本草綱目」，請問作者是下列哪一個醫生？  
(A)張機 (B)李時珍 (C)華佗 (D)淳于意。
24. (C) 清軍入關後，曾宣布要禮遇明朝的遺臣等，但又下令漢人必須要薙髮，並有「留頭不留髮、留髮不留頭」的指示。請問：當時清廷所採取的治術為何？  
(A)消滅反清的所有人  
(B)實施種族政策  
(C)對漢人採懷柔與高壓並濟  
(D)國家大政委託漢人。
25. (C) 在哪一位皇帝在位時，頒布「禁教令」，使得東西文化交流互動中止，清朝開始閉關自守時期？ (A)順治 (B)康熙 (C)雍正 (D)乾隆。
26. (C) 「這個王朝為了避免王室孤立無援，在政權成立之初便大封宗室為王，但卻造成地方諸侯坐大為亂，最後引發外患入侵，王朝終致滅亡。」  
請問：這個王朝應該是下列何者？  
(A)西漢 (B)東漢 (C)西晉 (D)曹魏。
27. (D) 請問有「詩聖」美稱，是下列哪一位唐朝詩人？ (A)白居易 (B)王維 (C)李白 (D)杜甫。
28. (A) 小諺將老師在黑板上的重點記錄如下：「商鞅變法」、「張儀的連橫政策」、「范雎的遠交近攻策略」。由這些重點判斷，老師上課的主題最可能是下列何者？  
(A)秦國的統一基礎 (B)齊桓公的霸業  
(C)西周的封建統治 (D)春秋戰國時代的學術思想。
29. (D) 戰國時代，消滅六國，最後統一天下的是下列哪一個國家？  
(A)齊國 (B)楚國 (C)韓國 (D)秦國。
30. (D) 「杯酒釋兵權」、「陳橋兵變」是下列哪一個開國皇帝奪得皇位的故事？  
(A)漢高祖 (B)隋文帝 (C)唐太宗 (D)宋太祖。

一、選擇

1. (D) 中國在少數民族分布聚集的地區，為了保留當地特殊的文化特色，設立何種行政區？  
(A)省 (B)直轄市  
(C)特別行政區 (D)自治區。
2. (D) 中國境內的地理位置為面海背陸，因此環境相當優越，有廣闊的腹地及優越的對外航線。請問：有關中國海陸位置的敘述，何者正確？ (A)面太平洋、背美洲大陸  
(B)面大西洋、背歐亞大陸  
(C)面印度洋、背非洲大陸  
(D)面太平洋、背歐亞大陸。
3. (C) 中國各行政區中，哪一個省分距離臺灣本島的位置最近，兩地間民間的交流往來日益頻繁？  
(A)廣東省 (B)江蘇省  
(C)福建省 (D)海南省。
4. (B) 中國在清朝時曾受到西方國家的侵略，因此境內各地區分布許多具有異國風格的建築。下列哪一個城市即曾為南歐國家的葡萄牙所統治，因此有許多公共設施及牌坊具有南歐風情？  
(A)香港 (B)澳門  
(C)上海 (D)哈爾濱。
5. (D) 附圖為中國境內簡易的分區圖，圖中甲區域的陸上鄰國為下列哪些國家？  
(A)北韓、越南 (B)尼泊爾、俄羅斯  
(C)俄羅斯、阿富汗 (D)北韓、俄羅斯。

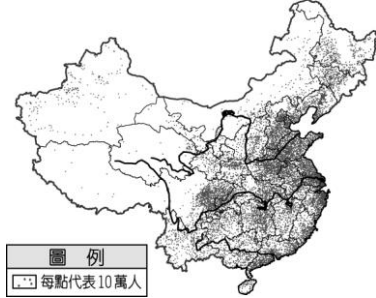


6. (A) 中國境內的山地面積比例高達 33%，居各種地形之冠。附圖為中國山脈的分布圖，請問：影響其走向的主要原因為何？  
(A)板塊擠壓方向 (B)岩層種類軟硬  
(C)主要河川流向 (D)盛行季風風向。



7. (D) 中國西南部的喜馬拉雅山上的聖母峰為世界第一高峰。這座天然屏障的山脈為中國和下列哪一個國家之間的天然國界線？  
(A)北韓 (B)俄羅斯  
(C)阿富汗 (D)印度。

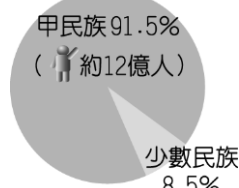
8. (C) 中國東側為太平洋海域，是中國對外交通的主要門戶，境內主要河流也多注入太平洋。請問：影響中國河川流向的主要原因為何？  
(A)海洋面積廣大 (B)山脈高聳入雲  
(C)地勢西高東低 (D)陸地高壓影響。
9. (C) 地形、氣候等自然環境影響人口的分布狀況，附圖為中國的人口分布圖，可發現人口多集中在哪一級地勢階梯中？  
(A)第一級階梯 (B)第二級階梯  
(C)第三級階梯 (D)均勻分布。



10. (B) 中國地勢第三級階梯的農業活動相當發達，為人口稠密的精華區。請問：該階梯的地形區中，不包括下列何者？  
(A)嶺南丘陵 (B)雲貴高原  
(C)長江中下游平原 (D)東北平原。
11. (C) 中國境內的氣候類型多屬於溫帶氣候區，這和下列哪一項因素的關係較為密切？  
(A)位東半球 (B)面積廣大  
(C)位中緯度 (D)地形起伏。
12. (A) 位在東北平原上的哈爾濱，夏季氣溫平均為 25℃左右，然而緯度低的拉薩氣溫卻僅約 15.7℃。其主要的影響因素為何？  
(A)地勢高低 (B)距海遠近  
(C)盛行風向 (D)經度位置。
13. (B) 中國各地氣候差異很大，秦嶺、淮河是重要的氣候分界，因此也成為人文景觀的重要界線。請問：秦嶺和淮河為下列哪一種重要氣候現象的分界線？  
(A)年均溫 0℃ (B)一月月均溫 0℃  
(C)年溫差 0℃ (D)七月月均溫 0℃。
14. (D) 長江、黃河、珠江等中國境內主要的外流河，其流域多位於下列哪一個氣候區內？  
(A)高地氣候區 (B)草原氣候區  
(C)沙漠氣候區 (D)季風氣候區。
15. (B) 王博士要到中國考察其境內最大鹹水湖的水文特性，他應該前往哪一個湖泊進行研究？  
(A)西湖 (B)青海湖  
(C)洞庭湖 (D)鄱陽湖。
16. (B) 中國的騰衝至黑河一線為人口分布疏密的界線，下列哪一個地形區的人口較為稀少？  
(A)珠江三角洲 (B)青藏高原  
(C)長江中下游平原 (D)華北平原。



17. (A) 在 1980 年代中國為了達成下列何種人口目標，曾一度積極實施「一胎化政策」？  
 (A) 降低出生率 (B) 減少移出率  
 (C) 平衡區域發展 (D) 增加人力資源。
18. (C) 2014 年中國 14 歲以下幼年人口的性別比為 118，造成此種現象的主要因素為何？  
 (A) 人口數量眾多 (B) 勞動人口不足  
 (C) 重男輕女觀念 (D) 人口成長快速。
19. (C) 中國少數民族多分布於邊疆地區，其中藏族、維吾爾族等少數民族主要集中於哪個地區？  
 (A) 東北地區 (B) 南部地區  
 (C) 西部地區 (D) 離島地區。
20. (B) 中國境內約有 13 億人口，共由 55 個民族所組成。請問：若由附圖中的比例加以判斷，甲民族應該為何者？  
 (A) 哈薩克族 (B) 漢族  
 (C) 回族 (D) 傣族。



21. (A) 1978 年以後中國實施經濟改革開放，工商業快速成長。目前中國的經濟發展過程中，以下列哪一個經濟地帶的發展情況最佳？  
 (A) 東部經濟帶 (B) 中部經濟帶  
 (C) 西部經濟帶 (D) 南部經濟帶。
22. (C) 紡織工業為臺商早期到中國投資設廠的主要工業活動類型，其設立的區位條件因素最主要為下列何者？  
 (A) 原料 (B) 動力  
 (C) 勞工 (D) 資金。
23. (D) 臺灣為標準的外貿型產業國家，海外貿易成為經濟命脈。請問：目前臺灣對外貿易出超最多的國家為何？  
 (A) 美國 (B) 法國  
 (C) 澳大利亞 (D) 中國。
24. (D) 阿莫是臺灣的農場老闆，為了拓展市場他決定要到中國開闢農場。若他希望農場在一年之中的生產的次數多一些，則他最好選擇附圖中的哪一個地方？  
 (A) 甲 (B) 乙 (C) 丙 (D) 丁。



25. (B) 根據中國境內的經濟發展狀況判斷，下列哪一個行政區內的每人平均 GDP 最高？  
 (A) 貴州省 (B) 上海市  
 (C) 西藏自治區 (D) 廣東省。
26. (C) 乾燥地區因為下列哪一種作用的影響，最容易造成土壤鹽鹼化的現象，不利農業生產？  
 (A) 過度施肥 (B) 填湖墾田  
 (C) 過度灌溉 (D) 地層下陷。
27. (C) 近年來，臺灣許多牧場、民宿引進了俗稱「草泥馬」的可愛動物—羊駝。羊駝是南美洲安地斯山區的特有動物，能夠適應高山稀薄的空氣駝運貨物。請問：中國也有與羊駝用途相似的動物，有「高原之舟」之稱的是下列哪一種動物？  
 (A) 駱駝 (B) 駱馬 (C) 犛牛 (D) 馬。
28. (A) 中國境內目前正實施多項環境保護相關工程，其中有「綠色長城」之稱的為下列何種工程？  
 (A) 造林 (B) 建壩  
 (C) 築堤 (D) 圍湖。
29. (B) 目前中國的水資源總量相當豐富，然而每人可真正利用的水資源卻嚴重不足，其主要的原因為下列何者？  
 (A) 河川傾斜流急 (B) 人口眾多  
 (C) 蒸發旺盛 (D) 河川含沙量大。
30. (C) 中國的主要河川當中，以下列哪一條河川的沿岸地區水資源缺乏問題最為嚴重？  
 (A) 珠江 (B) 長江  
 (C) 黃河 (D) 淮河。

- ( B ) 組成國家最主要的目的為何？(A)發展經濟貿易(B)維護人民安全(C)發揚國家文化(D)強化軍事力量。
- ( B ) 「天子犯法與庶民同罪」、「法律之前，人人平等」，無論政府或人民都要遵守法律，都有守法的義務，此即民主政治的哪一項特色？(A)民意政治(B)法治政治(C)責任政治(D)政黨政治。
- ( A ) 領土為現代國家的構成要素之一，包括領陸、領海和領空。其中，領海是指由海岸基線向海上延伸到多少浬的海域？(A)12 浬(B)100 浬(C)120 浬(D)200 浬。
- ( D ) 我國中央政府設有司法院，下轄各級法院，專司司法審判、並受理與裁判各種訴訟案件。請問：設置司法體系是為了實現政府的哪一項功能？(A)安全(B)自由(C)福利(D)正義。
- ( C ) 上課時，老師說明各種職業類別後，請同學分別介紹父母的工作，其中小皓提到：「我媽媽服務的單位，是辦理專門職業及技術人員（如律師、醫事人員）資格的檢定。」請問：小皓媽媽服務的單位屬於下列哪一個機關？(A)行政院(B)立法院(C)考試院(D)監察院。
- ( D ) 在我國，立法機關對於政府施政不滿意時，可以提出不信任案，迫使其倒閣重組，以負起政治責任。依我國《憲法增修條文》規定，立法院提出不信任案時，其行使對象是下列何者？(A)正、副總統(B)司法院院長(C)立法院院長(D)行政院院長。
- ( A ) 在西方民主國家，中央政府的分權方式大多採取哪一項原則？(A)三權分立(B)五權分立(C)權能區分(D)均權制度。
- ( D ) 「糾正、糾舉、彈劾權」是哪一個機關所屬人員的職權？(A)行政院(B)立法院(C)司法院(D)監察院。
- ( A ) 民國 88 年集集大地震，當時曾發布緊急命令，展開災後救助、災後重建等工作，請問：緊急命令是由哪一個人發布？(A)總統(B)行政院院長(C)立法院院長(D)副閣揆。
- ( C ) 依照我國國籍的取得方式，是以哪一種方式為主？(A)透過結婚歸化(B)透過收養歸化(C)父或母一方為我國國民(D)出生在我國領土之內。

- ( A ) 我國目前租稅制度分為國稅及地方稅，請問國稅由那個單位負責徵收？(A)財政部國稅局(B)地方政府(C)立法院(D)審計部。
- ( A ) 云云今年暑假將第一次出國旅遊，到國外旅遊前必須辦理護照，辦理護照的費用是 1600 元，請問：此一費用是屬於政府的哪一項收入？(A)規費(B)租稅(C)罰款(D)公營事業所得。
- ( A ) 我們在日常生活中購物時，要記得向商家索取統一發票，這是增加政府何種收入的有效方法之一？(A)租稅(B)規費(C)舉債收入(D)公營事業收入。
- ( A ) 附圖是淑妮為公民報告所準備的圖片，請問：她報告的主題應與下列何項最相關？(A)公共造產(B)縣市合併(C)租稅制度(D)觀光建設。



- ( C ) 政府收入的主要來源是：(A)租稅(B)公營事業所得(C)規費(D)舉債收入。
- ( A ) 我國中央與地方政府的權限劃分方式，依照我國憲法規定是採何種方式辦理？(A)均權制度(B)地方自治(C)權能區分(D)權力分立。
- ( C ) 下表是甲國政府公告下年度綜合所得稅的課徵稅率。從表中可知，該國綜合所得稅課稅的標準，是依據下列哪一種概念而設定的？(A)受益原則(B)需求法則(C)比較利益法則(D)負擔能力原則。★

級別	所得（美元）	稅率
1	未滿 10,000	5%
2	10,000~30,000	12%
3	超過 30,000	20%

- ( C ) 政府透過所得稅累進稅率的設計，對所得高者課徵較多的稅，再以課稅所得做為低所得者醫療、教育與失業等方面的補助。請問：政府這項的做法是為了達到何項目的？(A)維持經濟秩序(B)保障私有財產(C)改善所得分配(D)處理外部效果。

# 新北市立鳳鳴國民中學 ( 八年級 ) ( 上 ) 補考題庫

公民 科試卷 八 年 班 號 姓名：\_\_\_\_\_

19. ( **B** ) 如果中央政府與地方政府發生權限上的爭議，依法如何解決？(A) 由行政院決定 (B) 由立法院解決 (C) 由司法院審理 (D) 由公民投票決定。
20. ( **A** ) 地方上的人民以自己的意願，在國家法律規定的範圍內，自行管理地方上的公共事務，這就是符合下列哪一種制度？(A) 地方自治 (B) 主權在民 (C) 權能區分 (D) 分權制衡。
21. ( **C** ) 由於物價對民眾生活的衝擊過大，於是政府決定暫時不調漲中油油價與水電價格。請問：政府此一政策對政府的何項收入來源影響很大？  
(A) 舉債收入 (B) 財產收入 (C) 公營事業盈餘收入 (D) 租稅。
22. ( **C** ) 中華民國國民必須年滿幾歲，才享有投票權？(A) 16 歲 (B) 18 歲 (C) 20 歲 (D) 23 歲。
23. ( **C** ) 在民主國家中，最常見、也是最重要的政治參與方式是何者？(A) 參加國家考試 (B) 收看電視節目「全民最大黨」(C) 參與選舉投票 (D) 走上街頭抗議。
24. ( **D** ) 我國憲法保障人民可以依其自由意願加入政黨或組織政黨。請問：這是憲法保障的何種自由？  
(A) 人身自由 (B) 居住遷徙自由 (C) 集會自由 (D) 結社自由。
25. ( **D** ) 選舉過程中，十分重要的一刻即是選民進行「投票」。請問：公民一定要帶下列哪一證明文件才能進行投票？(A) 戶口名簿 (B) 選舉公報 (C) 健保卡 (D) 身分證。
26. ( **A** ) 美國前國會議員道格拉斯女士說：「如果你不參與，就沒有資格批評政府不好。」因為民主政治強調主權在民與全民政治。由此可知，稱職的公民至少應該要做到何者？(A) 關心公眾事務 (B) 展現良好政績 (C) 增進公共利益 (D) 參與政黨活動。
27. ( **C** ) 在投票過程中，用布簾遮住圈票處的做法，即是為了遵守下列哪一項選舉的原則？(A) 普通原則 (B) 平等原則 (C) 無記名原則 (D) 直接原則。
28. ( **B** ) 民主社會中，公民的政治參與對於監督政府發揮很大的影響力，而透過政治參與可以落實什麼理念？(A) 地方自治 (B) 主權在民 (C) 社區營造 (D) 權力分立。
29. ( **D** ) 小茜今年剛升上國中二年級，她平常對政治非常有興趣，而下列哪一項為小茜可以採取的政治參與方式？(A) 選舉投票 (B) 擔任政府官員 (C) 成為公職候選人 (D) 關心時事。
30. ( **B** ) 小菲的姊姊剛選上立委，由此可知小菲的姊姊至少年滿幾歲？(A) 21 歲 (B) 23 歲 (C) 26 歲 (D) 30 歲。

