

# 新北市立鳳鳴國民中學（八年級）（八下）補考題庫

歷史 科試卷 八年 班 號 姓名：\_\_\_\_\_

1. (C) 鴉片戰爭以前，中國的對外貿易政策是採取哪一種方式？(A)自由貿易 (B)鼓勵通商 (C)限制通商 (D)強迫銷售。
2. (B) 歐洲於西元 15 世紀末期發生了哪一件大事，促使歐洲商人陸續來到東方，與中國人接觸貿易？(A)文藝復興 (B)新航路的發現 (C)蒙古西征 (D)宗教改革。
3. (A) 自清初雍正皇帝禁教閉關後，直到何時中國門戶才又大開？(A)鴉片戰爭 (B)英法聯軍 (C)甲午戰爭 (D)八國聯軍。
4. (D)「六三禁煙節」的由來，是為了紀念主導廣州「虎門銷煙」的哪一位人物？(A)李鴻章 (B)曾國藩 (C)馬加爾尼 (D)林則徐。
5. (D) 仲基到中國北京觀光，暢遊北京附近的名勝古蹟，拍了不少照片留做紀念。其中有一張「圓明園西洋樓遺跡」的照片。請問：圓明園是在哪一場戰爭時被焚毀？(A)鴉片戰爭 (B)甲午戰爭 (C)中法戰爭 (D)英法聯軍。
6. (D) 太平天國藉「宗教」之名，行改朝換代之實，此「宗教」是指哪一宗教？(A)佛教 (B)道教 (C)回教 (D)基督教。
7. (A) 清廷在推展自強運動期間，負責辦理外交工作的是哪一單位？(A)總理各國事務衙門 (B)福州船政局 (C)輪船招商局 (D)江南機器製造局。
8. (B) 晚清的自強運動，雖然未能達成雪恥圖強的預期目標，但卻使中國的近代化邁開了第一步。請問：自強運動的展開，是受到哪一事件的直接刺激而興起？(A)明治維新 (B)英法聯軍 (C)甲午戰爭 (D)牡丹社事件。
9. (C) 甲午戰爭失敗後，清廷在哪一個條約中，將遼東半島、臺灣、澎湖割讓給日本？(A)《天津條約》 (B)《北京條約》 (C)《馬關條約》 (D)《辛丑和約》。
10. (C) 下列哪一國家為求在華經濟利益均等，不願列強壟斷中國市場，乃提出「門戶開放政策」？(A)英國 (B)法國 (C)美國 (D)德國。
11. (D) 下令變法維新卻欠缺實際權力，導致變法失敗的清代皇帝是何人？(A)道光 (B)咸豐 (C)同治 (D)光緒。
12. (C) 引起八國聯軍攻陷北京的主要原因是下列哪一史實？(A)太平天國 (B)甲午戰爭 (C)義和團事變 (D)鴉片戰爭。
13. (D) 清末的立憲運動是因為哪一戰爭之後，見識到某國因實施「君主立憲」體制而強盛，因而興起立憲之風潮？(A)鴉片戰爭 (B)英法聯軍 (C)甲午戰爭 (D)日俄戰爭。
14. (C) 清末革命黨人企圖推翻滿清，發動多場起義行動但失敗。請問：哪一場起義行動讓社會大眾逐漸了解革命，並同情轉而支持革命行動？(A)廣州黃花岡之役 (B)惠州之役 (C)武昌起義 (D)雲南起義。
15. (A) 中華民國第一任臨時大總統是由下列何人所擔任的？(A)孫中山 (B)袁世凱 (C)黃興 (D)蔣中正。
16. (B) 民國初年，袁世凱取得臨時大總統職位後，擔心大權受到國會限制，派人刺殺了當時主張政黨政治的國民黨代理理事長。請問：這位被刺殺的人是誰？(A)孫中山 (B)宋教仁 (C)段祺瑞 (D)黎元洪。
17. (A) 民國初年，自何人死後，中央政權式微，導致軍閥割據的亂象局面？(A)袁世凱 (B)黎元洪 (C)段祺瑞 (D)馮國璋。
18. (C) 清光緒年間，外國商人開始在中國通商口岸設廠製造，造成中國本土工商業發展困難，始於哪一場戰爭之後？(A)鴉片戰爭 (B)英法聯軍 (C)甲午戰爭 (D)八國聯軍。
19. (D) 民國 10 年，中國共產黨在何國的策動指導下成立？(A)美國 (B)法國 (C)英國 (D)蘇聯。
20. (B) 何人介紹西方文化，批評傳統，創立《青年雜誌》，揭開了新文化運動的序幕？(A)蔡元培 (B)陳獨秀 (C)魯迅 (D)胡適。
21. (B)「收回山東權利」、「廢除二十一條」、「外爭主權，內除國賊」，上述示威訴求口號出現於何時？(A)武昌起義 (B)五四運動 (C)二次革命 (D)義和團事變。
22. (D)「容共」與「聯俄」政策的實施，是何人的主張？(A)蔣中正 (B)袁世凱 (C)黎元洪 (D)孫中山。

新 北 市 立 鳳 鳴 國 民 中 學 ( 八 年 級 ) ( 八 下 ) 補 考 題 庫

歷史 科試卷 八 年      班      號 姓名：          

23. (A) 孫中山於民國 14 年病逝後，由何人承擔國民革命的重責大任，並領導國民革命軍北伐，終於統一中國？(A)蔣中正 (B)汪精衛  
(C)陳獨秀 (D)張學良。
24. (B) 民國 21 年 3 月，日軍在中國的哪個地區成立「滿洲國」？  
(A)西北 (B)東北 (C)西南 (D)東南。
25. (C) 十年建設期間（民國 17～26 年），國民政府最大的內憂是下列何者？  
(A)軍閥 (B)保皇黨 (C)中共 (D)東北軍。
26. (C) 歷史課上同學們在討論西安事變，有人說：「蔣中正始終無法原諒□□□的原因，是因為□□□所採取的行動，解除中共的危機，造成中共日後的壯大。」請問：上文□□□應是指下列何人？  
(A)毛澤東 (B)汪精衛 (C)張學良 (D)孫中山。
27. (A) 引爆近代中國與日本八年抗戰序幕的是哪一事件？(A)盧溝橋事變 (B)九一八事變  
(C)一二八事變 (D)淞滬會戰。
28. (A) 下列何項史實，發生在「珍珠港事變爆發」之後與「日本無條件投降」之前？  
(A)中國與美、英等國訂立平等新約  
(B)南京大屠殺  
(C)日本扶植汪精衛成立「國民政府」  
(D)淞滬會戰。
29. (C) 附圖是某漫畫家的作品，其內容係針對中共的哪一項政策所作的諷喻？

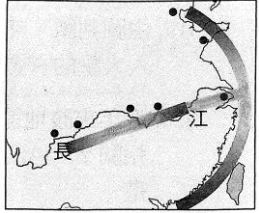
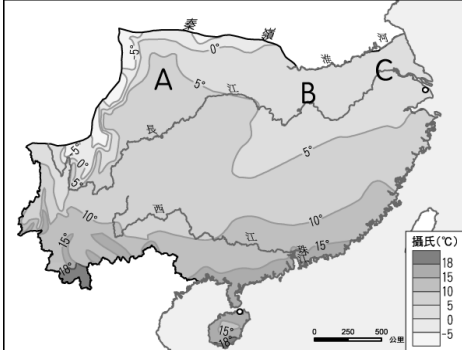



- (A)一邊倒 (B)大躍進運動  
(C)文化大革命 (D)鄧小平的改革政策。
30. (D) 中國改革開放後，面對經濟開放與政治封閉的矛盾，結果釀成了哪一事件的發生？  
(A)五四運動 (B)文化大革命  
(C)四人幫被捕 (D)六四天安門事件。

# 新北市立鳳鳴國民中學（八年級）（八下）補考題庫

地理 科試卷 年 班 號 姓名：

## 一、選擇

- (C) 「貴州的地面山峰起伏，地表裂縫甚多，使得雨水多下滲地底，不僅影響農業發展，也造成交通不便。」請問：造成此現象的作用力為何？  
(A)斷層作用 (B)風蝕作用  
(C)溶蝕作用 (D)火山作用。
- (C) 「湖廣熟，天下足」是指下列哪一種糧食作物的生產？  
(A)玉米 (B)小麥 (C)稻米 (D)番薯。
- (A) 右圖為華中 T 字型交通帶示意圖，此圖說明了上海成為中國的首要門戶，是因為具備下列何項優越條件？  
(A)位置優越  
(B)港闊水深  
(C)農礦豐富  
(D)最早開發。  

- (A) 下圖為中國南部地區一月等溫線圖，圖中 A 地一月月均溫高於 B、C 兩地的主要原因為何？  
(A)北側有高山 (B)距海較遙遠  
(C)地勢較高聳 (D)位處內陸。  

- (D) 「珠江入海口的兩顆歸鄉明珠」分別於 1997 年、1999 年歸還中國，請問，他們曾由哪兩個國家占領統治？  
(A)西班牙、葡萄牙 (B)英國、法國  
(C)法國、義大利 (D)英國、葡萄牙。
- (C) 某經濟作物採收期忌雨，主要分布於長江流域、黃河流域和新疆地區，請問此經濟作物為何？  
(A)茶葉 (B)甘蔗 (C)棉花 (D)甜菜。
- (B) 中國目前在哪一個地區，利用豐富的學術資源發展「中關村高科技園區」，作為產業升級的中心？  
(A)天津 (B)北京 (C)南京 (D)上海。
- (D) 東北地區的三江平原，昔日是荒蕪人煙的「北大荒」，今日卻成為農作盛產的「北大倉」，此種改變的主因為何？  
(A)實施集約耕作 (B)來自華南移民開墾  
(C)引用河水灌溉 (D)改善排水設施。
- (A) 北部區域早期是中國主要重工業地帶，其發展優勢為何？  
(A)礦產豐富 (B)河運方便 (C)資金充足  
(D)取水容易。

- (B) 中國山西省近年來出現許多礦業大亨，根據中國礦產的分布情形判斷，這些大亨最可能是從事何種礦產開發？  
(A)石油 (B)煤礦 (C)黃金 (D)鐵礦。
- (C) 河西走廊的地名來自於當地的地理位置。請問：河西走廊主要是指位於下列哪一條河流域以西的地區？  
(A)長江 (B)塔里木河  
(C)黃河 (D)伊犁河。
- (D) 新疆的瓜果特別香甜，有「瓜果之鄉」稱號，其主要原因為何？  
(A)降雨量多 (B)年溫差大  
(C)地勢高聳 (D)日溫差大。
- (A) 柴達木盆地自然條件嚴苛，不適合人居住，但礦藏豐富，而有「聚寶盆」之稱，但其豐富的礦藏不包括下列哪一項？  
(A)金 (B)石油  
(C)煤 (D)湖鹽。
- (D) 8.阿聰到內蒙古旅行，他想體驗當地的特殊風土民情，請問：下列哪一種活動不包括在內？  
(A)那達慕大會 (B)夜宿蒙古包  
(C)騎馬體驗 (D)伊斯蘭祈禱儀式。
- (C) 中國疆域面積廣大，氣候類型多樣，其中「寒漠」景觀主要分布於哪一個地形區中？  
(A)鄂爾多斯高原 (B)雲貴高原  
(C)青藏高原 (D)大興安嶺。
- (B) 右圖為東南亞傳統住屋高架屋建築。請問：這種建築形式可以適應的當地環境特色，不包括下列何者？  
(A)防潮  
(B)防風 (C)防蟲蛇 (D)防水患。  

- (C) 2015 年 4 月 25 日尼泊爾發生芮氏規模 7.8 的強震，這場破壞性的地震造成了許多災難，包括喜馬拉雅山區多處發生雪崩。請問：此次強震是因為下列哪兩個板塊互相推擠而成？  
(A)非洲板塊、歐亞板塊  
(B)太平洋板塊、歐亞板塊  
(C)歐亞板塊、印度-澳洲板塊  
(D)非洲板塊、印度-澳洲板塊。
- (D) 世界人口多分布在哪個地區？  
(A)乾熱的沙漠 (B)溼熱的雨林  
(C)乾冷的高山 (D)溫溼的平原。
- (B) 「地勢高聳，氣溫呈垂直變化，低處樹種為闊葉林或針闊葉混合林，高處為針葉林。」以上描述的地區最可能屬於何種氣候類型？  
(A)溫帶地中海型氣候 (B)高地氣候  
(C)熱帶莽原氣候 (D)溫帶海洋性氣候。
- (C) 史懷哲到非洲行醫，來到高溫多雨的赤道地區部落。請問他在當地最可能見到何種植被？  
(A)針葉林 (B)混合林 (C)雨林 (D)苔原。



# 新北市立鳳鳴國民中學（八年級）（八下）補考題庫

地理 科試卷 年 班 號 姓名：\_\_\_\_\_

21. (A) 富士山被日本人視為聖山，山形高大，為完整壯觀的火山地形；而位於赤道附近的印尼，則擁有全球第一的活火山數量，請問：造成兩國間地形特徵上相似度高的主因為何？  
(A) 位板塊接觸帶 (B) 緯度低氣溫高  
(C) 沿海暖流經過 (D) 島嶼面積狹長。
22. (A) 北韓農作物的生長季較南韓為短，這和當地的哪一項條件關係最大？  
(A) 緯度較高 (B) 風力較強  
(C) 陽光直射 (D) 面海背陸。
23. (C) 日本陸地面積狹小，但經濟海域的範圍卻十分廣大，其主要原因為何？  
(A) 岩岸眾多 (B) 洋流眾多  
(C) 島嶼眾多 (D) 國力強大。
24. (B) 傳統上韓國人以米飯為主食，使用筷子，每餐必備泡菜，其味道的優劣常被用來評斷主婦烹調手藝的高低。請問當地婦女醃製泡菜，主要是受到哪一因素的影響？  
(A) 山多平原少 (B) 冬季嚴寒  
(C) 土壤貧瘠 (D) 降水量稀少。
25. (D) 日本政府擴大雇用老年人口再就業政策，同時銀髮族商品持續熱賣，例如養身食品、加大按鍵的手機，方便年長者使用。導致這些狀況的主因為何？  
(A) 出生率偏高 (B) 失業率升高  
(C) 晚婚人口多 (D) 高齡化現象。
26. (C) 南亞各國中，哪個國家地形的構成以珊瑚礁為主，並以此發展海洋觀光業？  
(A) 印度 (B) 孟加拉  
(C) 馬爾地夫 (D) 斯里蘭卡。
27. (A) 「長達 2,500 公里的□河，是印度人心目中的聖河，每年有數百萬計的教徒來此朝聖。她不但是印度人的母親，也是印度古文明的重要功臣。」請問：由上文判斷，這是對印度哪條河川的敘述？ (A) 恆河 (B) 印度河 (C) 達摩達河 (D) 布拉瑪普特拉河。
28. (B) 新加坡國土不大、人口不多，卻能以哪種條件成為亞洲經濟強國之一？  
(A) 氣候宜人 (B) 位置優越  
(C) 地形多變 (D) 資源豐富。
29. (D) 太平洋與印度洋為早期東西航海貿易往來的必經地區。請問：下列哪一個海峽位於兩大洋的必經地區？ (A) 直布羅陀海峽 (B) 巴士海峽 (C) 英吉利海峽 (D) 麻六甲海峽。
30. (A) 目前印度和中國為世界上兩個人口數量最多的國家，這兩個國家主要的國界為下列何者？  
(A) 喜馬拉雅山 (B) 鴨綠江  
(C) 黑龍江 (D) 阿爾泰山。

# 新北市立鳳鳴國民中學（八年級）（八下）補考題庫

公民科試卷 八年 班 號 姓名：\_\_\_\_\_

1. ( C ) 若以法律位階而言，圖中的甲、乙、丙，由上到下依序排列應為下列何者？(A) 法律、命令、憲法 (B) 法律、憲法、命令 (C) 憲法、法律、命令 (D) 命令、法律、憲法。



2. ( A ) 政府執行公共政策、增進公共利益、改善人民生活，需要充足的經費才能順利達成目標，而經費的來源需要靠人民善盡「義務」，此「義務」指的是下列何者？(A) 納稅 (B) 服兵役 (C) 受國民教育 (D) 遵守法律。
3. ( D ) 為防堵禽流感的疫情，政府對於疑似感染的家禽，都採取集體撲殺的措施，雖然造成家禽業者相當的損失，但卻能避免疫情擴大。請問：政府的措施，是基於下列哪一項理由？(A) 維持社會秩序 (B) 防止妨害他人自由 (C) 增進公共利益 (D) 避免緊急危難。
4. ( B ) 依據我國《憲法》規定，下列何者既是權利也是義務？(A) 服兵役 (B) 受國民教育 (C) 納稅 (D) 遵守法律。
5. ( A ) 政府制定《社會救助法》，明定低收入戶得向戶籍所在地直轄市、縣（市）主管機關申請生活扶助。請問：此項規定旨在落實《憲法》保障人民的何種基本權利？(A) 生存權 (B) 工作權 (C) 財產權 (D) 參政權。
6. ( B ) 下列是小論舉例說明某一概念的部分內容，根據內容判斷，這應是在探討《憲法》中的哪一項人民基本權利？(A) 平等權 (B) 自由權 (C) 受益權 (D) 參政權。

- 皮皮辦理簽證，利用假期到國外旅遊。
- 毛毛關心政治，經常在報紙上投稿發表對政治議題的看法。

7. ( C ) 人民有集會遊行的自由，但遊行活動若發生失序的暴力行為，警方得強制驅離。請問：這是基於哪一項因素的考量？(A) 避免緊急危難 (B) 增進公共利益 (C) 維護社會秩序 (D) 防止妨礙他人自由。
8. ( A ) 依照我國法律規定，受國民教育的年齡範圍為下列何者？(A) 6歲至15歲 (B) 7歲至15歲 (C) 7歲至18歲 (D) 6歲至18歲。

9. ( D ) 下列是阿詠舉例說明某一概念的部分內容，根據內容判斷，這應是在探討我國「憲法」中哪一類型的人民基本權利？(A) 平等權 (B) 自由權 (C) 受益權 (D) 參政權。★

- 小民大學畢業後，通過公務人員考試，分發到鄉公所工作。
- 選舉前，里長廣播提醒大家踴躍投票，不要放棄自己神聖的一票。

10. ( A ) 下圖為紀強上臺報告的投影片內容，請問：報告的主題應是哪一項人民的基本義務？(A) 受國民教育 (B) 納稅 (C) 服兵役 (D) 遵守法律。

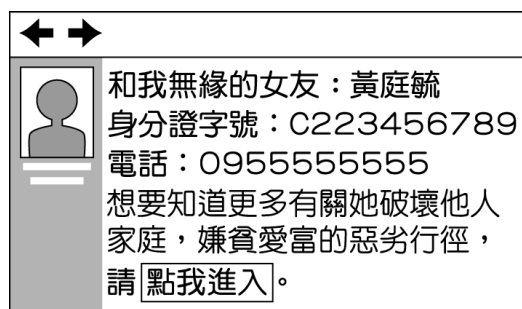
- \* 為人民權利的一種
- \* 能充實個人知識、技能與道德
- \* 提高公民素養
- \* 促進國家進步繁榮

11. ( D ) 自家騎樓雖然是自己的土地，但是仍不能因此任意堆放物品阻礙行人的通行。請問：這是依據哪一項法律原則所規定的？(A) 誠實信用原則 (B) 時效消滅原則 (C) 契約自由原則 (D) 權利濫用禁止原則。
12. ( C ) 依照《民法》規定，繼承人可在「法定期限」內選擇對自己最有利的繼承方式，以保障自身的權益。若是選擇拋棄繼承的方式，其「法定期限」指的是下列何者？(A) 被繼承人死亡之時起3個月內 (B) 被繼承人死亡之時起2個月內 (C) 知道得繼承之時起3個月內 (D) 知道得繼承之時起2個月內。
13. ( A ) 刑罰是國家依據《刑法》規定，對於犯罪行為實施具強制力的制裁手段。監獄中附設補校使受刑人能受教育而重新做人，主要在發揮刑罰的那種目的？(A) 矯正犯罪者的行為 (B) 懲罰犯罪行為 (C) 嚇阻犯罪的發生 (D) 使被害人能夠伸張正義。
14. ( C ) 在專制時代，法律的解釋多由統治者決定，所以常出現任意編造罪名、陷人於罪的情形。為避免上述權力濫用的情況，我國對於犯罪的規定是透過下列何項原則加以確立？(A) 比較利益 (B) 負擔能力 (C) 罪刑法定 (D) 誠實信用。★
15. ( C ) 「阿智和阿村打賭，輸的人要當對方的奴隸一星期。」請問這樣的約定無效的原因，是因為下列哪一個原因？(A) 因為是口頭約定，不是書面契約 (B) 違反了誠實信用原則 (C) 違反了契約自由原則 (D) 違反了權利濫用禁止原則。

# 新北市立鳳鳴國民中學（八年級）（八下）補考題庫

公民科試卷 八年 班 號 姓名：\_\_\_\_\_

16. ( A ) 知名蛋糕店將冷凍超過一星期的蛋糕，當作現做蛋糕販售給不知情的顧客，引發爭議。請問：商家的做法已經違反了何項法律原則？(A) 契約自由原則 (B) 誠實信用原則 (C) 權利濫用禁止原則 (D) 消滅時效。
17. ( B ) 阿青向圖書館借書，不慎將書籍撕破了，依照《民法》的規定，下列敘述何者正確？(A) 阿青只能以金錢賠償對方的損失 (B) 阿青可以拿一本同樣的書籍償還 (C) 阿青的行為屬於債務不履行 (D) 阿青是過失行為，因此不需賠償。
18. ( D ) 下列關於《民法》、《刑法》的規定，能有完全法律效力及負完全責任能力的年齡分別是幾歲？(A) 《民法》、《刑法》都是 20 歲 (B) 《民法》、《刑法》都是 18 歲 (C) 《民法》18 歲；《刑法》20 歲 (D) 《民法》20 歲；《刑法》18 歲。
19. ( D ) 臺北市有三名高三學生，對遊民潑灑排泄物，引發軒然大波，除公開道歉、校規處理外，並且依違反《社會秩序維護法》裁罰 1,500 元。請問：高中生違反該法的哪一項內容？(A) 妨害安寧秩序 (B) 妨害善良風俗 (C) 妨害公務 (D) 妨害他人身體財產。
20. ( A ) 阻卻違法事由，指的是人在「某些情形」下，行為雖然符合刑法犯罪的構成要件，卻被社會所容忍，不被認為是犯罪行為，請問：下列何種行為不會被處罰？(A) 火災時，為了逃生而打破店家的窗戶 (B) 開車恍神撞到路人 (C) 因為沒錢吃飯，所以偷拿麵包 (D) 因為不忍太太重病受苦，在太太苦求下幫助自殺。
21. ( D ) 下列哪一個單位設有調解委員會？(A) 行政法院 (B) 法務部 (C) 縣市政府 (D) 鄉、鎮、市、區公所。
22. ( C ) 小民與女友庭毓分手後，心有不甘，在部落格上發布了一則訊息，如附圖所示。請問：小民的行為已觸犯何種罪行？(A) 毀損罪 (B) 妨害風化罪 (C) 誹謗罪 (D) 公然侮辱罪。



23. ( D ) 阿明今年剛滿 16 歲，犯了擄人勒贖罪，他可能承受什麼樣的法律制裁？(A) 感化教育 (B) 保護管束 (C) 訓誡 (D) 有期徒刑。

24. ( D ) 有調查報告指出：「青少年使用非法藥物有進階過程，菸酒、檳榔是入門物質，之後惡化為毒品。【甲】法律規定任何人不得讓兒童及青少年吸菸、喝酒、吸食毒品……。」上述【甲】法律應為下列何者？(A) 《少年事件處理法》(B) 《勞動基準法》(C) 《兒童及少年福利與權益保障法》(D) 《兒童及少年性交易防制條例》。
25. ( C ) 當人民的權利受到政府或他人不法的侵害，可依合法程序行使「權利救濟」，以保障並維護自己的權益，如：調解、和解、訴訟等。請問：上述制度最能體現國家組成的哪一個目的？(A) 保障安全 (B) 提供福利 (C) 伸張正義 (D) 發展經濟。
26. ( D ) 依照《勞動基準法》的規定，所謂的「童工」年齡為何？(A) 15 歲以下 (B) 18 歲以下 (C) 12 歲以上未滿 15 歲 (D) 15 歲以上未滿 16 歲。
27. ( A ) 發生刑事案件時，偵查人員蒐集、鑑定相關證據，並研判嫌疑人的心態、動機等，以呈現犯罪事實，其目的在提供下列何人作為「判決」的依據？(A) 法官 (B) 檢察官 (C) 原告律師 (D) 刑事警察。★

【題組一】請從下述的訴訟過程或結果，判斷各屬於何種訴訟，並回答第 38~40 題：

參考選項：(A)民事訴訟 (B)刑事訴訟 (C)行政訴訟

28. ( C ) 政府處罰原告罰鍰新臺幣二十萬元，並且沒入違法的器材。原告不服，提起訴願，遭到駁回後，於是提起訴訟。
29. ( A ) 依雙方當事人簽約內容，如果被告工程有延誤，應該給付逾期金，現在被告延誤事實已經確定，因此應給付原告兩千五百四十萬元的逾期金。
30. ( B ) 經過偵審程序，被告沒有再犯的可能，且已經知道警惕，所以認為刑罰以暫不執行為適當，併處緩刑二年，以改過自新。