

# 新北市立鳳鳴國民中學（九年級）（九下）補考題庫

歷史 科試卷 九年 班 號 姓名：\_\_\_\_\_

1. (B) 小芳準備到歐洲某地旅遊，她看到網頁上介紹：「該地區種族和宗教相當複雜。長久以來紛爭不斷，因此被稱為『歐洲火藥庫』。」請問：小芳最有可能要到下列何處去遊玩呢？  
(A)義大利半島 (B)巴爾幹半島  
(C)伊比利半島 (D)斯堪地那維亞半島。
2. (D) 拉丁美洲在 19 世紀獨立建國之前，除巴西之外，幾乎是下列何國的殖民地？  
(A)葡萄牙 (B)英國 (C)法國 (D)西班牙。
3. (A) 19 世紀時，美國曾經宣布一項聲明，大意是：「美洲是美洲人的美洲，若歐洲各國執意干涉美洲的事務，美國將以武力抵抗。」請問：此為美國的哪一項對外聲明？  
(A)門羅宣言 (B)獨立宣言  
(C)開羅宣言 (D)人權宣言。
4. (D) 樂樂為了寫讀書心得報告，到圖書館借了一本「俾斯麥評傳」，請問：她的讀書心得主題為何？  
(A)拉丁美洲的獨立運動  
(B)義大利的統一運動  
(C)巴爾幹半島的民族建國運動  
(D)德意志帝國的建立。
5. (A) 義大利王國成立於西元 1861 年，直到西元 1870 年時趁著下列哪一戰役的爆發，收復羅馬，定為首都，完成統一？  
(A)普法戰爭 (B)普奧戰爭  
(C)薩奧戰爭 (D)丹麥戰爭。
6. (C) 小龍夢到自己回到 18 世紀的日本長崎，他看到這裡有許多紅髮碧眼的外國人。請問：這些外國人最有可能是下列哪個國家的人？  
(A)英國 (B)法國 (C)荷蘭 (D)德國。
7. (C) 日本在哪一項西化運動中，建立新式工業、發展經濟，成為亞洲的強國？  
(A)大化革新 (B)幕府運動  
(C)明治維新 (D)自強運動。
8. (B) 「寫實主義」是 19 世紀文藝發展主要派別之一，其興起背景為何？  
(A)科學革命 (B)工業革命  
(C)美國獨立 (D)啓蒙運動。
9. (D) 15~18 世紀，歐洲國家相繼向海外擴張，建立廣大的殖民地是在哪一史事之後？  
(A)十字軍東征 (B)宗教改革  
(C)啓蒙運動 (D)地理大發現。
10. (C) 第一次世界大戰期間，英、法軍隊合作，遏阻了德軍的攻勢，雙方在西線形成何種戰局？  
(A)殲滅戰 (B)宣傳戰 (C)壕溝戰 (D)閃電戰。
11. (C) 第一次世界大戰的爆發，主要是由哪兩國的衝突而起？(A)俄國、德國 (B)塞爾維亞、俄國  
(C)奧匈帝國、塞爾維亞 (D)奧匈帝國、俄國。
12. (A) 第一次世界大戰結束後，戰勝國成立維持永久和平的國際組織是下列何者？  
(A)國際聯盟 (B)聯合國  
(C)歐洲聯盟 (D)美洲聯盟。
13. (D) 第一次世界大戰結束後，美國總統提出了「十四點原則」，希望能夠處理戰後的世界格局。雖然他的努力失敗了，但是在當時他主張的哪一項原則使得列強控制下的各個殖民地得以紛紛起而要求自治，獨立建國？  
(A)民族共和 (B)帝國主義  
(C)東亞共榮 (D)民族自決。
14. (D) 某時期的女性首次體驗必須扮演原來男性的角色，已婚婦女要種田理家或處理生意；單身婦女多走入軍火工廠、軍需工廠或紡織廠上班，教職更是多由單身女性擔任。請問：此時期為何時？  
(A)第一次世界大戰前 (B)第一次世界大戰期間  
(C)戰間期 (D)第二次世界大戰期間。
15. (D) 在印度民族復興運動的過程中，哪一位人物提倡非暴力的「不合作運動」，號召印人不納稅、抵制英貨等，印度人尊其為「聖雄」？  
(A)凱末爾 (B)凱因斯 (C)墨索里尼 (D)甘地。
16. (A) 第一個將「馬克思思想」付諸實驗，建立共產政權的國家是何者？  
(A)蘇俄 (B)英國 (C)日本 (D)義大利。
17. (C) 第一次世界大戰期間，俄國因戰事失利，社會經濟問題嚴重，國內先後發生兩次革命，最後由下列何人建立共產政權—蘇聯？  
(A)史達林 (B)希特勒 (C)列寧 (D)戈巴契夫。
18. (B) 蘇聯共產政權建立後，積極推行計畫經濟，全力發展國防工業的統治者是下列何人？  
(A)列寧 (B)史達林 (C)戈巴契夫 (D)葉爾欽。
19. (C) 對於美國國力擴張得以進身為世界強國，最具關鍵影響的是哪一場戰爭？  
(A)美國獨立戰爭 (B)南北戰爭  
(C)第一次世界大戰 (D)第二次世界大戰。

# 新北市立鳳鳴國民中學（九年級）（九下）補考題庫

歷史 科試卷 九 年 班 號 姓名：\_\_\_\_\_

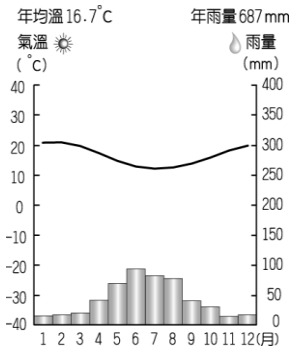
20. (D) 在經濟大恐慌後，使得美國的工商業幾近停頓，社會問題叢生。直到哪一位總統就職後，實施一連串的「新政」措施，才逐漸改善此一局面？  
(A) 林肯 (B) 威爾遜 (C) 門羅 (D) 羅斯福。
21. (D) 受到世界性經濟大恐慌的影響，歐洲哪些國家因國內政局不穩而出現極權政治的情形？  
(A) 俄、德 (B) 日、法 (C) 英、法 (D) 義、德。
22. (C) 電影「辛德勒的名單」中，將當年納粹黨對猶太人進行慘無人道的屠殺場面血淋淋的呈現在觀眾面前。請問：在當時實施種族迫害政策，尤以對猶太人的迫害最為嚴重的罪魁禍首是為何人？  
(A) 列寧 (B) 史達林 (C) 希特勒 (D) 墨索里尼。
23. (C) 中、美、英、蘇等同盟國對抗軸心國的局面正式形成，與哪一事件關係最為密切？  
(A) 盧溝橋事變 (B) 德國進攻波蘭  
(C) 珍珠港事變 (D) 諾曼第登陸。
24. (C) 戰間期美國對歐洲堅持何種外交政策，助長了義、德侵略的氣焰和第二次世界大戰的爆發？  
(A) 門戶開放政策 (B) 姑息主義  
(C) 孤立主義 (D) 睦鄰政策。
25. (C) 小顏研讀第二次世界大戰的經過時發現，迫使中國展開長達八年抗日戰爭，揭開亞洲戰場的序幕，是哪一事變？  
(A) 九一八事變 (B) 一二八事變  
(C) 盧溝橋事變 (D) 珍珠港事變。
26. (C) 聯合國是產生於第二次世界大戰後的國際性組織，下列哪一項有關聯合國的敘述，與史實不符？  
(A) 成立於 1945 年 (B) 各國均擁有否決權  
(C) 總部設於美國紐約 (D) 目的是維護國際和平。
27. (B) 第二次世界大戰後，美國提出馬歇爾計畫，其目的是援助哪一地區，使其經濟能快速復甦？  
(A) 亞洲 (B) 歐洲 (C) 非洲 (D) 拉丁美洲。
28. (B) 第二次世界大戰後發生的柏林危機、古巴危機、韓戰，均與下列哪一項因素有關？  
(A) 天主教、伊斯蘭教的衝突 (B) 能源的爭奪  
(C) 民族主義的勃興 (D) 美、蘇的對立。
29. (C) 某一些國家為了能在政治和經濟兩方面與當時的美、蘇兩大集團相抗衡，於是有下列哪一國際組織應運而生？  
(A) 共產國際 (B) 第三國際  
(C) 第三世界 (D) 國際聯盟。
30. (C) 蘇聯建立於第一次世界大戰後期，於 1991 年解體。請問：「蘇聯」此一紅色帝國的最後一位總統是誰？  
(A) 列寧 (B) 史達林 (C) 戈巴契夫 (D) 葉爾欽。

一、選擇

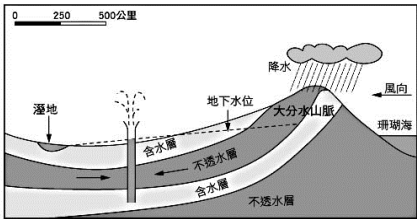
- (B) 非洲被稱為「黑金大陸」，和當地盛產豐富的貴重礦產有關。當地礦產資源豐富的主要因素為何？(A)氣候炎熱 (B)古老陸塊 (C)板塊張裂 (D)降雨豐富。
- (C) 臺灣本島的生物特有種比例相當高，而遠在非洲的馬達加斯加島也和臺灣本島一樣，該島上的特有種比例高達 80%。請問：臺灣本島和馬達加斯加島都擁有高比例的特有種，和哪個原因最相關？(A)寒暖流交會 (B)季風影響 (C)孤立的島嶼環境 (D)面積廣大。
- (B) 南非在前總統曼德拉的努力下，達到了族群融合的目標，也讓世人了解和平的力量。早期南非主要為哪兩個族群間紛爭不斷？(A)歐洲人和阿拉伯人 (B)非洲黑人和歐洲後裔 (C)農業族群和牧業族群 (D)都市居民和鄉村居民。
- (C) 過去尼羅河每年夏季定期氾濫，與上游流經哪個氣候區**最為相關**？(A)熱帶雨林氣候 (B)夏雨型暖溼氣候 (C)熱帶莽原氣候 (D)溫帶地中海型氣候。
- (A) 非洲近年來積極走出新的出路，下列哪一項產業類別為非洲經濟未來可發展的方向？(A)生態旅遊業 (B)環保能源產業 (C)資訊科技產業 (D)電話服務。
- (C) 根據數據顯示，約有一半鑽石產自非洲，它除了帶給非洲財富外，也帶給當地人民無休止的暴力、血腥及自相殘殺。請問上述主要發生在右圖哪一個地區？(A)甲 (B)乙 (C)丙 (D)丁。



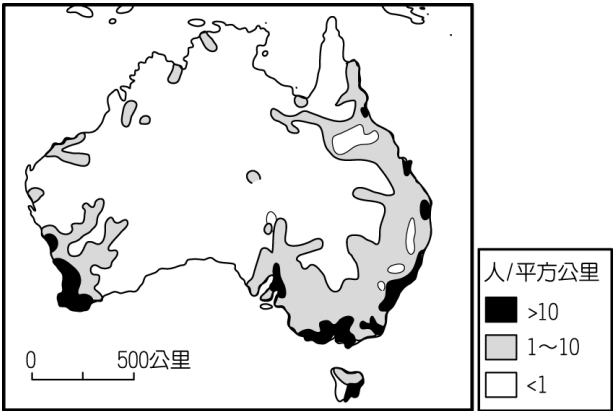
- (A) 非洲國家族群間衝突不斷，造成政治局勢不穩定，同一國家內有許多不同族群，彼此間互相攻擊的情況屢見不鮮。請問：造成這種現象的最主要的原因為下列何者？(A)國界畫分不當 (B)宗教信仰不同 (C)語言溝通障礙 (D)種族隔離政策。
- (A) 右圖為非洲某地區的氣溫雨量圖，由圖中資料加以判斷，該地區的氣候類型應該為下列何者？(A)溫帶地中海型氣候 (B)熱帶莽原氣候 (C)熱帶雨林氣候 (D)高地氣候。



- (D) 非洲的經濟活動以農礦居多，為世界各大洲中發展較慢的地區。請問：該地區主要對外輸出的農產品為下列何者？(A)稻米 (B)小麥 (C)蘋果 (D)可可。
- (A) 澳洲的畜牧業發達，但大分水嶺山脈以西的地區降雨較少，如右圖所示，當地居民利用下列哪種水源，供應牧場所需的用水？(A)自流井 (B)灌溉渠道 (C)海水淡化 (D)坎井。



- (C) 我國的邦交國吐瓦魯因為地勢低，平均高度僅 4.5 公尺，因此受到海面上升的威脅甚大。請問：該國最可能為何種性質的島嶼？(A)大陸島 (B)火山島 (C)珊瑚礁島 (D)沙洲島。
- (A) 下圖為澳洲人口分布圖，其中澳洲中西部人口分布稀疏的原因為何？(A)氣候乾燥 (B)交通不便 (C)地震頻繁 (D)產業落後。



- (B) 紐西蘭位於環太平洋的火山地震帶上，這對當地的影響主要為何？(A)面積狹小 (B)山地地形 (C)冰河地形 (D)草原廣大。
- (B) 澳洲面積廣大，但是受到自然環境的影響，以何處為主要精華區，人口集中且產業發達？(A)大分水嶺 (B)東南沿海平原 (C)西部古老高原 (D)南部海域離島。
- (D) 紐澳地區早期曾為哪一國的殖民地，因此其文化特色和經濟發展深受該殖民母國的影響？(A)美國 (B)法國 (C)德國 (D)英國。
- (B) 南、北極兩地同處於地球極端點，形成各種不同的區域特色。下列有關這兩個地方的比較，何者**錯誤**？

	北極點	南極點
(A)緯度	北緯 90 度	南緯 90 度
(B)性質	陸地	海洋
(C)永晝時間	6 月	12 月
(D)極區溫度	較高	較低



17. (C) 極區的極光景象相當絢麗，讓人彷彿置身於人間仙境，因此被稱為「幸福之光」。請問：有關極區環境的敘述，下列何者正確？  
(A) 降雨量多 (B) 闊葉林廣布  
(C) 寒漠景觀 (D) 蒸發旺盛。
18. (B) 隨著跨國企業的擴張，美國的麥當勞速食也進軍了西亞國家。在當地的麥當勞為適應其文化特色，因此沒有推出何種漢堡？  
(A) 鮮蝦漢堡 (B) 豬肉漢堡  
(C) 雞腿漢堡 (D) 牛肉漢堡。
19. (A) 全球化成為現代經濟的特色，下列有關全球經濟的敘述，何者正確？  
(A) 全球各國的經濟發展受其他國家影響  
(B) 全球商品的貿易使用統一貨幣  
(C) 全球各國自行生產所需產品  
(D) 全球實施以物易物的貿易制度。
20. (D) 下列何種現象使得世界各地的往來更加密切，國際間的相互關係也日益錯綜複雜？  
(A) 工業化 (B) 都市化  
(C) 區域化 (D) 全球化。
21. (C) 全球化過程中，跨國企業將生產基地分散至不同的國家或地區，其主要目的為下列何者？  
(A) 均衡區域發展 (B) 促進國內消費  
(C) 降低生產成本 (D) 降低國內失業率。
22. (C) 近年來臺灣喝咖啡的風氣相當興盛，已成為許多人的日常生活方式。請問：臺灣店家所販賣的咖啡豆最可能由下列哪一個國家生產？  
(A) 英國 (B) 美國  
(C) 巴西 (D) 俄羅斯。
23. (D) 有許多跨國企業將其商品銷售到臺灣，使臺灣呈現國際化的市場特色。下列何者不是跨國企業的商品？  
(A) 麥當勞漢堡 (B) 任天堂電玩  
(C) 愛迪達球鞋 (D) 阿美族項鍊。
24. (B) 全球性經濟活動的運作下，許多經濟性組織紛紛因應而生。請問：下列哪一個組織具有「加強區域內國家合作、增強面對區域外國家的競爭力」的目的？ (A) WTO (B) UN  
(C) NAFTA (D) IMF。
25. (D) 人類大規模砍伐熱帶雨林，造成生態系統失衡。請問：全球最大的熱帶雨林區位於何處？ (A) 亞洲南洋群島 (B) 非洲剛果河流域  
(C) 歐洲伊比利半島 (D) 南美洲亞馬孫河流域。
26. (B) 近年來北極地區冰層面積逐漸縮小，其原因為何？ (A) 地震 (B) 全球暖化 (C) 臭氧層破洞 (D) 土地荒漠化。

27. (D) 熱帶雨林被譽為「地球之肺」，是因森林具有哪項功能？ (A) 涵養水源 (B) 吸收太陽輻射 (C) 保持生物多樣性 (D) 吸收二氧化碳再轉換成氧氣釋出。
28. (A) 21 世紀以來，地球上各種環境問題愈趨嚴重，甚至影響全人類的存亡。請問：國際社會為了未來的生態環境，提出下列何種目標？  
(A) 永續發展 (B) 物盡其用  
(C) 加速工業化 (D) 區域發展。
29. (B) 全球暖化所衍生的環境改變為下列何者？  
(A) 冰河面積增加 (B) 海水面上升  
(C) 海岸線外移 (D) 泥沙淤積旺盛。
30. (D) 全球環境問題相當複雜，且各地區所面臨的挑戰各不相同。依附圖判斷，圖中甲、乙氣候類型的分布區域內，其主要面對的環境問題為何？ (A) 空氣汙染 (B) 臭氧層破洞  
(C) 海水面上升 (D) 水資源短缺。



# 新北市立鳳鳴國民中學 (九年級) (下) 補考題庫

公民 科試卷 九 年 班 號 姓名：\_\_\_\_\_

1. ( D ) 在過去非人為因素的介入下，人們缺乏與其他文化接觸的機會，這是何種原因所造成的？  
(A) 政治過於專制 (B) 經濟發展落後 (C) 教育不普及 (D) 地理環境的阻隔。
2. ( D ) 文化交流讓世界成為地球村，而促使現代文化交流更加快速、頻繁的因素是下列何者？  
(A) 全球經濟的發展 (B) 世界衛生組織的提倡  
(C) 獨裁體制的統合 (D) 交通工具與傳播媒體的發達。
3. ( A ) 教育部推行鄉土語言的政策，各級學校開始有原住民語、客家語、河洛話的教學。請問：這是屬於下列何者的表現？  
(A) 尊重多元文化 (B) 促進終身學習 (C) 邁向國際社會 (D) 提倡世界和平。
4. ( D ) 西方國家將媒體視為行政、立法、司法三權分立以外的「第四權」，這是指媒體能發揮哪一種功能？  
(A) 提供訊息 (B) 休閒娛樂 (C) 教育文化 (D) 監督政府。
5. ( A ) 重大天災人禍發生時，報紙等媒體通常會立刻發行號外，例如：2011 年日本東北地方太平洋近海地震造成福島等沿海地區毀滅性的破壞，電視及網路隨時插播即時新聞。請問：上述情形主要在發揮傳播媒體的哪項功能？  
(A) 提供訊息 (B) 監督政府 (C) 休閒娛樂 (D) 教育文化。
6. ( C ) 「85°C」是咖啡蛋糕連鎖店，中國大陸地區有不肖業者創立「58°C」，且商標形式也相似，請問：「58°C」業者觸犯了下列哪一項法律？  
(A) 憲法 (B) 著作權法 (C) 商標法 (D) 專利法。
7. ( C ) 下列何者是科技帶來的負面影響？  
(A) 上網購物既輕鬆又方便 (B) 使用手機讓溝通無距離  
(C) 網際網路的蓬勃發展讓色情業者多了行銷的管道 (D) 微波爐發明後，解凍食物不必再長久等待。
8. ( A ) 在所有的全球性國際組織中，其目標最主要在維持國際和平與安全，以及促成經濟、社會、文化或人道方面的國際合作，目前共有 193 個會員國。請問：這是指哪一國際組織？  
(A) 聯合國 (B) 國際紅十字會 (C) 華沙公約組織 (D) 亞太經濟合作會議。
9. ( B ) 下列哪一個是解決國際衝突最不得已、最慘烈、付出代價最大的方式？  
(A) 禁運政策 (B) 發動戰爭 (C) 經濟制裁 (D) 外交談判。
10. ( D ) 我國積極努力爭取成為國際組織的一員，但是遭到中國打壓與阻擾而無法如願，主要在於這

些國際組織認定我國「缺乏」哪一國家組成的要素？  
(A) 政府 (B) 領土 (C) 人民 (D) 主權。

11. ( A ) 愈來愈多國家發現熱帶雨林的砍伐、土地荒漠化等現象，將使得他們賴以為生的資源遭受破壞。多國領袖在參與地球高峰會後，達成以下共識：「唯有不傷害到地球環境生態，未來的經濟發展才有可能實現。」請問：這符合下列何種概念？  
(A) 追求永續發展 (B) 做好國土規畫  
(C) 促進產業升級 (D) 平衡區域發展。
12. ( A ) 礙於政治現實，我國目前無法成為聯合國的會員，但是由於我國哪一方面的成就，使得我們得以突破世界政治體系中所遭遇的困境，順利成為世界貿易組織 (WTO) 與亞太經濟合作會議 (APEC) 的會員？  
(A) 經貿成就 (B) 國防軍備 (C) 醫療科技 (D) 藝術文化。
13. ( B ) 日本發生 311 地震時，我國以及各國提供日本各種救援的物資，請問：這是屬於哪一種國際社會中的互動方式？  
(A) 國際合作 (B) 國際援助 (C) 國際衝突 (D) 國際交流。
14. ( B ) 臺灣人民對日本 311 震災慷慨捐款，除了發揮國際人道救援之外，還展現了世界公民的何種素養？  
(A) 培養本土情懷 (B) 參與關心國際事務 (C) 尊重文化多元 (D) 培養終身學習。
15. ( A ) 水果日報報導某明星的私生活，將其私生活暴露在社會大眾面前，請問：此舉侵犯何種權利？  
(A) 隱私權 (B) 智慧財產權 (C) 言論自由權 (D) 媒體接近使用權。
16. ( D ) 約瑟夫·勞伯特是 1995 年諾貝爾和平獎的得主，他致力於廢除核子武器，堅信科學家應該為自己的發明負起責任。根據約瑟夫·勞伯特的想法，科技發展的好與壞，最重要是取決於何者？  
(A) 法律的健全 (B) 資金的充足 (C) 人類的創意 (D) 發明者和使用者的良知。
17. ( D ) 科技發展能使資訊的傳播與獲取更有效率，但如電腦病毒等的惡意傳播，也常造成個人及公眾利益的損害。由上述科技發展所產生的利與弊，顯示當前社會應更注重下列何者的提升？  
(A) 公平正義 (B) 生產技術 (C) 自我調適 (D) 倫理價值。
18. ( A ) 受到全球化的影響，國際社會的互動更加的多元，常見的互動型態包含了交流、合作、援助與衝突。請判斷下列的時事議題屬於何種型態的國際互動？  
(A) 國際交流 (B) 國際合作 (C) 國際援助 (D) 國際衝突。



# 新北市立鳳鳴國民中學 ( 九年級 ) ( 下 ) 補考題庫

公民 科試卷 九 年 班 號 姓名：\_\_\_\_\_

我國的金馬影展每年都會邀請各國影片參展，增加我國民眾接觸不同國家電影的機會；我國的電影也積極參加世界各大影展，並且與其他國家的電影工作者互相觀摩學習。

19. ( D ) 受到全球化的影響，國際社會的互動更加的多元，常見的互動型態包含了交流、合作、援助與衝突。請判斷下列的時事議題屬於何種型態的國際互動？(A) 國際交流 (B) 國際合作 (C) 國際援助 (D) 國際衝突。

西元 2010 年，北韓的軍隊無預警砲擊南韓的延坪島，而南韓的軍隊隨即以武力反擊，兩國互相開火的舉動，皆造成了人員的傷亡。

20. ( A ) 受到全球化的影響，國際社會的互動更加的多元，常見的互動型態包含了交流、合作、援助與衝突。請判斷下列的時事議題屬於何種型態的國際互動？(A) 國際交流 (B) 國際合作 (C) 國際援助 (D) 國際衝突。

國立歷史博物館與聯合報社共同主辦「燃燒的靈魂－梵谷畫展」，特地自荷蘭的庫勒慕勒美術館，以及日本的 POLA 美術館商借梵谷作品，讓我國的民眾有機會一睹梵谷的真跡。

21. ( C ) 從前佑佑只會上網瀏覽他人部落格，現在他學會編輯部落格，也喜歡在自己的部落格中放置照片和其他網友分享。根據上述，可以說明哪一種事實？(A) 網路資訊不一定真實 (B) 資訊公開而侵犯個人隱私 (C) 閱聽人角色的轉變 (D) 傳播文化全球化。

22. ( B ) 臺灣由於歷史背景較為特殊，因此有多種文化在此交會。請問：我們在臺灣可以看到日本、荷蘭、西班牙等國家的建築，此為何種因素所造成？(A) 移民 (B) 殖民 (C) 傳播媒體 (D) 國際貿易。

23. ( B ) 在英國倫敦，我們可以看到充滿農曆年節氣息的中國城街景；同樣地，在日本、美國也有類似唐人街的景象，請問：此為何種因素所造成的現象？(A) 殖民 (B) 移民 (C) 傳播媒體 (D) 國際貿易。

24. ( C ) 「我們無論在紐約、巴黎、臺北，甚至北京、雅加達的街頭，都可以看到麥當勞或星巴克的招牌；也可以看到許多來自不同國家的人在當地生活。」以上這段敘述主要是受到何種現象的

影響？(A) 工業化 (B) 民主化 (C) 全球化 (D) 資本化。

25. ( D ) 許多外國人喜愛臺灣的美食，諸如蚵仔煎、珍珠奶茶等，而臺灣也有許多人喜愛吃披薩、漢堡等外國美食。請問：上述不同文化間互相接觸、影響的過程稱為什麼？(A) 文化侵略 (B) 文化疏離 (C) 文化衝擊 (D) 文化交流。

26. ( D ) 美華喜歡到處旅行，她除了喜歡到歐美國家之外，也到其他地區如中南美洲、非洲等地方，了解不同的風土人情，以增廣見聞。請問：美華的行為符合多元文化的何項精神？(A) 肯定自身文化 (B) 激發文化創新 (C) 傳承傳統文化 (D) 擴展國際視野。

27. ( C ) 大陸媒體曾經報導用「紙」作為餡的包子，引起各地閱聽人的議論紛紛，後來證實是媒體記者自導自演的騙局。請問：根據上述事件，凸顯出傳播媒體的何項問題？(A) 資訊雙向互動產生網路犯罪問題 (B) 網路的特殊文化影響溝通模式 (C) 資訊內容氾濫真偽難辨 (D) 資訊公開對隱私權的侵犯。

28. ( C ) 人類的科技已可複製牛、羊、豬，複製人的技術亦無困難，但各國均禁止從事複製人的研究，其主要考量為何？(A) 人口太多，糧食可能不足 (B) 成本太高，經費不足 (C) 衝擊倫理觀及法律規範 (D) 缺乏經濟利益和商業價值。

29. ( C ) 因應全球暖化的問題，「巴黎協定」規範簽約各國二氧化碳減量排放的責任，並具有一定的約束力。請問：制定此公約的目的是希望透過何種管道，來保護地球環境的責任？(A) 武力制裁 (B) 道德層次的提升 (C) 制度層次的改變 (D) 更新器物生活。

30. ( A ) 下列何者為對世界和平與國際安全最大的威脅？(A) 軍備競賽 (B) 過度開發森林 (C) 珍惜水資源 (D) 發展複製人科技。