
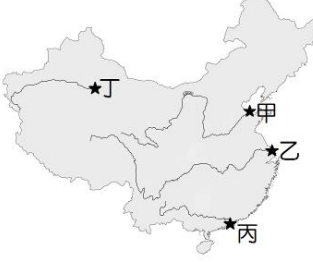




一、選擇

1. (C) 附圖為中國行政區圖，圖中深色處為何種省級行政區劃？
(A)省 (B)自治區 (C)直轄市 (D)特別行政區。
- 
2. (C) 中國主要的河川大都由西向東流，注入哪一個海域？
(A)北極海 (B)印度洋 (C)太平洋 (D)大西洋。
3. (D) 高氣壓籠罩在蒙古一帶，風向是從陸地吹向海洋。」上述情形應主要發生在哪一個季節？
(A)春 (B)夏 (C)秋 (D)冬。
4. (B) 海南島成為中國最適合種植熱帶作物的地區，與何項地理環境最相關？
(A)經度 (B)緯度 (C)季風 (D)地形。
5. (A) 下列何者是造成黃土高原表面溝谷散布、崎嶇不平的主要作用力？
(A)流水侵蝕 (B)風力侵蝕 (C)斷層作用 (D)火山作用。
6. (C) 中國西半部的居民多從事畜牧活動，主要的原因為何？
(A)地形複雜 (B)河湖密布 (C)氣候乾燥 (D)土壤肥沃。
7. (D) 下列哪一種牲畜是青藏高原的主要交通工具，有「高原之舟」的美稱？
(A)天馬 (B)駱駝 (C)山羊 (D)犛牛。
8. (C) 中國東半部的人口主要集中在何種地形？
(A)綠洲、河谷 (B)丘陵、山地 (C)平原、丘陵 (D)山地、高原。
9. (D) 中國人口的性別比呈現「男多於女」的情形，下列哪一個數字最可能是中國的性別比？
(A)86 (B)91 (C)100 (D)105。
10. (B) 改革開放前期廠商至中國投資，主要以製造玩具、鞋類等商品為主，是因中國具有何項優勢？
(A)市場廣大 (B)勞力便宜 (C)原料豐富 (D)科技發達。
11. (C) 中國東部沿海地帶最主要的三個工業區為：(甲)珠三角 (乙)環渤海 (丙)長三角。若「由北而南」排列，下列順序何者正確？
(A)甲乙丙 (B)甲丙乙 (C)乙丙甲 (D)丙乙甲。
12. (A) 中國為解決北部地區日益嚴重的缺水問題，在二十世紀末期展開「南水北調」工程，將哪一條河川的水資源引入黃河流域？
(A)長江 (B)海河 (C)淮河 (D)珠江。

13. (C) 鄰近香港與澳門的珠江三角洲地帶，近 20 年來經濟發展迅速，成為中國重要的經濟體系之一。阿明想帶公司員工參訪此地，應前往附圖中何處？
(A)甲 (B)乙 (C)丙 (D)丁。
- 
14. (D) 下列何者為朝鮮半島與日本群島冬、夏季風的風向？
(A)冬→，夏← (B)冬↓，夏↑ (C)冬↙，夏↗ (D)冬↘，夏↖。
15. (C) 泡溫泉是日本的國民運動，除了一般民眾外，在日本的野溪溫泉中甚至也看得到猴子泡溫泉的情形，如附圖所示，而日本溫泉分布眾多與下列何者的關係最密切？
(A)沿海暖流經過 (B)地下水源充沛 (C)居板塊交界帶 (D)緯度低蒸發強。
- 
16. (C) 日本陸地面積狹小，但經濟海域的範圍卻十分廣大，其主要原因為何？
(A)岩岸眾多 (B)洋流眾多 (C)島嶼眾多 (D)國力強大。
17. (B) (甲)本州 (乙)北海道 (丙)四國 (丁)九州，以上為日本四大島嶼，若由北而南進行排列，下列順序何者正確？
(A)甲乙丙丁 (B)乙甲丙丁 (C)丙乙丁甲 (D)丁丙甲乙。
18. (A) 附圖是某營養師所做的各國料理熱量分析，請問：圖中料理應歸類為哪一國家的料理？
(A)南韓 (B)日本 (C)泰國 (D)越南。
- 
19. (B) 北韓的工業發展比南韓早，主要與下列哪一個因素關係可能最密切？
(A)勞力資源較多 (B)礦產資源較豐 (C)學術水準較高 (D)經濟高度發展。
20. (B) 南韓近年來經濟成長快速，各項 3C 產品在全球供應鏈已占有一席之地。請問：下列關於南韓的經濟特色，何者正確？
(A)以中小企業為主 (B)國家大力扶植大型財團 (C)農產加工為重要外銷產品 (D)以紡織品等流行服飾出口為主。

新北市立鳳鳴國民中學（八年級）（八上）補考題庫

歷史 科試卷 八年 班 號 姓名：_____

- (A) 玄奘自天竺取經回國後，皇帝特別興建「大雁塔」讓玄奘能專心翻譯典籍、保存文物。請問：大雁塔裡主要應該哪一宗教的文物？ (A)佛教 (B)伊斯蘭教 (C)印度教 (D)道教。
- (D) 附圖的文字，當初是根據中國漢字所創造出來。請問：這應該是下列哪一國的文字？

ハ	奈	多	加	阿	片
ハ	ナ	タ	カ	ア	假名
利	比	仁	千	伊	
リ	ヒ	ニ	チ	イ	
波	奈	太	加	安	平
ハ	ナ	タ	カ	ア	假名
利	比	仁	千	伊	
リ	ヒ	ニ	チ	イ	

 (A)大食 (B)吐蕃 (C)新羅 (D)日本。
- (A) 唐玄宗年間爆發怛羅斯之役，對中外文化交流，產生什麼影響？ (A)中國的造紙術西傳至歐洲 (B)永嘉之禍接續爆發，鮮卑人攻陷長安 (C)陸路交通中斷，此後文化交流皆來自海路 (D)唐朝以絲綢、瓷器向大食求和，絲路於此時首次展開。
- (C) 小華看到新聞上，某些政治人物講著台語、客語等等，但他聽不懂，於是他透過看字幕，了解這些發言的內容。這種以文字彌補語言紛歧的障礙，與哪一位歷史人物的措施相似？ (A)孔子 (B)劉邦 (C)秦始皇 (D)漢武帝。
- (C) 九品官人法是由中正官依照家世、才能、德行等標準，把人們品評為九等，以此作為選任官員的依據。請問：此制度對當時的社會有何影響？ (A)為劉邦建立漢朝奠定基礎 (B)商鞅之法成為社會主流思想 (C)造成「上品無寒門，下品無世族」現象 (D)促成平民入仕機會增加，社會階級流動頻繁。
- (B) 秦始皇為了建立高度中央集權的政府。請問：下列何者不是他的措施之一？ (A)廢封建，改行郡縣制 (B)興辦科舉考試 (C)官員不再世襲 (D)統一文字、度量衡。
- (C) 始於唐代的「市舶司」負責管理海路貿易，其功能類似今日的海關。請問：設立市舶司的原因為何？ (A)「中國風」盛行於歐洲 (B)流寇猖獗 (C)海外貿易發達 (D)協助鄭和下西洋。
- (C) 簽訂「澶淵之盟」後，北宋每年輸送「歲幣」給遼國，目的為何？ (A)炫耀雄厚的財力 (B)向遼購買戰馬 (C)換取和平 (D)協助遼國建設。
- (C) 清朝以外族之姿入關統治，導致清朝在治理帝國上特別小心謹慎，有懷柔手段，也有高壓手段。下列何者不是清初採用的手段之一？ (A)舉行科舉制度 (B)大興文字獄 (C)停止朝貢貿易、廣設驛站、廣發寶鈔 (D)薙髮留辮。
- (C) 古代中國的住宅區、商業區，曾是被法律規定分開的。直到何時，如此規定因商業繁盛而消失？ (A)隋代 (B)唐代 (C)宋代 (D)元代。
- (A) 番薯這種耐旱的新作物，有效的舒緩人口壓力，不宜種稻的山坡地都能種植，成為糧食不足時的解方。蕃薯等新作物，是從下列何處傳入中國？ (A)美洲 (B)非洲 (C)歐洲 (D)澳洲。
- (B) 明初和清初，皆曾施行海禁政策，其主要原因各自為何？ (A)皆為防範倭寇入侵 (B)明初為防範倭寇，清初為封鎖臺灣鄭氏 (C)明初為封鎖臺灣鄭氏，清初為防範倭寇 (D)皆為防範臺灣鄭氏。
- (D) 清初，吳三桂被重用，受封為「平西王」，是因為吳三桂對清廷有何功勞？ (A)對抗歐洲人 (B)收復臺灣 (C)平定朝鮮 (D)引清兵入關。
- (C) 下列各選項，何者不是自強運動的改革內容？ (A)設立南京兵工廠 (B)組建北洋艦隊 (C)廢除科舉制度 (D)派遣留學生前往美國。
- (C) 清末，立憲派人士一度熱衷請願推廣立憲，但最後為何許多人轉而支持革命？ (A)因康有為大力提倡革命 (B)義和團事件，使其看透清廷昏庸 (C)「皇族內閣」讓他們大為失望 (D)因革命派的收買，使立憲派與革命派合流。

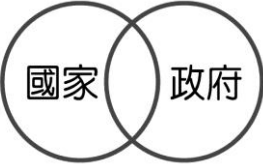
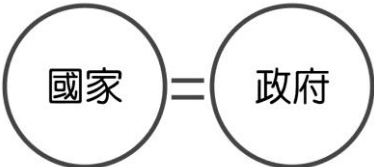
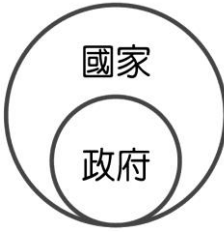

新北市立鳳鳴國民中學（八年級）（八上）補考題庫

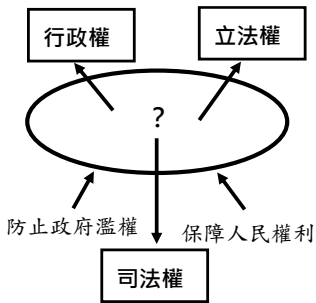
歷史 科試卷 八 年 班 號 姓名：

16. （ A ）「根據《南京條約》的某項內容，如果日後中國與某國訂定新約、給予某國其他權利，英國得以『一體均霑』，同時享有。」請問：此項內容應為何者？（A）片面最惠國待遇 （B）領事裁判權 （C）協定關稅 （D）五口通商。
17. （ C ）日本曾在江戶幕府末年遭遇「黑船」入侵，「黑船」逼迫日本開港通商。關於此「黑船事件」，下列何者正確？（A）日本最後僅開放廣州一口通商 （B）黑船應該屬於荷蘭 （C）可謂是日本「明治維新」的開端 （D）黑船在日本，遭到大量義和團的圍攻。
18. （ D ）《北京法源寺》一書，以「維新四公子」之一的譚嗣同為主角，書中還提到慈禧太后、光緒皇帝、梁啟超、康有為等人。請問：《北京法源寺》應該是以下列哪一歷史事件為背景？（A）八國聯軍 （B）明治維新 （C）自強運動 （D）戊戌變法。
19. （ D ）威廉是同治年間來華的英國人，他想與清朝政府交涉公務，應要前往哪一機構？（A）市舶司 （B）公行 （C）京師大學堂 （D）總理各國事務衙門。
20. （ A ）西元 19 世紀，中國遭逢「數千年來未有之變局」、遇到「數千年來未有之強敵」，是「清廷應付中西一連串衝突的開端」，也是「中國歷史轉入新階段的起點」。請問：上述的「開端」和「起點」應是指下列何者？（A）鴉片戰爭 （B）英法聯軍 （C）甲午戰爭 （D）八國聯軍。

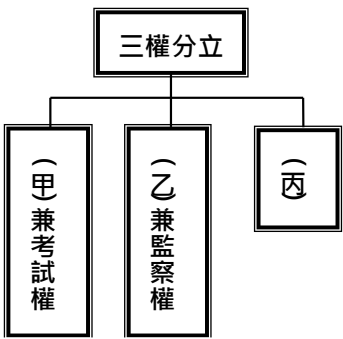
新 北 市 立 鳳 鳴 國 民 中 學 (八 年 級) (8 上) 補 考 題 庫

公民 科試卷 八 年 班 號 姓名：

1. (B)加泰隆尼亞位於西班牙東北部，因為和其他地區相比，有自己的語言、文化和民族，所以當地在 2017 年舉行公投，贊成獨立建國，但西班牙政府卻直接接管當地政府。對此歐洲理事會主席和美國國務院都力挺西班牙政府的作法，認為西班牙領土的一致性是有必要的，請問加泰隆尼亞在追求獨立的過程中遭遇到那種問題？
- (A) 沒有人民 (B) 沒有主權
(C) 沒有政府 (D) 沒有領土。
2. (C)上完公民課之後，阿妮亞完全看不懂國家和政府到底有何不同，她的好朋友貝蒂看下去決定用簡單的圖示法教懂她，請問貝蒂會用下列那一張圖來表示國家和政府的關係？
- (A)  (B) 
- (C)  (D) 
3. (A)某國的吉爾伯特首相在國內爆發嚴重飢荒時完全不採取應變的行動，使得國內民眾怨聲四起，決定在首都發動示威遊行，要求吉爾伯特要為救災不力下台，請問吉爾伯特被要求下台負責符合民主政治的哪一項特色？
- (A) 責任政治 (B) 政黨政治
(C) 法治政治 (D) 民意政治。
4. (B)4. 私立高等八坂中等學校 2 年 B 班的公民課正好在上權力和權利的差異，公民老師要求班上同學舉例說明，請問下列何者的說法完全正確？
- (A) 草壁正宗：大眾捷運禁止飲食—人民的權力
(B) 安達垣愛姬：工會上街頭抗議—人民的權利
(C) 小岩井吉乃：環保團體舉辦遊行活動—政府的權力
(D) 藤之宮寧子：警察進行路邊酒測攔檢—政府的權利。



5. (D)武藤遊戲在解開爺爺送給他的千年積木之後，掉出了一張如下圖的神祕卡片，依圖中資訊判斷，請問該張卡片中間的問號應該是指下列何者？
- (A) 中央集權
(B) 地方分權
(C) 公平正義
(D) 分權制衡。
6. (C)夏川愛華在上完公民課後將上課內容做成下圖，根據內容判斷，依圖中資訊判斷，圖中的「丙」是指下列何者列？
- (A) 行政權 (B) 立法權 (C) 司法權 (D) 軍事權。
7. (B)中國著名的夏朝遺址—二里頭文化—在挖掘出土後，發現作為政治中心的大型宮殿遺址，從大型宮殿遺址需要動用大量人力和長時間投入才能完成來判斷，夏朝已經擁有管理大量人民的能力和足以指揮這些人民的組織。根據上述描述內容，能看出哪些國家組成要素？(A) 人民、政府 (B) 政府、主權 (C) 主權、領土 (D) 領土、人民。
8. (D)法馬是一位某國衛福部官員，當他看到民眾苦於昂貴的醫療費用而無法就醫時，決定向總統建議在首都設立服務民眾的藥局，使得當地民眾能用較低的價格去買藥，因此得到國內民眾的支持。請問法馬的行為以現代民主政治的觀點來看，符合民主政治的哪一項特色？(A) 法治政治 (B) 責任政治 (C) 政黨政治 (D) 民意政治
9. (D)11. 1993 年華視推出八點檔連續劇「包青天」，描述北宋擔任開封府府尹的包拯，在任官期間審理過的各種奇案。在劇中包拯公正不阿，又能在情理間取得平衡，被民間稱為「包青天」，深受民眾的愛戴。從開封府府尹的職責是審理各種訴訟案件來看，相當於現在的那一種職務？
- (A) 立法委員 (B) 大法官
(C) 監察委員 (D) 法官。
10. (A)13. 近期雲林縣農民向當地鄉公所陳情，過去農民在颱風過境前會搶收水稻並申請農損現金救助，但農業部本月 21 日才公告，因小犬颱風受損 20% 以上的農民可以申請，農民在水稻收割完的情況下無法提出申請，感到不滿。請問引發民怨的農業部屬於哪一個單位？(A) 行政院 (B) 立法院 (C) 考試院 (D) 監察院
11. (A)空軍的 E-2K 預警機在去年 11 月發生落地時未放下起落架，導致機體嚴重損毀的意外，經歷過一年的調查之後，監察院決定依據調查報告對國防部提出「甲」。請問「甲」指的是下列何者？
- (A) 糾正 (B) 彈劾 (C) 糾舉 (D) 罷免。



新北市立鳳鳴國民中學（八年級）（8上）補考題庫

公民

科試卷

八年

班

號

姓名：

12. (C)本月初中央某位官員拜訪農業部，雙方就自然保育人才需求等議題進行交流，農業部部長表示，要開創農業永續經營，需要相關專業人員，希望某位官員能夠協助農業部解決人力不足的問題。會後雙方召開記者會，某位官員允諾明年將增加森林護管員的錄取名額來解決問題。請問某位官員應該屬於中央的哪一個單位？(A) 憲法法庭 (B) 懲戒法院 (C) 考試院 (D) 審計部
13. (B)甲機關調查發現，某名縣長為圖個人不法利益，協助廠商得標後收受賄賂，嚴重敗壞法紀及損害政府廉潔形象，甲機關通過彈劾後，移送乙機關審理，依法懲戒。下列哪一項舉例配對正確？
(A) 甲：立法院、乙：司法院
(B) 甲：監察院、乙：司法院
(C) 甲：考試院、乙：監察院
(D) 甲：行政院、乙：監察院。
14. (D)在民主國家，民眾如果對公共事務有意見，可以選擇直接向政府或間接向政府表達意見，請問下列敘述中何者的表達方式和其他三者「不同」？
(A) 知名學者呼籲官員重視校園導護問題
(B) 家長召開記者會要求公告性侵犯個資
(C) 林靖娟基金會舉辦交通安全主題講座
(D) TVBS 民調中心進行今年總統大選民調
15. (C)光緒 21 年(1895 年)中國和日本簽訂馬關條約，割讓台灣及遼東，並且賠款白銀兩萬兩，引發進京參加科舉考試的舉人不滿，要求中國改革，光緒皇帝因此推動戊戌變法。沒想到戊戌變法內容提到廢除科舉和八股文取士，原本支持改革的舉人轉而支持慈禧太后的守舊派，導致戊戌變法失敗。請問舉人們的表現符合公共意見的哪一種特性？
(A) 議題性 (B) 複雜性
(C) 變動性 (D) 影響性。
16. (B)政治參與是指人民企圖影響政府人事及決策，所採取的實際行動，請問下列行動中何者與政治參與「無關」？
(A) 在報紙上投稿社論文章
(B) 在學生自治會發表言論
(C) 打電話到電台參與討論
(D) 觀賞電視上選舉辯論會。
17. (A)英國是歷史悠久的民主國家，但是英國女性卻要到 1918 年才開始享有投票權，而且還有財產資格或大學學歷的限制，男性則是年滿 21 歲就可以投票，並沒有其他資格限制，一直到 1928 年以後英國女性才享有與男性平等的選舉權。請問女性沒有投票權不符合哪一項投票公平原則？
(A) 普通 (B) 平等 (C) 直接 (D) 無記名。
18. (B)27. 1990 年臺灣有近千位來自各地的大學生集結在中正紀念堂靜坐抗議，提出「廢除國民大會」、「廢

除臨時條款」等主張，是臺灣解嚴後第一場大規模學生抗議行動，當時中華民國總統李登輝接受學生意見，不久後召開國是會議，並在隔年廢除《動員戡亂時期臨時條款》，結束「萬年國會」的運作，使臺灣民主化進入一個新的階段。請問學生的行動反映出哪一種公共意見特性？

- (A) 差異性 (B) 影響性
(C) 不確定性 (D) 議題性。

19. (C)辛普森家庭因為不滿意美國的生活環境，移民到臺灣，在臺灣生活多年後，長子霸子和長女花枝都在臺灣當任公職人員，霸子決定挑戰目前職位的三連霸，花枝則是受到連任次數的影響無法再擔任目前的職位，所以決定轉戰市民代表，請問霸子和花枝目前的職位可能為何？
(A) 霸子：台北市市長、花枝：基隆市市長
(B) 霸子：高雄市市長、花枝：屏東縣議員
(C) 霸子：立法委員、花枝：花蓮市市長
(D) 霸子：新北市議員、花枝：台中市議員。
20. (C)近期臺灣發生校園流血事件，受傷的學生在急救後雖然一度脫離險境，但仍然傷重不治身亡，引發民眾熱烈討論，有人認為行兇少年應判重刑，並將矛頭指向廢死聯盟，導致廢死聯盟的粉專被洗版，廢死聯盟則認為重刑無法減少少年犯罪，應該重視心理輔導機制，請問事件後社會上的反應符合哪一種公共意見特性？
(A) 變動性 (B) 議題性
(C) 複雜性 (D) 影響性。