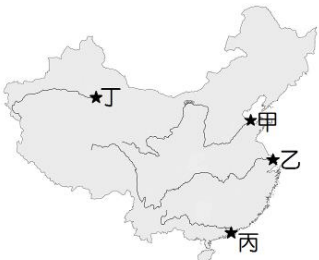


一、選擇

1. (C) 附圖為中國行政區圖，圖中深色處為何種省級行政區劃？  
(A)省 (B)自治區 (C)直轄市 (D)特別行政區。
2. (C) 中國主要的河川大都由西向東流，注入哪一個海域？  
(A)北極海 (B)印度洋 (C)太平洋 (D)大西洋。
3. (D) 高氣壓籠罩在蒙古一帶，風向是從陸地吹向海洋。」上述情形應主要發生在哪一個季節？  
(A)春 (B)夏 (C)秋 (D)冬。
4. (B) 海南島成為中國最適合種植熱帶作物的地區，與何項地理環境最相關？  
(A)經度 (B)緯度 (C)季風 (D)地形。
5. (A) 下列何者是造成黃土高原表面溝谷散布、崎嶇不平的主要作用力？  
(A)流水侵蝕 (B)風力侵蝕 (C)斷層作用 (D)火山作用。
6. (C) 中國西半部的居民多從事畜牧活動，主要的原因為何？  
(A)地形複雜 (B)河湖密布 (C)氣候乾燥 (D)土壤肥沃。
7. (D) 下列哪一種牲畜是青藏高原的主要交通工具，有「高原之舟」的美稱？  
(A)天馬 (B)駱駝 (C)山羊 (D)犛牛。
8. (C) 中國東半部的人口主要集中在何種地形？  
(A)綠洲、河谷 (B)丘陵、山地 (C)平原、丘陵 (D)山地、高原。
9. (D) 中國人口的性別比呈現「男多於女」的情形，下列哪一個數字最可能是中國的性別比？  
(A)86 (B)91 (C)100 (D)105。
10. (B) 改革開放前期廠商至中國投資，主要以製造玩具、鞋類等商品為主，是因中國具有何項優勢？  
(A)市場廣大 (B)勞力便宜 (C)原料豐富 (D)科技發達。
11. (C) 中國東部沿海地帶最主要的三個工業區為：(甲)珠三角 (乙)環渤海 (丙)長三角。若「由北而南」排列，下列順序何者正確？  
(A)甲乙丙 (B)甲丙乙 (C)乙丙甲 (D)丙乙甲。
12. (A) 中國為解決北部地區日益嚴重的缺水問題，在二十世紀末期展開「南水北調」工程，將哪一條河川的水資源引入黃河流域？  
(A)長江 (B)海河 (C)淮河 (D)珠江。



13. (C) 鄰近香港與澳門的珠江三角洲地帶，近 20 年來經濟發展迅速，成為中國重要的經濟體系之一。阿明想帶公司員工參訪此地，應前往附圖中何處？  
(A)甲 (B)乙 (C)丙 (D)丁。
14. (D) 下列何者為朝鮮半島與日本群島冬、夏季風的風向？  
(A)冬→，夏← (B)冬↓，夏↑ (C)冬↙，夏↗ (D)冬↘，夏↖。
15. (C) 泡溫泉是日本的國民運動，除了一般民眾外，在日本的野溪溫泉中甚至也看得到猴子泡溫泉的情形，如附圖所示，而日本溫泉分布眾多與下列何者的關係最密切？  
(A)沿海暖流經過 (B)地下水源充沛 (C)居板塊交界帶 (D)緯度低蒸發強。
16. (C) 日本陸地面積狹小，但經濟海域的範圍卻十分廣大，其主要原因為何？  
(A)岩岸眾多 (B)洋流眾多 (C)島嶼眾多 (D)國力強大。
17. (B) (甲)本州 (乙)北海道 (丙)四國 (丁)九州，以上為日本四大島嶼，若由北而南進行排列，下列順序何者正確？  
(A)甲乙丙丁 (B)乙甲丙丁 (C)丙乙丁甲 (D)丁丙甲乙。
18. (A) 附圖是某營養師所做的各國料理熱量分析，請問：圖中料理應歸類為哪一國家的料理？  
(A)南韓 (B)日本 (C)泰國 (D)越南。
19. (B) 北韓的工業發展比南韓早，主要與下列哪一個因素關係可能最密切？  
(A)勞力資源較多 (B)礦產資源較豐 (C)學術水準較高 (D)經濟高度發展。
20. (B) 南韓近年來經濟成長快速，各項 3C 產品在全球供應鏈已占有一席之地。請問：下列關於南韓的經濟特色，何者正確？  
(A)以中小企業為主 (B)國家大力扶植大型財團 (C)農產加工為重要外銷產品 (D)以紡織品等流行服飾出口為主。



歷史 科試卷 八年 班 號 姓名：

- (B) 關於西周封建制度下社會階級的內容，下列敘述何者正確？  
(A)平民持有土地，無須為貴族工作  
(B)分為貴族、平民、奴隸三個階級  
(C)社會階級可隨時進行更動  
(D)貴族中地位最高的是諸侯
- (D) 「君王集軍政大權於一身，地方上的官員大部分不再是憑藉血緣世襲的封建貴族，而是由君王直接任命」上文最能說明中國歷史上何種情況的發展？  
(A)世家大族的出現 (B)地方分權的局勢  
(C)宗法制度的實施 (D)中央集權的形成
- (A) 中國從商周至隋唐朝代，民族與民族之間雖有衝突與戰爭發生，但也常因「文化無國界」的影響，進行著食、衣、住、行、育、樂、宗教信仰交流，創造自己國家多元文化。請問關於中國和日本關係的敘述，下列何者正確？  
(A)派遣唐使前往長安學習  
(B)學習有成後，被稱為君子國  
(C)發起唐化運動，史稱明治維新  
(D)中國皇帝將文成公主嫁至日本
- (B) 有關商鞅變法的敘述，下列何者正確？  
(A)提出察舉制度，提倡儒家思想  
(B)身處封建體制逐漸瓦解的時代  
(C)為漢朝打造統一天下的基礎國力  
(D)身處世家大族逐漸控制一切的時代
- (D) 絲路的出現豐富了中國漢族政權文化內涵。請問下列何者是絲路開通後的影響？  
(A)只是一時的戰略需求，並無後續政治得勢  
(B)漢朝因此擊潰匈奴，漢族疆域擴展至西域  
(C)絲路最遠連接至大食，開啟東西的貿易往來  
(D)中國得以認識西域風情，開展中西文化交流
- (B) 有關於「澶淵之盟」的敘述，下列何者正確？  
(A)宋朝的訂約對象為党項族  
(B)訂約後兩國形成對等的契約關係  
(C)訂約雙方以姐妹互稱  
(D)訂約後宋朝隨即滅亡
- (A) 《吃一場有趣的宋朝飯局》一書的作者在這書一開始就建議讀者，想穿越的人最好穿越到宋代，不但食物比較好吃，娛樂也比以前多很多。請問下列何者可能是該書描寫的內容？  
(A)所有店家的筵席活動，都可以歡鬧直到深夜  
(B)沿街攤販販售烤地瓜給旅客在路上充飢  
(C)飽餐一頓後，可以使用紙幣和白銀付費  
(D)在夜市看到店員大聲叫賣香噴噴的烤玉米
- (B) 阿彥是元朝人，居住在江南一帶，是元朝社會階級裡種族地位最低者。請問阿彥在元朝屬於哪一階層的人？  
(A)漢人 (B)南人 (C)色目人 (D)蒙古人
- (D) 十五世紀歐洲人開啟大航海時代，人們普遍相信「誰擁有海洋，誰就擁有全世界」。西班牙商人尼古拉斯想購買中國的商品，但無法直接進入中國的港口購買。請問這是受到下列哪項政策的影響？  
(A)雍正禁教 (B)劃界封山  
(C)鎖國政策 (D)海禁政策
- (C) 長頸鹿的台語叫做麒麟鹿，請問長頸鹿引進中國與下列哪一歷史事件有關？  
(A)蒙古西征 (B)大航海時代  
(C)鄭和下西洋 (D)靖康之禍
- (D) 利瑪竇已經逝世四百多年，但許多地方仍會舉辦紀念的儀式和活動，甚至也有發行他的紀念郵票，國家圖書館還成立「利瑪竇太平洋研究室」。關於利瑪竇的敘述，下列何者錯誤？  
(A)屬於耶穌會的天主教傳教士  
(B)傳播西方知識以促進文化交流  
(C)曾與徐光啟合譯《幾何原本》  
(D)強烈反對中國信徒祭祖祭孔
- (A) 清末，西方思潮傳入中國，知識分子開始省思傳統社會的男女地位。下列何者逐漸成為清末民初社會主要現象？  
(A)男女平等觀念逐漸傳布  
(B)女性就業人數逐漸減少  
(C)儒家思想宣傳男尊女卑  
(D)婦女遵從堅守三從四德
- (A) 一位道光皇帝指派的大臣，制定了『繳煙』與『具結』兩條具體措施。圍艙封館迫使外國販子繳出鴉片，要求外商發表聲明，「嗣後來船永不敢夾帶鴉片，如有帶來，一經查出，貨盡沒官，人即正法，情甘服罪」。以此判斷，此官員應為何人？  
(A)林則徐 (B)李鴻章 (C)康有為 (D)梁啟超
- (A) 西元 1997 年 6 月 30 日，在一場典禮儀式，標誌英國終結管制香港 156 年，主賓之一的英國王儲查爾斯王子代表伊莉莎白二世致告別辭。請問英國是因為哪一個條約取得香港？  
(A)南京條約 (B)北京條約 (C)天津條約 (D)馬關條約
- (A) 品峯不小心飲料打翻，弄髒了他的歷史筆記，其中有幾處重點無法辨識：「西元？，中日兩國簽屬馬關條約，日本獲得在中國各通商口岸設置工廠的權利。而英法兩國利用？，享有同等在中國設置工廠的權力」，請問品峯應填入下列何者組合？  
(A)1895 年；片面最惠國待遇  
(B)1895 年；設立租界  
(C)1860 年；片面最惠國待遇  
(D)1860 年；設立租界
- (C) 二十世紀初，清廷推動立憲運動時，民間出現打油詩：「有音無形，有調無人，雖可娛人，究屬愚人。」請問該首打油詩的出現，反映當時民眾何種心態？  
(A)高度支持清廷的改革  
(B)對立憲運動懷抱極大期待  
(C)認為立憲改革不具意義  
(D)認為清廷對預備立憲誠意十足

歷史 科試卷 八 年    班    號 姓名：

17. (A) 請問，戊戌變法的主要推動人物為下列哪三位？(甲)馬加爾尼(乙)伊藤博文(丙)道光皇帝(丁)光緒皇帝(戊)徐光啟(己)康有為(庚)李鴻章(辛)梁啟超

(A)丙己辛 (B)甲丙戊 (C)丁己辛 (D)乙丁庚

18. (A) 西元 1853 年，因一個西力衝擊的歷史事件，日本簽訂了第一個不平等條約。請問有關此事件的敘述，下列何者正確？

(A)此事件為黑船事件

(B)此事件促成日本實施鎖國政策

(C)此事件與俄國有關

(D)此事件促成日本的大化革新

19. (D) 請問爆發八國聯軍的原因與下列何者最相關？

(A)國人不滿使節覬見皇帝未行跪拜禮節

(B)走私鴉片引發國人反彈

(C)列強於戊戌政變後干預中國內政

(D)義和團民高喊扶清滅洋

20. (A) 請問下列哪個國家並未派兵參加八國聯軍？

(A)澳大利亞 (B)奧地利 (C)日本 (D)俄羅斯

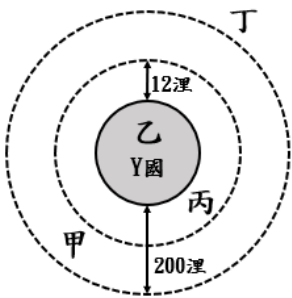
新北市立鳳鳴國民中學 (八年級)(八上) 補考題庫

歷史 科試卷 八 年 班 號 姓名：



( B )1. Y國是一個小島國，下圖灰底圈圈內是Y國的土地範圍。請問：甲、乙、丙、丁所在的位置，有幾個是在Y國的「領土」的範圍內？

- (A)1 個
- (B)2 個
- (C)3 個
- (D)4 個。



( C )2. 美國將於2024年11月再次迎來總統大選，現任總統拜登已於日前宣布不再爭取連任，民主黨將改由現任副總統賀錦麗角逐總統大位，同時也是挑戰美國史上首位女總統。而共和黨則是再度推派擁有獨特個人魅力的川普與其一決勝負。請問：上文的描述最能展現民主政治的何項特色？

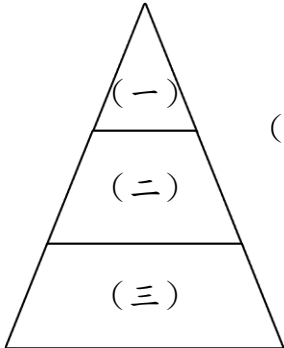
- (A)民意政治 (B)責任政治
- (C)政黨政治 (D)法治政治。

( A )3. 《大憲章》起初制定時並非出於民主發展的理想，而是為了限制王「權」，以維護當時貴族的利益。不過也因此影響許多後代憲法的制定。請問：下列選項中的「權」，何者與上述的「權」意涵相同？

- (A)颱風時海邊風浪大，海巡署有「權」勸離民眾
- (B)我國教育相關法規保障學齡兒童的受教「權」
- (C)符合資格的民眾有「權」向政府申請育兒津貼
- (D)民眾有「權」走上街頭表達對政府施政的不滿

( A )4. 右圖是我國法律位階圖。請問：若依據法律效力「由大至小」排列，下列何者的排列順序正確？

- (A) (一) → (二) → (三)
- (B) (一) → (三) → (二)
- (C) (三) → (一) → (二)
- (D) (三) → (二) → (一)



( B )5. 下圖是我國《憲法》修改程序的示意圖。請問：該圖可說明《憲法》的何項特性？

- (A)最高性 (B)固定性 (C)原則性 (D)有限性。



( D )6. 山陀兒颱風帶來的超大豪雨造成北海岸地區淡水、三芝、石門、金山、萬里、瑞芳、貢寮等地多處房屋淹水、受損或遭土石流侵襲。為了幫助災民安心重建家園，新北市政府針對淹水的受災戶提供5000元至2萬元不等的災害救助金。請問：上述是展現國家存在的何項目的？

- (A)保衛國家安全 (B)推動教育文化
- (C)促進經濟發展 (D)發展社會福利

( D )7. 對中國政府來說3T議題(即臺灣Taiwan、西藏Tibet及天安門事件Tiananmen massacre)是外國政府不可觸碰的禁忌。當各國政府討論起3T議題，中國官員就會發表以下聲明：「反對任何外部勢力干涉中國內政。」請問：中國官員的聲明是強調下列何項國家組成要素？

- (A)人民 (B)領土 (C)政府 (D)主權。

( D )8. 小鳳是大學四年級的學生，即將畢業的他正在思考未來的出路。左思右想後他決定報考「高普考」，希望藉此成為公職人員有一份穩定的薪水。請問：根據上述，小鳳預計行使下列何項權利？

- (A)平等權 (B)自由權
- (C)受益權 (D)參政權。

( A )9. 我國政府公布113年「同酬日」為2月23日，意即依據主計總處112年薪資調查統計初步結果，我國女性需較男性多工作54天才能夠達到與男性相同的全年薪資。這顯示我國兩性平均時薪的差距，某項權利仍有待落實。請問：前述的某項權利指的是下列何者？

- (A)平等權 (B)自由權
- (C)受益權 (D)參政權。

( A )10. 臺灣代表隊在2024年世界12強棒球賽勇奪冠軍，為了慶祝臺灣史上首度奪下一級賽事冠軍，日前賴清德總統特別接見臺灣英雄，並舉辦「棒球英雄臺灣尚勇」英雄大遊行，許多棒球迷們當天開心地參與遊行，一睹我國棒球好手的風采。請問：上述的棒球迷是行使下列何項權利？

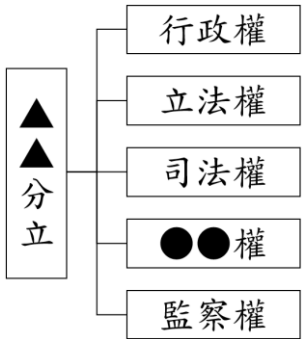
- (A)集會自由 (B)信仰宗教自由
- (C)結社自由 (D)秘密通訊自由。

( D )11. ○○院為我國國會，同時是我國中央民意機關。請問：下列選項對○○院的描述何者正確？

- (A)○○院的院長是由公民直選產生
- (B)○○院的委員連選只能連任一次
- (C)○○院可以直接提名審計長的人選
- (D)○○院的職權包括提出領土變更案。

(C)12. 下圖是某種權力分立方式的示意圖。請問：下列選項對該圖的說明何者正確？

- (A)由法國思想家孟德斯鳩提出
- (B)被多數的西方民主國家採用
- (C)避免濫用私人獨立出●●權
- (D)●●權是從立法權獨立出來。



(A)13. 珍珍日前和德德借新臺幣 600 萬元，但到了約定日期珍珍卻還不出錢。於是德德和討債集團非法侵入珍珍家中，在珍珍家中翻箱倒櫃並帶走部分值錢的東西。

請問：德德和討債集團的行徑是侵害珍珍的哪些權利？

- (A)甲丙 (B)乙丙
- (C)甲丁 (D)乙丁。

甲、居住自由  
 乙、遷徙自由  
 丙、財產權  
 丁、生存權

(A)14. 下方是鳳鳴國中的完整地址。請問：依據《地方制度法》的規定，下方編號①至⑤中包含幾個地方自治團體？

新北市	鶯歌區	鳳鳴里	16 鄰	永和街 33 號
①	②	③	④	⑤

- (A)1 個 (B)2 個
- (C)3 個 (D)4 個。

(D)15. 柏拉圖說過：「對政治冷漠的下場就是被糟糕的人統治。」所以參與政治不只是政治人物的事，更是全體國民的事。請問：國中生可以透過下列哪一種方法參與政治？

- (A)擔任候選人，參選里長
- (B)在家裡上網玩手機遊戲
- (C)寄恐嚇信件到市長信箱
- (D)開直播批評政府的施政。

(D)16. 各國中央政府與地方政府的分權方式都不太一樣，我國採用孫中山先生提出的某項理念，他認為凡事務有△△△△之性質者，畫歸中央；有○○○○之性質者，畫歸地方。請問：上述○○○○是指下列哪一個選項？

- (A)地方分權 (B)全國一致
- (C)均權制度 (D)因地制宜。

(B)17. 檯檯、朋朋、葵葵和拉拉都在我國政府機關工作。請問：依據他們的敘述判斷，哪一個人最有可能在我國的地方立法機關工作？

- (A)檯檯：我昨天審理的刑事案件非常複雜
- (B)朋朋：今天的會議要審查明年度的預算
- (C)葵葵：我最近在做的事是辦理國家考試
- (D)拉拉：我常協助新手爸媽申請生育補助。

(C)18. 《公職人員選舉罷免法》第3條第1項規定，公職人員選舉，以普通、平等、直接及無記名單記投票之方法行之。請問：下列選項對選舉原則的描述何者正確？

- (A)不管老人或小孩都有投票權符合「普通原則」
- (B)無論男生、女生都有投票權符合「平等原則」
- (C)選民必須親自到投票所投票符合「直接原則」
- (D)以按捺指紋的方式投票是符合「無記名原則」。

(C)19. 下圖是某位公職人員候選人的競選文宣，請問：該名候選人可能是參選何項地方公職人員？

- (A)直轄市市長
- (B)立法委員
- (C)縣議員
- (D)里長。

唯一支持 ③林慶慶  
 在地深耕 10 年  
 尋求 3 連任  
 票投第一名的民意代表！

(B)20. 公民投票可以讓民眾直接參與公共政策的決策與法案的制定，是直接民主的展現。請問：依照現行《公民投票法》的規定，下表中哪些人擁有公民投票權？

姓名	年齡	其他
夢夢	19 歲	大學生
阿文	37 歲	受監護宣告
森森	28 歲	褫奪公權終身

- (A)夢夢、阿文 (B)夢夢、森森
- (C)阿文、森森 (D)3 人皆有權投票。