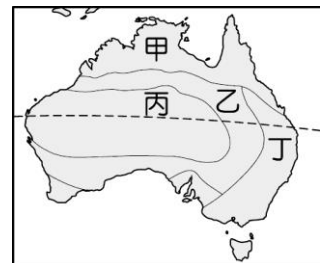



一、選擇

- (D) 疆域面積的大小影響區域發展特性。請問：下列哪一個國家為全世界面積最大的國家？
(A)中國 (B)美國 (C)加拿大 (D)俄羅斯。
- (A) 阿爾卑斯山因為冰河作用造成何種谷地的分布，而有利於兩側間的交通運輸？
(A) U 形谷 (B) V 形谷
(C) O 形谷 (D) M 形谷。
- (D) 伏特加(Vodka)酒精濃度高(約 40~60%)，一般人無法直接飲用，但俄羅斯人卻高度仰賴伏特加，將其視為「生命之水」。請問：上述情形與俄羅斯哪項自然環境因素有關？
(A)土壤 (B)植被 (C)地形 (D)氣候。
- (C) 世界各大洲中，唯一沒有沙漠氣候分布的為下列何者？
(A)亞洲 (B)美洲 (C)歐洲 (D)非洲。
- (A) 該國的地勢多山，其中位於山頭的帕德嫩神廟輝映著愛琴海的蔚藍，令旅客終身難忘。請問：上文所述是下列哪一國的美麗景色？
(A)希臘 (B)義大利
(C)西班牙 (D)葡萄牙。
- (C) 「該國的工業活動和軍事發展關係甚大，機械、通訊、大眾運輸等均相當發達。而生產的賓士汽車更受到世界各國的喜愛。」請問：上述中的國家應該為何？
(A)英國 (B)法國 (C)德國 (D)義大利。
- (C) 東歐藉由經濟改革的方法，希望吸引西歐企業東移投資設廠。請問：該地區吸引企業前往的最有利因素為何？
(A)行政效率 (B)海運方便
(C)勞工便宜 (D)技術進步。
- (B) 1492 年哥倫布由伊比利半島出發，在橫越大西洋後，發現了新大陸。當時他所發現的大陸應該為下列何者？
(A)亞洲 (B)美洲 (C)非洲 (D)澳洲。
- (A) 2008 年金融風暴從美國房貸市場波及到金融市場，導致哪一個都市內的華爾街股市失業人口眾多？
(A)紐約 (B)華盛頓
(C)芝加哥 (D)洛杉磯。
- (D) 加拿大全境及美國北部有許多湖泊水域，這些湖泊的成因與何種地形作用力有關？
(A)斷層陷落 (B)火山噴發
(C)熔岩堰塞 (D)冰河侵蝕。
- (A) 小英到世界各地都可以見到麥當勞、星巴克等連鎖商店，請問：這些商店呈現了何種文化的生活方式？
(A)美式文化 (B)英式文化
(C)非洲文化 (D)拉丁文化。

- (B) 下列哪一條運河連接太平洋及大西洋航運，交通地位相當重要？
(A)蘇伊士運河 (B)巴拿馬運河
(C)中央大運河 (D)京杭大運河。
- (C) 中南美洲受殖民過程的影響，形成多元文化。請問：該地區早期的殖民國家為哪些？
(A)英、法 (B)德、法
(C)西、葡 (D)美、英。
- (A) 右圖是斐濟和吐瓦魯國旗，請由國旗判斷，這些國家曾被何國統治？
(A)英國 (B)法國 (C)美國 (D)德國。
- (A) 位於西南太平洋的島國吐瓦魯，即將在未來幾年內被大海淹沒，成為世界上第一批的環境難民。請問：該國主要面臨的環境議題為何？
(A)酸雨問題 (B)地震海嘯
(C)全球暖化 (D)臭氧層破洞。
- (D) 澳洲地區的氣候類型分布如右圖，其中以何處為澳洲人口集中的精華區？(A)甲 (B)乙 (C)丙 (D)丁。
- (B) 住在臺灣的小美一家人，搭乘飛機到夏威夷度假，抵達後導遊請他們調整手錶的日期，主要是因為飛機必須經過下列哪一條線？
(A)赤道 (B)國際換日線
(C)北回歸線 (D)本初經線。
- (A) 紐西蘭主要疆域分為南島及北島，其中北島人口占全國人口 3/4 以上，主要居住在奧克蘭、威靈頓。請問：造成上述的主因為何？
(A)緯度較低 (B)面積較大
(C)板塊活動 (D)暖流經過。
- (A) 若要區分大洋洲上主要的火山島、珊瑚礁島這兩種島嶼類型，最簡單且明顯的分辨方法為下列何者？
(A)地勢高低 (B)降水多寡
(C)產業活動 (D)河川水系。
- (D) 現代大型船隻都是使用重油燃料，不易分解也非常難以清除。如果幾百噸的重油污染南極海岸地區，可能影響下列哪一動物的生存？
(A)馴鹿 (B)北極熊 (C)袋鼠 (D)企鵝。



新北市立鳳鳴國民中學（九年級）（九上）補考題庫

歷史 科試卷 九年 班 號 姓名：_____

1. (**C**) 佛傑在執行間諜任務時被酒駕的大卡車撞上，醒來時發現來到一間陌生的神廟當中，祭司正在進行祈禱，希望今年洪水氾濫不要太嚴重，並且忙著進行木乃伊的製作。請問佛傑可能出現在哪一個古文明當中？

(A)中國 (B)雅典 (C)埃及 (D)羅馬。

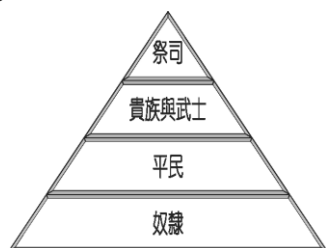
2. (**B**) 海坂美咲是位廣受男性歡迎的女性，有一天她收到了一封上面寫著「我給你的愛寫在西元前，深埋在美索不達米亞平原，幾十個世紀後出土發現，泥板上的字跡依然清晰可見……」的告白信，邀請她前往信中所提到的地點相見，請問美咲應該前往下圖的那一個地方？

- (A)甲
(B)乙
(C)丙
(D)丁。



3. (**C**) 天上優夜在整理過世祖父留給他的房子時，意外被傳送到一個陌生的世界，他發現當地統治者依照宗教將社會分為下圖中所提到的四個階級，請問他看到的應該是那一種制度？

- (A)蒙古的種族政策
(B)埃及的統治政策
(C)印度的種姓制度
(D)中國的宗法制度。



4. (**D**) 電影《超時空戰警》中的主角爵德判官被認定殺害民眾而判殺人罪，法哥首席判官認為他沒有殺人卻沒有證據能證明，就動用資深判官特權將爵德改判無期徒刑，並因此遭到流放。請問：哪一個古文明同樣也用表決方式放逐犯罪的人？

(A)斯巴達 (B)波斯 (C)馬其頓 (D)雅典。

5. (**A**) 電影《迷蹤•第九鷹團》描述一名軍官帶著軍隊和象徵榮譽的鷹形軍徽遠征不列顛群島，卻消失無蹤，他的兒子馬庫斯為了挽回家族名譽和尋回鷹形軍徽，跨過位於不列顛的長城，深入蠻荒之地尋找真相，請問這是在描述那一個古文明？

(A)羅馬 (B)腓尼基 (C)希臘 (D)巴比倫。

6. (**C**) 多艾姆在迪亞布羅教團一再被闇影庭園打擊之後，覺得是因為教團採取多神信仰，造成信眾無法對教團全心全力投入，所以決定採用歷史上某一個民族的一神信仰，透過聚焦在一位主神上來對抗闇影庭園。請問多艾姆可能是採用那一個民族的宗教信仰？

(A)蘇美人 (B)中國人 (C)猶太人 (D)印度人。

7. (**A**) 轉生到異世界的凱恩成年後發現這個世界有很明顯的階級制度，統治者透過因果報應和靈魂輪迴的理念在管理人民，所以凱恩決定推動一個主張眾生平等，可以透過修行跳脫輪迴的宗教來拯救這個世界。請問：凱恩推動的宗教可以用誰來當教主？

(A)釋迦牟尼 (B)耶和華 (C)阿拉 (D)濕婆。

8. (**D**) 在伊甸學園教歷史的亨利韓德森是一位無論何時都非常重視優雅的人，在他的心目中，任何事物只要能夠表現出均衡、對稱和和諧，就能夠讓他說出「優雅」這兩個字。請問當他在介紹下列哪一個建築時，會讓他不斷說出「優雅」這兩個字？

(A)羅馬競技場 (B)埃及金字塔
(C)中國長城 (D)帕德嫩神廟。

9. (**B**) 西元 64 年，羅馬帝國的首都羅馬城發生火災，全城十四個行政區中有三個被完全燒毀，僅存七個倒塌房屋的廢墟，當時羅馬皇帝尼祿認為是某群異教徒所為，決定用將這些人釘上十字架、丟進競技場被猛獸撕裂等方式進行報復，請問某群異教徒應該信仰哪一個宗教？

(A)婆羅門教 (B)基督教 (C)猶太教 (D)印度教。

10. (**C**) 《羅蘭之歌》是一首法國史詩，描述八世紀時法國的統治者查理曼大帝，率領軍隊對抗西班牙地區異教徒的故事，後世的人認為因為有查理曼大帝的存在，才使得西歐保有基督教文化，而不至於變成伊斯蘭教化的西歐，請問當時西班牙地區異教徒，可能是被那一個帝國所統治？

(A)拜占庭帝國 (B)西羅馬帝國
(C)阿拉伯帝國 (D)鄂圖曼帝國。

11. (**C**) 八世紀的西亞地區，曾經出現一個學術中心：智慧宮。當地設有天文台、翻譯局及研究院，聚集了許多學者在這邊工作，他們翻譯古希臘羅馬

新北市立鳳鳴國民中學（九年級）（九上）補考題庫

歷史 科試卷 九 年 班 號 姓名：_____

書籍並加以保存，將中國的造紙術和指南針傳到世界各地去，並對後來歐洲的文藝復興產生影響，請問智慧宮應該是哪一個民族建立的？

- (A)腓尼基人 (B)日耳曼人
(C)阿拉伯人 (D)土耳其人。

12. (A) 「To be or not be, that is the question」這句名言出自文藝復興時期，英國某位著名劇作家的作品「哈姆雷特」的對白，用很簡單的一句話表達出人生的無奈與矛盾。請問這位劇作家應該是下列何者？(A)莎士比亞 (B)佩脫拉克
(C)米開朗基羅 (D)波堤切利。

13. (A) □□並不是突然冒出來的一個歷史分期，在中世紀後期就有許多工匠慢慢地將目光轉移到希臘、羅馬的文物上，他們仔細的觀察古代文物，再揉合當地居民喜愛的風格，融合成一種劃時代的創舉，他們細膩地刻畫人物表情動作、衣摺紋理，追求栩栩如生的樣貌，累積了兩、三個世代的鑽研以後，才有現今看到的創作。請問：上述缺空處應填入下列何者？
(A) 文藝復興時期 (B) 希臘羅馬時期
(C) 中世紀歐洲 (D) 希臘化時期。

14. (B) 品客前往歐洲旅遊時，導遊介紹當地相當著名的「發現者紀念碑」，導遊說這是紀念大航海時代的來臨，上面雕刻著許多著名的航海家、領航員和傳教士，請問品客在紀念碑上應該不會發現下列何者？
(A)亨利王子 (B)狄德羅 (C)麥哲倫 (D)達伽馬。

15. (D) 2020 年墨西哥當地團體發起拉倒哥倫布運動，因為他們認為 16 世紀時哥倫布等歐洲探險家來到美洲以後，為美洲當地帶來許多負面的影響，大大地改變當地的生活。請問：下列影響中，何者「不是」他們所提出的歷史事證？
(A)歐洲人帶來傳染病 (B)歐洲人屠殺原住民
(C)發展殖民地式經濟 (D)消滅印加古文明。

16. (A) 臺灣在日治時期發生過米糖相剋問題，也就是在同一塊土地上無法同時耕種稻米和甘蔗，同樣的問題也發生在 17 世紀的巴西，因為殖民地母國要求種植經濟作物，使得當地無法種植糧食作物，

出現糧食短缺問題。請問當時巴西的殖民地母國應該是下列哪一個國家？

- (A) 葡萄牙 (B) 西班牙 (C) 荷蘭 (D) 英國。

17. (C) 電影《女王與知己》描述 19 世紀英國維多利亞女王與僕從阿布杜勒間的故事，阿布杜勒來自英國在東方的殖民地，女王非常喜愛阿布杜勒，為了他學習蒙兀兒帝國的語言，引起英國宮廷的喧然大波，但女王過世後，阿布杜勒被趕回故鄉，最後抑鬱而終。請問阿布杜勒故鄉應在何處？
(A) 墨西哥 (B) 菲律賓 (C) 印度 (D) 澳洲。

18. (D) 16 世紀的日耳曼學者克卜勒，根據某位提出「太陽為宇宙中心」的天文學家說法，透過數學推理提出行星是以橢圓形軌道繞行太陽，在當時引起天主教教會的嚴重抗議。請問克卜勒的學說應該是以何者的理論為基礎？
(A)孟德斯鳩 (B)伽利略 (C)笛卡兒 (D)哥白尼。

19. (A) 有學者在他的著作中提到：「我們的晚餐不是來自於屠夫、釀酒人或麵包師傅的善心，而是基於他們對自身利益的關心。……市場上有一隻『看不見的手』在調節一切，因此政府不應干擾或控制。」從上文敘述判斷，這位學者應該是誰？
(A)亞當斯密 (B)洛克 (C)蘇格拉底 (D)盧梭

20. (B) 19 世紀英國著名小說家狄更斯的《孤雛淚》中描述倫敦在某個時期，社會混亂、童工飽受虐待、貧民窟治安混亂、資本家和貴族獨佔利益的情況層出不窮，請問這部小說應該是以那個時期的倫敦作為背景？(A)文藝復興 (B)工業革命
(C)大航海時代 (D)啟蒙運動。

新北市立鳳鳴國民中學（九年級）（9上）補考題庫

公民 科試卷 九 年 班 號 姓名：_____

1. (A) 一位 19 世紀的匈牙利愛國詩人裴多菲曾經寫下這首短詩：「生命誠可貴，愛情價更高，若為自由故，兩者皆可拋。」如果從機會成本的角度來看，當裴多菲選擇追求自由時，他的機會成本應該是下列何者？
(A)愛情 (B)生命 (C)金錢 (D)時間。
2. (D) 旅行商人羅倫斯和赫羅一同拜訪帕斯羅村時，發現當地農村雖然引進外地的農法使前幾年的小麥產量提高，但是卻因此消耗大量土地中的養分，有可能導致今年小麥產量大跌，造成小麥價格上漲，所以羅倫斯決定放棄收購帕斯羅村的小麥。請問羅倫斯的行為是受到哪一種因素的影響？
(A)個人偏好 (B)收入多寡
(C)商品種類 (D)預期心理。
3. (B) 街尾火樂在當上村長後，開始規畫未來農地上要種植的農作物。從去村外打聽消息的拉絲蒂斯姆和芙勞蕾姆口中得知，附近村落民眾非常喜歡喝葡萄酒，但是受到去年暴風雪災情嚴重的影響，葡萄產量下跌，導致葡萄酒的價格提高，於是火樂決定在農地上種植葡萄，取代去年種植的番茄。請問火樂村長的做法符合下列敘述的哪一種？
(A)售價提高，產量減少 (B)售價提高，產量增加
(C)售價降低，產量提高 (D)售價降低，產量減少。
4. (A) 屏東縣政府為了服務大客車無法進入的外圍村鎮，自 107 年起推動屏東貼心巴士(小黃公車)，到今年 6 月共有 19 條路線，服務 14 個鄉鎮，未來希望能擴大服務到尚未有小黃公車的八個鄉鎮。小黃公車優點在於並非用計程車價格來服務，而是用非常親民的 10 元銅板價。除了現金支付外，也可以使用敬老卡或博愛卡來扣點，非常划算。服務時間包含平日與假日，對交通不便的地區有很大的幫助。請問屏東縣政府的作法，是基於下列何種考量？
(A)追求公平正義，援助偏遠地區
(B)追求經濟獲利，資源有效運用
(C)以企業倫理鼓勵計程車繼續營運
(D)用機會成本概念帶動偏鄉發展。
5. (B) 綾崎颯因為父母欠下巨額的貸款，必須依靠打工來賺取生活費和學費，這個星期天他收到三份打工通知，分別為時薪 800 元陪伴大小姐三千院凪打電動三小時、時薪 1000 元陪伴學生會長桂雛菊整理校園三小時、時薪 500 元陪伴水蓮寺琉加到動漫展擺攤賣同人誌三小時。請問如果以價格作為機會成本考量，綾崎颯的機會成本應該是多少？
(A)2300 元 (B)2400 元 (C)3000 元 (D)1500 元。
6. (D) 魯迪因為高中時被人霸凌產生陰影，害怕與人群接觸，在成年之後變成足不出戶的阿宅，請問他「可能不喜歡」採用下列哪一種交易方式？
(A) LINEPAY (B) 網路商城
(C) 線上購物 (D) 傳統市場。
7. (B) 基於消費者在購物時會選擇價格較低的商品，所以廠商會透過價格的調整來吸引消費者購買，請問下列產商所採取的策略中何者屬於這種方式？
(A)製作客製化商品 (B)推出集點卡折扣
(C)和著名動漫聯名 (D)建立良好的形象。
8. (A) 公民老師在課堂中播放影片，學生從影片中發現在臺中火車站附近有一條街可以看到很多間飲料店在營業，決定過年回台中親戚家時要去那條街好好逛逛。請問：那條飲料店很多的街，對消費者來說有何吸引力？(A) 產品選擇多 (B) 購買成本低
(C) 購物時間短 (D) 售後服務高。
9. (D) 14. 餐廳通常會用「打卡送一盤肉」、「網路給五星評價送一份點心」一類的方式希望能吸引到消費者前來消費，但也會有不肖業者，透過網紅或部落客代言，捏造假的心得欺騙社會大眾，如果發證這種情況，會受到哪一種法律的制裁？
(A)社會秩序維護法 (B)消費者保護法
(C)民法 (D)公平交易法。
10. (B) 網路上傳言政府將開放大陸農產品進口，立委對此要求政府公開說明，官員在召開記者會時，被記者提問開放大陸農產品進口對國內市場有何好處？下列敘述中，何者較有可能是官員的回應？
(A)國內將增加農產品的產量
(B)民眾對農產品的選擇變多
(C)農產品在國內售價將上漲
(D)國內生產農產品利潤上升。
11. (D) 諾倫幫老師整理社會科專用教室時，看到一張上面寫著「反對臺灣加入 WTO！抗議政府罔顧農民生計！開放農產品進口，農民將何去何從！」的海報，從海報的內容來判斷，當時政府的作法對農民可能造成何種影響？
(A)國內勞動力被機器生產取代
(B)生產技術落後導致利潤降低
(C)從事農業轉型造成成本提高
(D)外國產品進口帶來競爭壓力
12. (C) 露西和克莉絲緹娜一起逛遊樂園，露西想去買礦泉水，但是覺得一瓶 60 元好貴，克莉絲緹娜告訴她如果不在這邊買就要走到外面才有得買，太遠了，於是露西決定買下這瓶礦泉水。請問上述對話可以做出下列何種推論？
(A)對消費者來說在遊樂園買水的機會成本高
(B)越少廠商競爭對消費者來說越有利
(C)沒有其他競爭廠商時消費者只能接受價格
(D)對消費者來說在遊樂園外或遊樂園內買水的機會成本是一樣的。

新北市立鳳鳴國民中學（九年級）（9上）補考題庫

公民 科試卷 九年 班 號 姓名：

13. (B) 愛夏在網路商城購買一個大熊玩偶，到貨時發現玩偶顏色和造型與網頁說明相差很大，但廠商卻不讓她退貨，根據相關法規，愛夏在收到商品的多少時間內，可以不說明理由即可退貨？
(A) 三天內 (B) 七天內 (C) 十天內 (D) 十四天內。
14. (A) 在疫情嚴重期間，為了避免接觸感染，政府要求餐飲業不提供內用服務，民眾則盡可能避免用面對面接觸的方式來購物，下列敘述中何者最有可能是疫情嚴重期間的社會狀況？
(A) 行動數位支付交易比例逐漸提高
(B) 社會上使用現金交易的人被排擠
(C) 實體的店家全部轉型為線上店家
(D) 信用卡交易能完全取代現金交易。
15. (C) 政府為了讓學生可以在求學期間不用擔心學費，專心向學，提供了就學貸款服務，等學生畢業以後，再工作償還之前的貸款。佐助查詢了臺灣就學貸款的相關資料後，決定在就讀大學期間辦理就學貸款，計畫畢業後找到工作以每個月支付5000元的方式逐年付清就學貸款。請問：佐助的作法顯示貨幣的何種功能？
(A) 交易媒介 (B) 價值衡量
(C) 債務清償 (D) 價值儲藏。
16. (C) 為了因應我國人口老化問題，政府於2018年推行長照支付新制，讓居服員前往個案家中協助照顧老人的身體和進行家事服務，而各縣市政府相關單位要給予居服員最低月薪33000元起或最低時薪200元起的待遇。根據上文內容判斷，居服員應該屬於下列何種勞動型態？
(A) 無酬的家務勞動 (B) 有酬的跨國勞動
(C) 有酬的市場勞動 (D) 無酬的市場勞動。
17. (C) 學校在上個月舉辦校內志工期末聚餐，公開為表現良好的志工頒發感謝狀，謝謝他們在圖書館整理、環境修繕、交通導護等各方面學校事務上的付出。請問校內志工所參與的勞動應該屬於下列何者？
(A) 有酬勞動 (B) 有形勞動
(C) 無酬勞動 (D) 家務勞動。
18. (A) 新北市勞動局發動突襲勞動檢查，並公布違規行業情況，其中有客運業者多次因為「讓客運司機開車時間過長導致疲勞駕駛」，而被裁定加重處罰。請問：新北市勞動局針對客運業者開罰是基於何項法源？
(A) 《勞動基準法》
(B) 《社會秩序維護法》
(C) 《性別平等工作法》
(D) 《就業保險法》。
19. (D) 茉兒結婚多年後終於迎來的第一個孩子，開心之餘也免不了煩惱小孩出生後開銷會變大的問題，於是茉兒向現在的公司提出離職。老闆詢問茉兒是否在工作上遇到困難，茉兒坦承是因為生小孩後開銷變多想換工作。老闆隨即將茉兒調到比較輕鬆的部門擔任主管，並為她加薪。請問茉兒老闆是採取何種方式來留住優秀人才？
(A) 完善升遷管道 (B) 提供良好環境
(C) 降低工作時數 (D) 提高薪資待遇。
20. (D) 虎次郎本來在一家拉麵店當服務生，受到疫情嚴重的影響被裁員，他失業之後面試很幾間公司都沒被錄取，所以他決定申請失業給付，希望能暫時度過難關，請問根據虎次郎的情況來判斷，下列敘述何者正確？
(A) 失業給付是依據《勞動基準法》給付
(B) 照規定最長可以領到一年的失業給付
(C) 虎次郎並不屬於政府所定義的勞動者
(D) 虎次郎是非自願離職，能申請失業給付。