

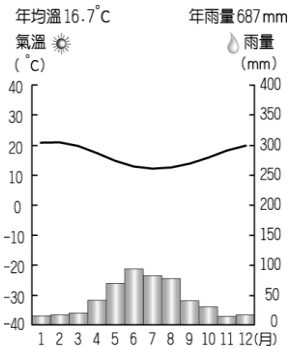
一、選擇

1. (B) 非洲被稱為「黑金大陸」，和當地盛產豐富的貴重礦產有關。當地礦產資源豐富的主要因素為何？ (A)氣候炎熱 (B)古老陸塊 (C)板塊張裂 (D)降雨豐富。
2. (C) 臺灣本島的生物特有種比例相當高，而遠在非洲的馬達加斯加島也和臺灣本島一樣，該島上的特有種比例高達 80%。請問：臺灣本島和馬達加斯加島都擁有高比例的特有種，和哪個原因最相關？ (A)寒暖流交會 (B)季風影響 (C)孤立的島嶼環境 (D)面積廣大。
3. (B) 南非在前總統曼德拉的努力下，達到了族群融合的目標，也讓世人了解和平的力量。早期南非主要為哪兩個族群間紛爭不斷？ (A)歐洲人和阿拉伯人 (B)非洲黑人和歐洲後裔 (C)農業族群和牧業族群 (D)都市居民和鄉村居民。
4. (C) 過去尼羅河每年夏季定期氾濫，與上游流經哪個氣候區最為相關？ (A)熱帶雨林氣候 (B)夏雨型暖溼氣候 (C)熱帶莽原氣候 (D)溫帶地中海型氣候。
5. (A) 非洲近年來積極走出新的出路，下列哪一項產業類別為非洲經濟未來可發展的方向？ (A)生態旅遊業 (B)環保能源產業 (C)資訊科技產業 (D)電話服務。
6. (C) 根據數據顯示，約有一半鑽石產自非洲，它除了帶給非洲財富

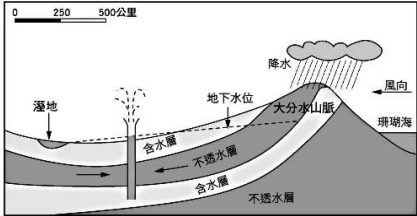
外，也帶給當地人民無休止的暴力、血腥及自相殘殺。請問上述主要發生在右圖哪一個地區？ (A)甲 (B)乙 (C)丙 (D)丁。



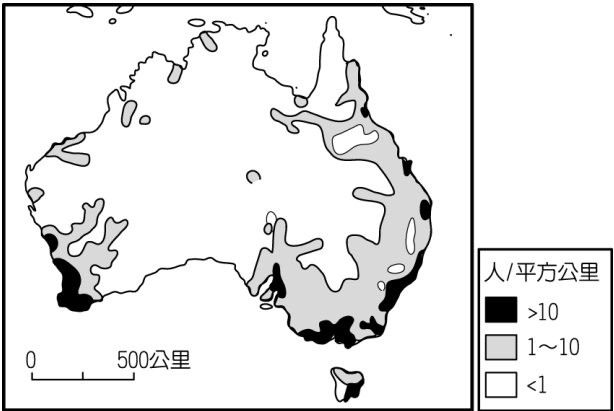
7. (A) 非洲國家族群間衝突不斷，造成政治局勢不穩定，同一國家內有許多不同族群，彼此間互相攻擊的情況屢見不鮮。請問：造成這種現象的最主要的原因為下列何者？ (A)國界畫分不當 (B)宗教信仰不同 (C)語言溝通障礙 (D)種族隔離政策。
8. (A) 右圖為非洲某地區的氣溫雨量圖，由圖中資料加以判斷，該地區的氣候類型應該為下列何者？ (A)溫帶地中海型氣候 (B)熱帶莽原氣候 (C)熱帶雨林氣候 (D)高地氣候。



9. (D) 非洲的經濟活動以農礦居多，為世界各大洲中發展較慢的地區。請問：該地區主要對外輸出的農產品為下列何者？ (A)稻米 (B)小麥 (C)蘋果 (D)可可。
10. (A) 澳洲的畜牧業發達，但大分水嶺山脈以西的地區降雨較少，如右圖所示，當地居民利用下列哪種水源，供應牧場所需的用水？ (A)自流井 (B)灌溉渠道 (C)海水淡化 (D)坎井。



11. (C) 我國的邦交國吐瓦魯因為地勢低，平均高度僅 4.5 公尺，因此受到海面上升的威脅甚大。請問：該國最可能為何種性質的島嶼？ (A)大陸島 (B)火山島 (C)珊瑚礁島 (D)沙洲島。
12. (A) 下圖為澳洲人口分布圖，其中澳洲中西部人口分布稀疏的原因為何？ (A)氣候乾燥 (B)交通不便 (C)地震頻繁 (D)產業落後。



13. (B) 紐西蘭位於環太平洋的火山地震帶上，這對當地的影響主要為何？ (A)面積狹小 (B)山地地形 (C)冰河地形 (D)草原廣大。
14. (B) 澳洲面積廣大，但是受到自然環境的影響，以何處為主要精華區，人口集中且產業發達？ (A)大分水嶺 (B)東南沿海平原 (C)西部古老高原 (D)南部海域離島。
15. (D) 紐澳地區早期曾為哪一國的殖民地，因此其文化特色和經濟發展深受該殖民母國的影響？ (A)美國 (B)法國 (C)德國 (D)英國。
16. (B) 南、北極兩地同處於地球極端點，形成各種不同的區域特色。下列有關這兩個地方的比較，何者錯誤？

	北極點	南極點
(A)緯度	北緯 90 度	南緯 90 度
(B)性質	陸地	海洋
(C)永晝時間	6 月	12 月
(D)極區溫度	較高	較低

新北市立鳳鳴國民中學（九年級）（九下）補考題庫

地理

科試卷

年

班

號

姓名：

17. (C) 極區的極光景象相當絢麗，讓人彷彿置身於人間仙境，因此被稱為「幸福之光」。請問：有關極區環境的敘述，下列何者正確？
(A) 降雨量多 (B) 闊葉林廣布
(C) 寒漠景觀 (D) 蒸發旺盛。
18. (B) 隨著跨國企業的擴張，美國的麥當勞速食也進軍了西亞國家。在當地的麥當勞為適應其文化特色，因此沒有推出何種漢堡？
(A) 鮮蝦漢堡 (B) 豬肉漢堡
(C) 雞腿漢堡 (D) 牛肉漢堡。
19. (A) 全球化成為現代經濟的特色，下列有關全球經濟的敘述，何者正確？
(A) 全球各國的經濟發展受其他國家影響
(B) 全球商品的貿易使用統一貨幣
(C) 全球各國自行生產所需產品
(D) 全球實施以物易物的貿易制度。
20. (D) 下列何種現象使得世界各地的往來更加密切，國際間的相互關係也日益錯綜複雜？
(A) 工業化 (B) 都市化
(C) 區域化 (D) 全球化。
21. (C) 全球化過程中，跨國企業將生產基地分散至不同的國家或地區，其主要目的為下列何者？
(A) 均衡區域發展 (B) 促進國內消費
(C) 降低生產成本 (D) 降低國內失業率。
22. (C) 近年來臺灣喝咖啡的風氣相當興盛，已成為許多人的日常生活方式。請問：臺灣店家所販賣的咖啡豆最可能由下列哪一個國家生產？
(A) 英國 (B) 美國
(C) 巴西 (D) 俄羅斯。
23. (D) 有許多跨國企業將其商品銷售到臺灣，使臺灣呈現國際化的市場特色。下列何者不是跨國企業的商品？
(A) 麥當勞漢堡 (B) 任天堂電玩
(C) 愛迪達球鞋 (D) 阿美族項鍊。
24. (B) 全球性經濟活動的運作下，許多經濟性組織紛紛因應而生。請問：下列哪一個組織具有「加強區域內國家合作、增強面對區域外國家的競爭力」的目的？ (A) WTO (B) UN
(C) NAFTA (D) IMF。
25. (D) 人類大規模砍伐熱帶雨林，造成生態系統失衡。請問：全球最大的熱帶雨林區位於何處？ (A) 亞洲南洋群島 (B) 非洲剛果河流域
(C) 歐洲伊比利半島 (D) 南美洲亞馬孫河流域。
26. (B) 近年來北極地區冰層面積逐漸縮小，其原因為何？ (A) 地震 (B) 全球暖化 (C) 臭氧層破洞
(D) 土地荒漠化。

27. (D) 熱帶雨林被譽為「地球之肺」，是因森林具有哪項功能？ (A) 涵養水源 (B) 吸收太陽輻射
(C) 保持生物多樣性 (D) 吸收二氧化碳再轉換成氧氣釋出。
28. (A) 21 世紀以來，地球上各種環境問題愈趨嚴重，甚至影響全人類的存亡。請問：國際社會為了未來的生態環境，提出下列何種目標？
(A) 永續發展 (B) 物盡其用
(C) 加速工業化 (D) 區域發展。
29. (B) 全球暖化所衍生的環境改變為下列何者？
(A) 冰河面積增加 (B) 海水面上升
(C) 海岸線外移 (D) 泥沙淤積旺盛。
30. (D) 全球環境問題相當複雜，且各地區所面臨的挑戰各不相同。依附圖判斷，圖中甲、乙氣候類型的分布區域內，其主要面對的環境問題為何？ (A) 空氣汙染 (B) 臭氧層破洞
(C) 海水面上升 (D) 水資源短缺。

